



17. Pobarvaj 25 %, 40 %, 90 % in 12,5 % kvadrata.


a) 25 %




b) 40 %



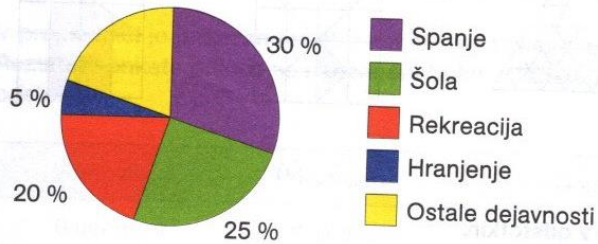
c) 90 %



č) 12,5 %



18. Gašper preživi dan tako, kot kaže krožni diagram. Z okrajšanimi ulomki izrazi deleže njegovih dejavnosti v enem dnevu.



Dejavnost	Delež, izražen z okrajšanim ulomkom
spanje	
šola	
rekreacija	
hranjenje	
ostale dejavnosti	

4. Izrazi v odstotkih.

a) $0,06 =$ _____ b) $0,41 =$ _____ c) $0,8 =$ _____

č) $0,95 =$ _____ d) $1,07 =$ _____ e) $4,13 =$ _____

5. Zapiši z decimalno številko.

a) $3 \% =$ _____ b) $17 \% =$ _____ c) $50 \% =$ _____

č) $52 \% =$ _____ d) $75 \% =$ _____ e) $113 \% =$ _____

6. Zapiši z ulomkom in ga okrajšaj.

a) $4 \% =$ _____ b) $18 \% =$ _____ c) $45 \% =$ _____

č) $72 \% =$ _____ d) $80 \% =$ _____ e) $120 \% =$ _____


7. Sto učencev so vprašali, kateri letni čas imajo najraje. Odgovori so urejeni v preglednici; izrazi jih z odstotki.

Poletje	Jesen	Zima	Pomlad

Odg.:


8. Pobarvanim delom likov pripiši ustrezno vrednost, izraženo v odstotkih. Rešitve poišči med ponujenimi možnostmi.

Pobarvani del lika	Odstotki	Pobarvani del lika	Odstotki

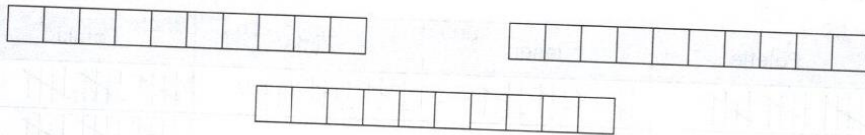


9. Pobarvanim delom likov pripiši ustrezen ulomek, decimalni zapis ali odstotek. Rešitve poišči med ponujenimi možnostmi.

Pobarvani del lika	Delež	Pobarvani del lika	Delež



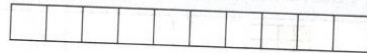
10. V narisanih trakovih pobarvaj in predstavi 20 %, 50 % in 65 %.



11. V preglednici je prikazan rezultat ankete med učenci o tem, kje so preživeli počitnice. Rezultate ankete prikaži na narisanih trakih, v katerega vpiši tudi ustrezno število odstotkov.

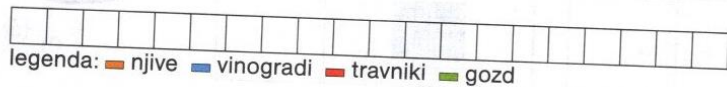
V letovišču	Pri sorodnikih	Doma	Drugje
6 učencev	9 učencev	12 učencev	3 učenci

Reševanje:

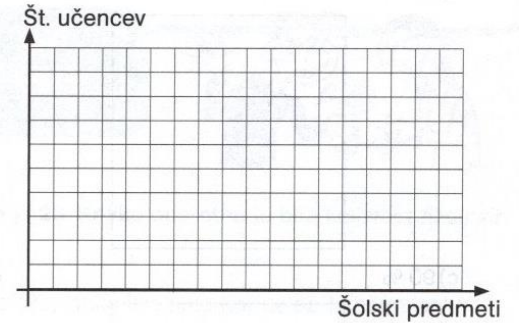
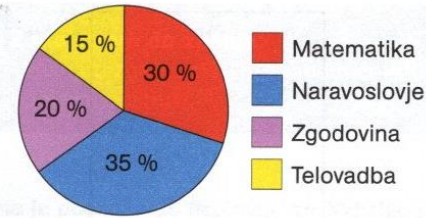


12. Sosed Miha ima eno petino posestva preoranega v njive, na desetini posestva goji vinsko trto, četrtno posestva pa je namenil za travnike. Preostali del posestva je poraščen z gozdom. Izrazi posamezne dele posestva v odstotkih, jih predstavi na narisanih trakih in vpiši ustrezno število odstotkov.

Reševanje:



13. Pri izbiri najljubših predmetov se je 100 učencev odločilo tako, kot kaže krožni diagram. Predstavi priljubljenost šolskih predmetov s stolpčnim diagramom.



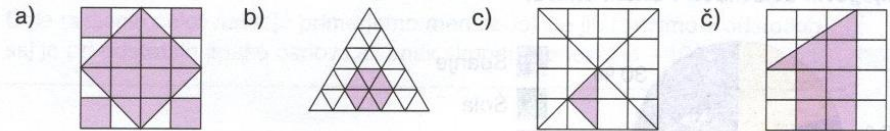
14. Zapiši ulomke kot decimalno število, ga zaokroži na stotine in izrazi v odstotkih.

a) $\frac{1}{6} =$

b) $\frac{7}{12} =$

c) $\frac{9}{23} =$

15. Pobarvane dele likov izrazi v odstotkih.



16. Pobarvane dele krogov izrazi v odstotkih.

