

PISNO PREVERJANJE ZNANJA

Pisno množenje, pisno deljenje, številski izrazi, deli celote, simetrija, liki in telesa

IME: \_\_\_\_\_

DATUM: \_\_\_\_\_



1. Deli.

6/

$846 : 2 =$

$746 : 2 =$

$3868 : 8 =$

$861 : 7 =$

$167 : 3 =$

$120 : 40 =$

2. Zmnoži.

3/

$\underline{214} \cdot 2$

$\underline{2936} \cdot 9$

$\underline{185} \cdot 40$

3. Izračunaj številске izraze.

4/

$56 : 7 + 30 =$  \_\_\_\_\_

$80 - 30 : 5 =$  \_\_\_\_\_

$6 \cdot 7 + 40 : 5 =$  \_\_\_\_\_

$(42 + 22) : (2 \cdot 4) + 9 =$  \_\_\_\_\_

4. Na predstavi je polovica otrok ploskala. Ostalih 12 je vzklikalo hura. Koliko otrok je bilo na predstavi?

R.:

O.: \_\_\_\_\_ . 2/







5. Petkratnik števila 861 povečaj za količnik števil 6056 in 8. Katero število dobiš?

R.:

O.: \_\_\_\_\_ 4/

6. Dopolni preglednico.

18/

LIK	IME	ŠTEVILO STRANIC	ŠTEVILO OGLIŠČ
			
			
			
			
			
			


7. Pravilno obkroži.

4/

Kocka in kvader imata po 8 robov.	RES JE	NI RES
Kvader ima 6 mejnih ploskev.	RES JE	NI RES
Nasprotni mejni ploskvi pri kocki sta različni.	RES JE	NI RES
Stožec je oglato telo.	RES JE	NI RES

8. Likoma nariši simetrale.

6/



9. Izračunaj celoto ali dele celote.

6/

$$\frac{1}{8} \text{ od } \underline{\hspace{2cm}} = 8$$

$$\frac{1}{4} \text{ od } 20 = \underline{\hspace{2cm}}$$

$$\frac{1}{2} \text{ od } \underline{\hspace{2cm}} = 3$$

$$\frac{1}{7} \text{ od } 56 = \underline{\hspace{2cm}}$$

$$\frac{1}{10} \text{ od } \underline{\hspace{2cm}} = 5$$

$$\frac{1}{5} \text{ od } 45 = \underline{\hspace{2cm}}$$

53T

