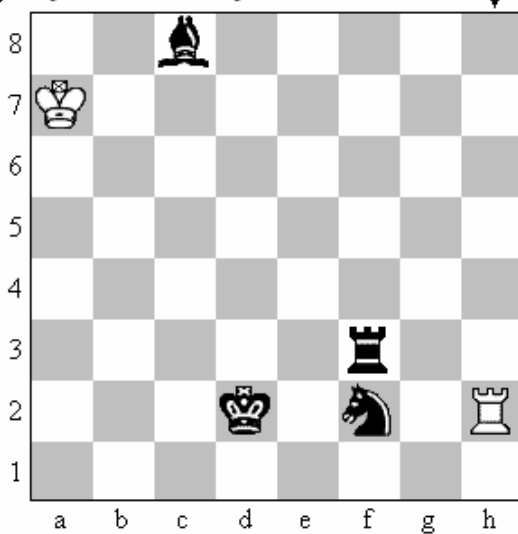


B1


NAVODILO: najdi potezo črnega, po kateri bela figura nima več nobenega prostega polja!

61) Ujemi belo trdnjavo v kletko! ▼



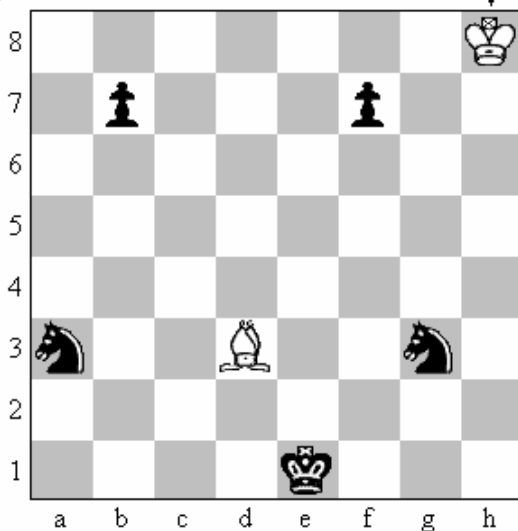
Rešitev: 1)

62) Ujemi belo trdnjavo v kletko! ▼



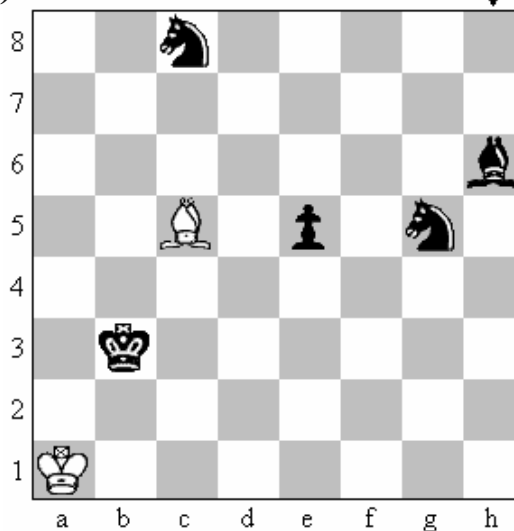
Rešitev: 1) ...

63) Ujemi belega lovca v kletko! ▼



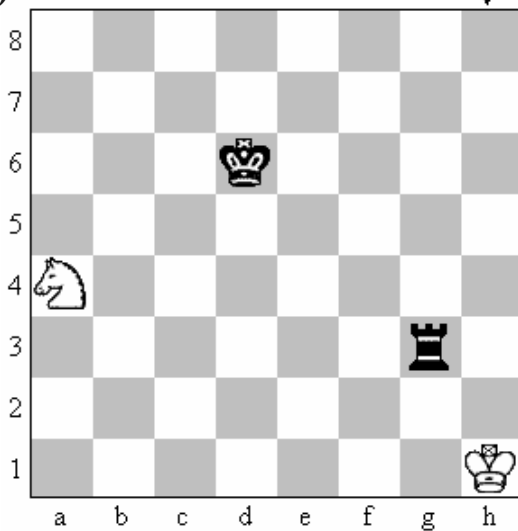
Rešitev: 1)

64) Ujemi belega lovca v kletko! ▼



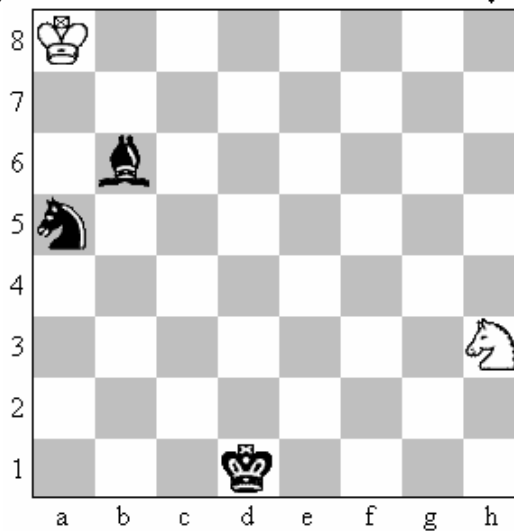
Rešitev: 1) ...

65) Ujemi belega skakača v kletko! ▼



Rešitev: 1) ...

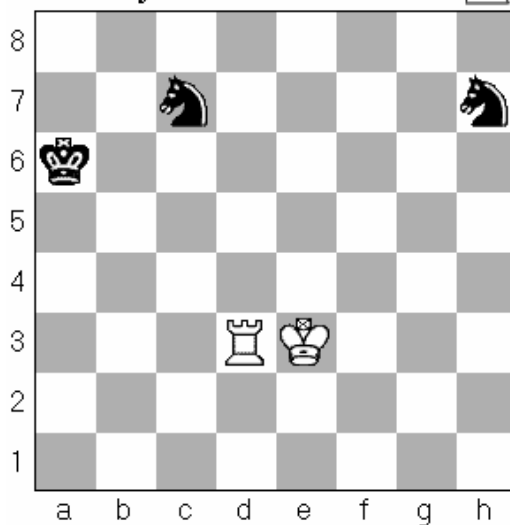
66) Ujemi belega skakača v kletko! ▼



Rešitev: 1) ...

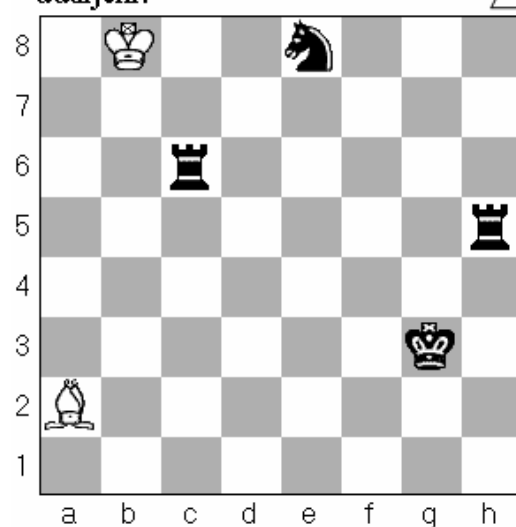
B2

67) Beli odigra Td3-d7. Kateri figuri sta udarjeni?




Odgovor: _____, _____

68) Beli odigra La2-f7. Kateri figuri sta udarjeni?



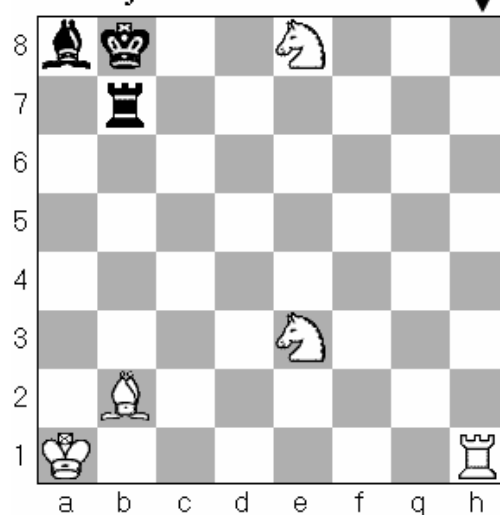
Odgovor: _____, _____

69) Beli odigra Sc6-e5. Katere figure so udarjene?



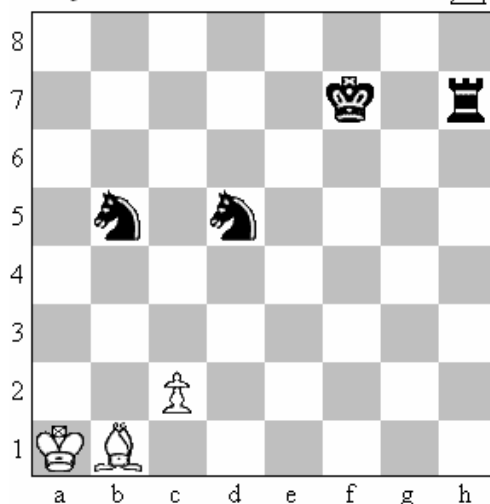
Odgovor: _____, _____, _____

70) Črni odigra Tb7-e7. Katere figure so udarjene?



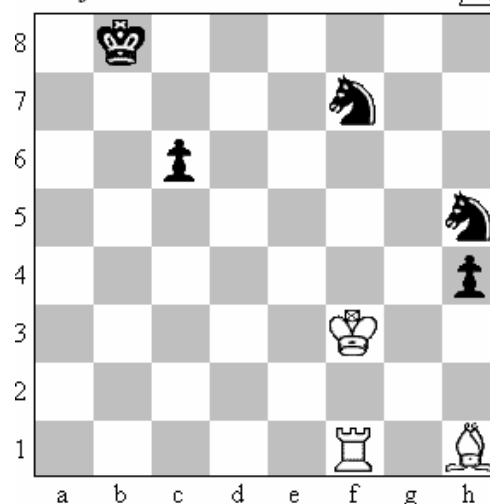
Odgovor: _____, _____, _____

71) Beli odigra c2-c4. Katere figure so udarjene?




Odg.: _____, _____, _____

72) Beli odigra Kf3-g4. Katere figure so udarjene?



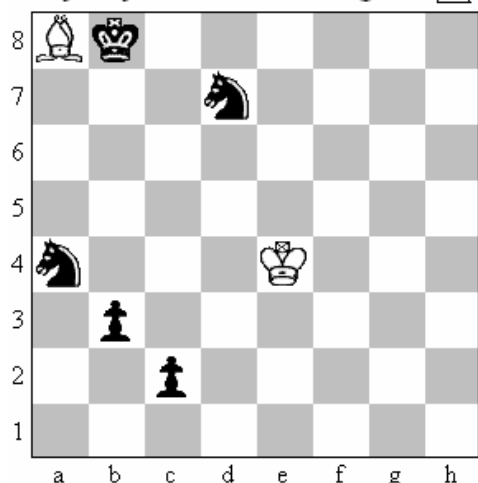
Odg.: _____, _____, _____

73) Igraj samo z belo trdnjavo!
Najhitreje vzemi vse črne figure! △



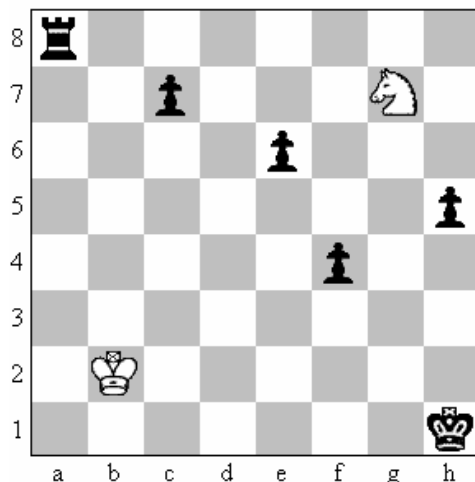
Rešitev: 1) _____ 2) _____ 3) _____
4) _____ 5) _____ 6) _____ 7) _____

75) Igraj samo z belim lovцем!
Najhitreje vzemi vse črne figure! △




Rešitev: 1) _____ 2) _____ 3) _____
4) _____ 5) _____ 6) _____ 7) _____

77) Igraj samo s skakačcem!
Najhitreje vzemi vse črne figure! △




Rešitev: 1) _____ 2) _____ 3) _____
4) _____ 5) _____ 6) _____ 7) _____

74) Igraj samo z damo!
Najhitreje vzemi vse črne figure! △



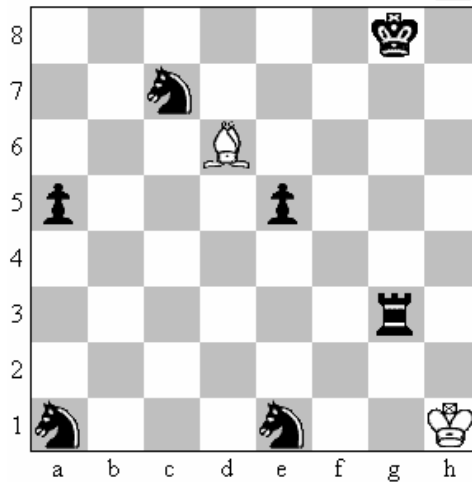
Rešitev: 1) _____ 2) _____ 3) _____
4) _____ 5) _____ 6) _____ 7) _____

76) Igraj samo z belim kmetom!
Najhitreje vzemi vse črne figure! △



Rešitev: 1) _____ 2) _____ 3) _____
4) _____ 5) _____ 6) _____ 7) _____

78) Igraj samo z belim lovцем!
Najhitreje vzemi vse črne figure! △



Rešitev: 1) _____ 2) _____ 3) _____
4) _____ 5) _____ 6) _____ 7) _____