

115) Postavi pozicijo na šahovnico in reši nalogo!

Beli: Kh1, Lb3, Sc4, Sg6, g2, h2

Črni: Kg8, Dd8, Ta1, Ta6, Lb1, g7, h7

Kdor je na potezi, matira nasprotnika v eni potezi!

Rešitev: BELI: 1)

ČRNI: 1)

116) Postavi pozicijo na šahovnico in reši nalogo!

Beli: Kh6, Tf8, Lb2, Sc3, Sd6

Črni: Kh8, Dg8, Tb6, Ta5, Sd6

Kdor je na potezi, matira nasprotnika v eni potezi!

Rešitev: BELI: 1)

ČRNI: 1)

117) Postavi pozicijo na šahovnico in reši nalogo!

Beli: Kg1, Dd8, Tg2, Tf1, Le2, Le1, Sh1, f2

Črni: Kh4, Tg5, De5, h3

Kdor je na potezi, matira nasprotnika v eni potezi!

Rešitev: BELI: 1)

ČRNI: 1)

118) Postavi pozicijo na šahovnico in reši nalogo!

Beli: Ka1, Da6, Tb2, Th3, Lc1, a4

Črni: Ka3, Dc3, Lg6, Sd4, b5

Kdor je na potezi, matira nasprotnika v eni potezi!

Rešitev: BELI: 1)

ČRNI: 1)

119) Postavi pozicijo na šahovnico in reši nalogo!

Beli: Ka2, Da3, Lf8, g7

Črni: Kh6, Tf2, Tb1, Lf5, c2, h5

Kdor je na potezi, matira nasprotnika v eni potezi!

Rešitev: BELI: 1)

ČRNI: 1)

120) Postavi pozicijo na šahovnico in reši nalogo!

Beli: Kd8, Dh8, Tg8, Th1, Lg1

Črni: Ka1, Te7, Lg5, Sd6, a2, b2

Kdor je na potezi, matira nasprotnika v eni potezi!


Rešitev: BELI: 1)

ČRNI: 1)

C1

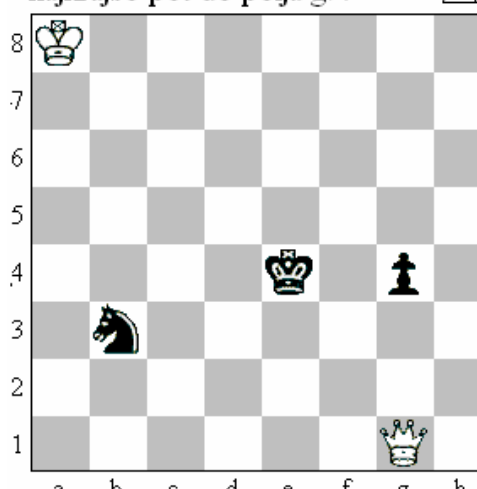
NAVODILO (velja za vse naloge): izogibati se moraš poljem, na katera delujejo črne figure. Vzeti ne smeš nobene črne figure! Črni kralj ne sme biti v šahu!

121) Igraj samo z belo damo. Najdi najkrajšo pot do polja a8!




R: 1. ____ 2. ____ 3. ____ 4. ____ 5. ____

122) Igraj samo z belo damo. Najdi najkrajšo pot do polja g7!



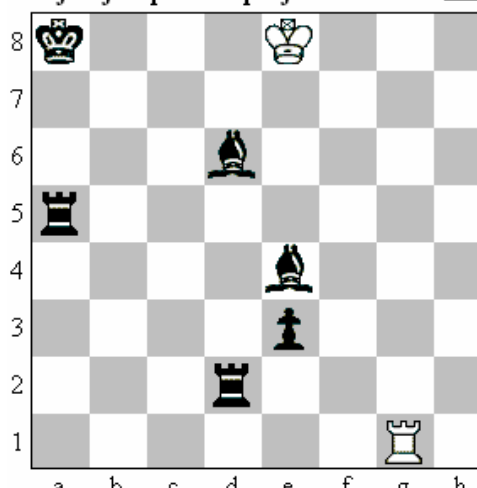
R: 1. ____ 2. ____ 3. ____ 4. ____ 5. ____

123) Igraj samo z belo damo. Najdi najkrajšo pot do polja e5!



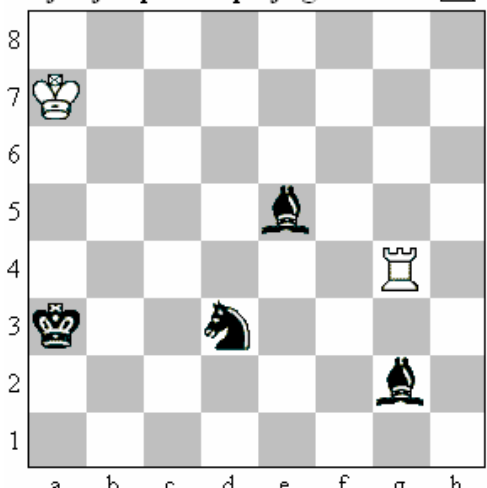
R: 1. ____ 2. ____ 3. ____ 4. ____ 5. ____

124) Igraj samo z belo trdnjavo! Najdi najkrajšo pot do polja b6!




R: 1. ____ 2. ____ 3. ____ 4. ____ 5. ____

125) Igraj samo z belo trdnjavo! Najdi najkrajšo pot do polja g1!



R: 1. ____ 2. ____ 3. ____ 4. ____ 5. ____

126) Igraj samo z belim lovцем. Najdi najkrajšo pot do polja d7!




R: 1. ____ 2. ____ 3. ____ 4. ____ 5. ____

C2


NAVODILO (velja za vse naloge): izogibati se moraš poljem, na katera delujejo črne figure. Vzeti ne smeš nobene črne figure! Črni kralj ne sme biti v šahu!

127) Igraj samo z belim lovцем. Najdi najkrajšo pot do polja h8! △



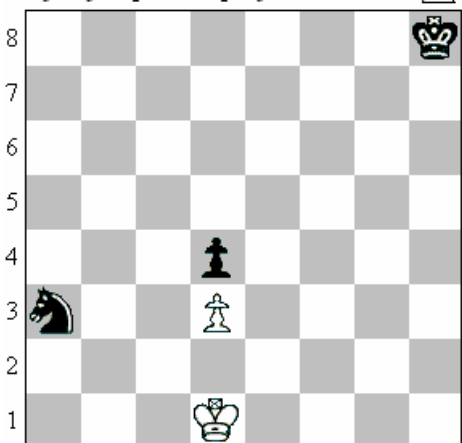
Rešitev: 1) _____ 2) _____ 3) _____
4) _____ 5) _____ 6) _____ 7) _____

128) Igraj samo z belim skakačem. Najdi najkrajšo pot do polja h8! △




Rešitev: 1) _____ 2) _____ 3) _____
4) _____ 5) _____ 6) _____ 7) _____

129) Igraj samo z belim kraljem. Najdi najkrajšo pot do polja a8! △



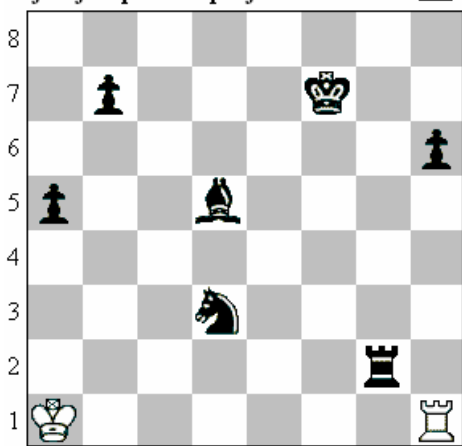
Rešitev: 1) _____ 2) _____ 3) _____
4) _____ 5) _____ 6) _____ 7) _____

130) Igraj samo z belim skakačem. Najdi najkrajšo pot do polja f1! △




Rešitev: 1) _____ 2) _____ 3) _____
4) _____ 5) _____ 6) _____ 7) _____

131) Igraj samo z belo trdnjavo. Najdi najkrajšo pot do polja a8! △



Rešitev: 1) _____ 2) _____ 3) _____
4) _____ 5) _____ 6) _____ 7) _____

132) Igraj samo z belim kraljem. Najdi najkrajšo pot do polja h5! △



Rešitev: 1) _____ 2) _____ 3) _____
4) _____ 5) _____ 6) _____ 7) _____