

PANONSKA NIŽINA

S pomočjo zemljevida določi lego Panonske nižine.

Pomagaj si s skico v učbeniku na strani 63.

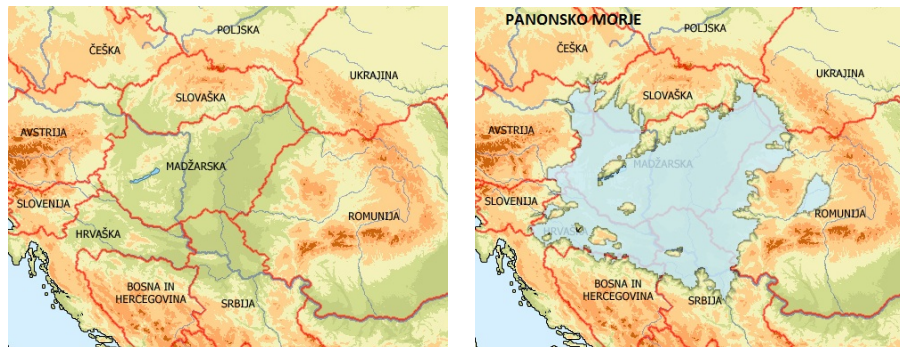
1. LEGA

Panonska nižina leži v jugovzhodnem delu Srednje Evrope.
Obdajajo jo Alpe, Dinarsko gorstvo in Karpati.

V kateri državi leži večji del Panonske nižine in v katere države
sega njeno obrobje?

2. NASTANEK

Kotlina je nastala s tektonskim ugrezanjem površja. Udorino je
kasneje zalilo morje, ki je kasneje odteklo.



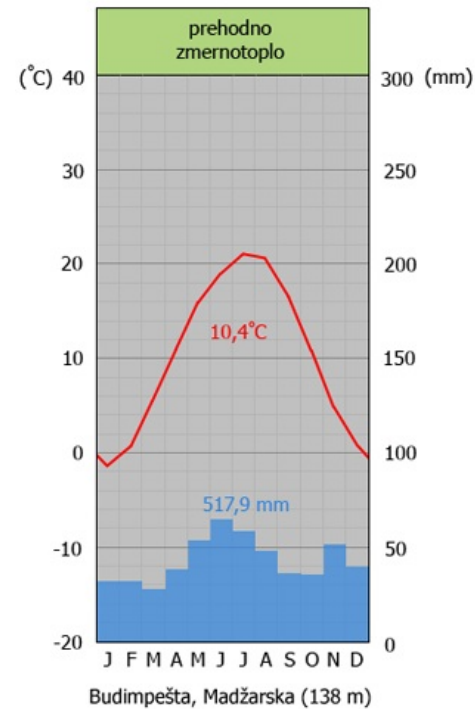
Na dnu so se začele nabirati usedline. V ledenih dobah so
veter in reke nanesele debele sloje finega prahu - PUHLICE

3. ZNAČILNOSTI POVRŠJA

- mokrote in zamočvirjene ravnine ob rekah**
- ravnine na nanosih puhlice**
- panonski osamelci**
- panonska obrobna gričevja**

3. PODNEBJE, RASTJE IN PRST SO MED SEBOJ TESNO POVEZANI

a) PODNEBNE ZNAČILNOSTI



Oglej si klimogram in opiši značilnosti podnebja, ki prevladuje v Panonski nižini!



Madžari so po pridelavi koruze med vodilnimi na svetu.



Paprika je simbol madžarskega kmetijstva in madžarske kuhinje. Madžarska je po pridelavi paprike vodilna sila na svetu. Največ je pridelajo na v okolici Szegeda in Kalocsa na jugu države.

Naravno rastlinstvo je stepa, gozdovi zaradi pomajkanja padavin uspevajo le ob rekah in v višje ležečih predlih osamelcev in obrobnih gričevij.

POVEZAVA: PUHLICA - ČERNOZJOM



Puhlica na Madžarskem

5. ZNAČILNOSTI PANONSKIH REK

Na zemljevidu poišči večje panonske reke.
Ugotovi kje sizzvirajo oziroma od kod pritečejo
v panonsko nižino?

S pomočjo skic v učbeniku na strani 64 ugotovi,
kaj je značilno za tok rek v panonski nižini?

Poglej fotografije in ugotovi s kašnimi nevšečnostmi
se srečujejo ljudje ob rekah.



Kaj meniš, kdaj običajno nastopijo poplave?

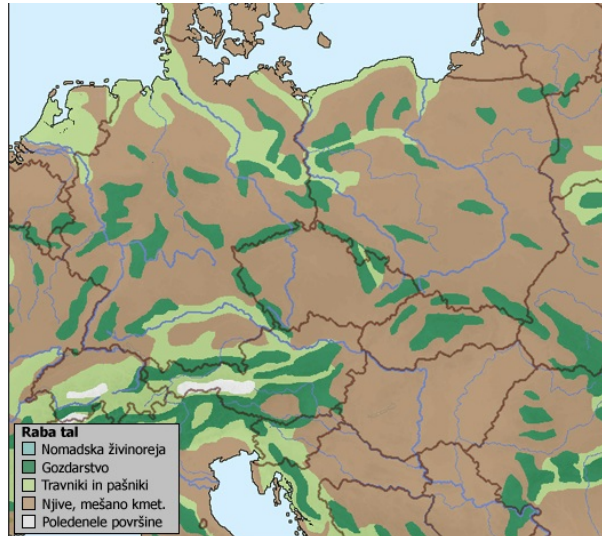
Oglej si fotografijo in ugotovi na kašen način se ljudje zaščitijo
pred poplavami?



- počasen tok zaradi majhnega padca
- zaradi širokih in plitkih strug pogosto poplavlajo
- deli vodotokov so regulirani
- reke obdajajo obrambni nasipi
- kemikalije ki jih uporabljajo v kmetijstvu in industriji ter najrazličnejše odplake povzročajo veliko onesnaženost vode
- večje reke so primerne za rečni promet, med seboj so povezane s umetnimi kanali (plovba, odvajanje odvečne vode)

Poleg poplav so pogost pojav tudi silovite poletne nevihte in suše, ki prav tako povzročajo veliko gospodarsko škodo.

GOSPODARSKE ZNAČILNOSTI PANONSKE NIŽINE



Najpomembnejše kmetijske površine so na Panonski nižini in Nemško-poljskem nižavju.

Kmetijstvo je najpomembnejša gospodarska dejavnost.

DEJAVNIKI: prst, podnebje, površje

Poljedelstvo: žitarice, industrijske rastline, krompir



Sladkorna pesa



Sončnice

Sadjarstvo in vinogradništvo je razvito na osamelcih in obrobnih gričevjih.

Živinoreja: govedoreja, perutninarstvo, prašičjereja

Naravna bogastva: premog, nafta, zemeljski plin

Industrija: prehrambena, kemična, tekstilna, metalurgija

Turizem temelji na: zgodovinskih znamenitostih, termalnih zdraviliščih, vinorodnih območjih, kulinariki ...