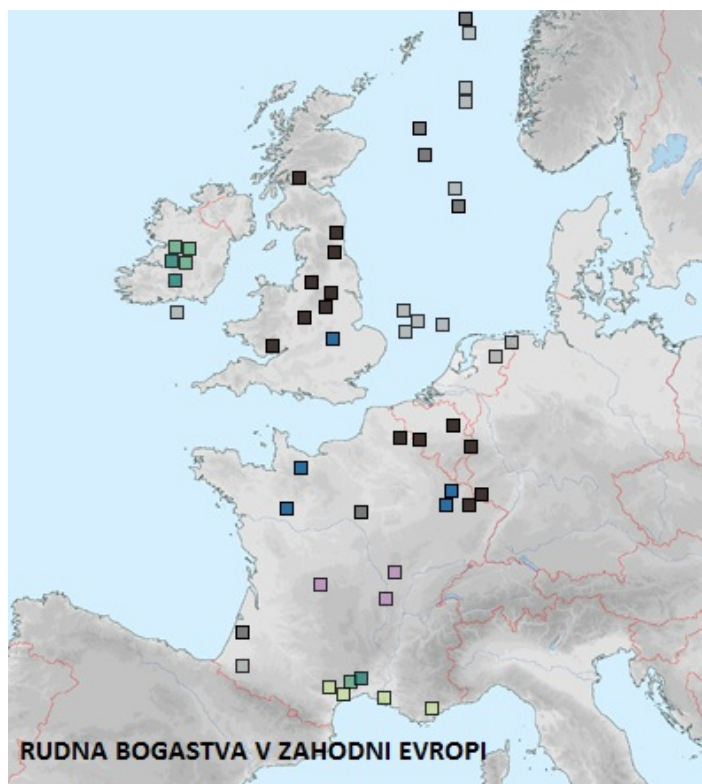


- **Gospodarske Zahodne Evrope - značilnosti industrijskega razvoja nekoč in danes**

**Gospodarstvo Zahodne Evrope je v preteklosti temeljilo na rudnih bogastvih.**



**V atlasu poišči zemljevid z naslovom Zahodna in Srednja Evropa - gospodarstvo in izdelaj legendo. Tako boš ugotovil, katera rudna bogastva izkoriščajo na območju Zahodne Evrope.**

Konec 18. stoletja se je na osnovi različnih iznajdb (**parni stroj**) v **Angliji** začel razvoj industrije. Pomeni, da so stroji vedno bolj začeli nadomeščati ročno delo v obrtnih delavnicah, nastajati so pričele **prve tovarne**.

Najpomembnejši dejavniki, ki so vplivali na industrijski razvoj:

- nahajališča premoga in železove rude,
- gosta poselitev in s tem velika potreba po najrazličnejših izdelkih,
- kolonialna posest zagotavlja poceni surovine in veliko tržišče za industrijske izdelke, kar prinaša velike dobičke,
- bližina pristanišč, plovne reke in razvejana mreža rečnih prekopov ter zgodnja gradnja železniškega omrežja je omogočala hiter in cenen prevoz blaga in surovin.



INDUSTRIJSKI OBRAT JE S  
KANALOM POVEZAN Z REKO



Ena prvih lokomotiv


**Razvoj industrije se je v 19. stoletju razširil tudi na ostale države Vzhodne Evrope.**

## Najpomembnejše industrijske panoge in posledice industrijskega razvoja

Največ ljudi je bilo zaposlenih v premogovništvu, železarstvu in tekstilni industriji.



*Britanski rudarji*



*Bombažni mlini v Lancashiru*

**Višek prebivalstva na podeželju je v mestih  
dobil zaposlitev. Mesta so začela naglo  
naraščati, nastala so obsežna **industrijska  
območja** (industrijske pokrajine).**



**Na zemljevidu v atlasu poišči  
območje, ki je dobilo ime  
Black Country.**

**Kako bi to ime prevedel v slovenski  
jezik?**

**Katera večja mesta najdeš tam?**

**Ob spodnjih slikah razmišljaj, kako so se kazale posledice industrijskega razvoja?  
Bodi pozoren na okolje v katerem so ljudje živeli in delali.**

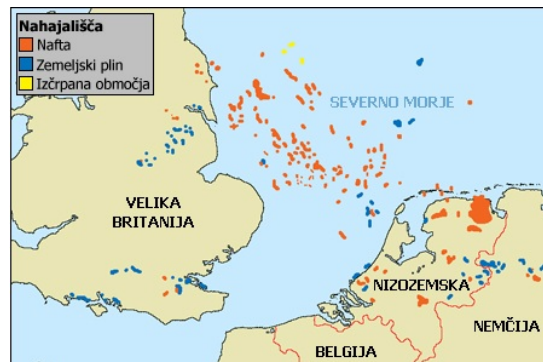


Po drugi svetovni vojni se je začela sestava industrije postopoma spreminjati, s tem pa tudi odnos do okolja.

**Primerjaj skici v učbeniku na strani 99.  
Kaj opaziš?**

**Nove industrijske panoge ne temeljijo več na izkoriščanju domačih rud, ampak na kvalificirani delovni sili.**

**Premog kot največjega onesnaževalca nadomesti novi energetski vir - NAFTA IN ZEMELJSKI PLIN.**



**Oglej si zemljevid in skico v učbeniku na strani 100 in ugotovi na kakšen način poteka pridobivanje nafte in zemeljskega plina.**

Med nove industrijske dejavnosti, ki so jih začeli razvijati po drugi svetovni vojni sodijo avtomobilska, letalska in elektrotehnična industrija, ter industrija izdelkov za široko potrošnjo.



*Avtomobilsko podjetje Rolls Royce izdeluje prestižne avtomobile.*




*Največje potniško letalo na svetu Airbus A380 je prvič poletelo leta 2007*



Francoski vlaki sodijo med najhitrejše na svetu

● Eurostar



*Belgijska čokolada je ena najbolj cenjenih na svetu.*

Razmisli in naštej še nekaj avtomobilskih znamk, ki jih izdelujejo v državah Zahodne Evrope.

## Gospodarstvo danes.

### Z izjemo Irske (?), so vse države Zahodne Evrope danes visoko industrijsko razvite.

Z izjemo Irske kmetijstvo zaposluje le dobre 3 % prebivalstva, industrija pa 30 %. Industrija je visoko tehnološko razvita z dobro elektrotehniko, telekomunikacijami, strojno, računalniško, letalsko in avtomobilsko industrijo. V zahodni Evropi imajo sedež večja podjetja. V Veliki Britaniji so Jaguar, Rolls Royce, Vodafon in druge. Telekomunikacije v Franciji razvijata Sagem in Alcatel, letalsko industrijo Airbus, računalniško Ubisoft, avtomobilsko pa Peugeot, Citroen in Renault. Iz Nizozemske izhajata naftna družba Shell in elektrotehnična Philips.

### Večina prebivalstva živi od storitvenih dejavnosti.

Največ ljudi Zahodne Evrope je zaposlenih v storitvenih dejavnostih. Te dejavnosti so trgovina, turizem, promet, bančništvo, sodstvo in druge podobne dejavnosti. Luksemburg je z ugodno davčno politiko postal v zadnjih desetletjih pomembno finančno središče s številnimi bankami. Večina pomembnih evropskih institucij, ki zaposluje veliko ljudi, se nahaja na Nizozemskem in v Belgiji.

Francija je v svetovnem merilu turistično najbolj razvita in obiskana država. Letno jo obišče 30 milijonov turistov. Najbolj zaželena so mondena letovišča na Azurni obali ob Sredozemskem morju, smučarska središča v Alpah, Pariz in Disneyland.

**Preberi besedilo v učbeniku na strani 100 in zapiši, kaj bi si veljalo ogledati v Parizu in Londonu?**