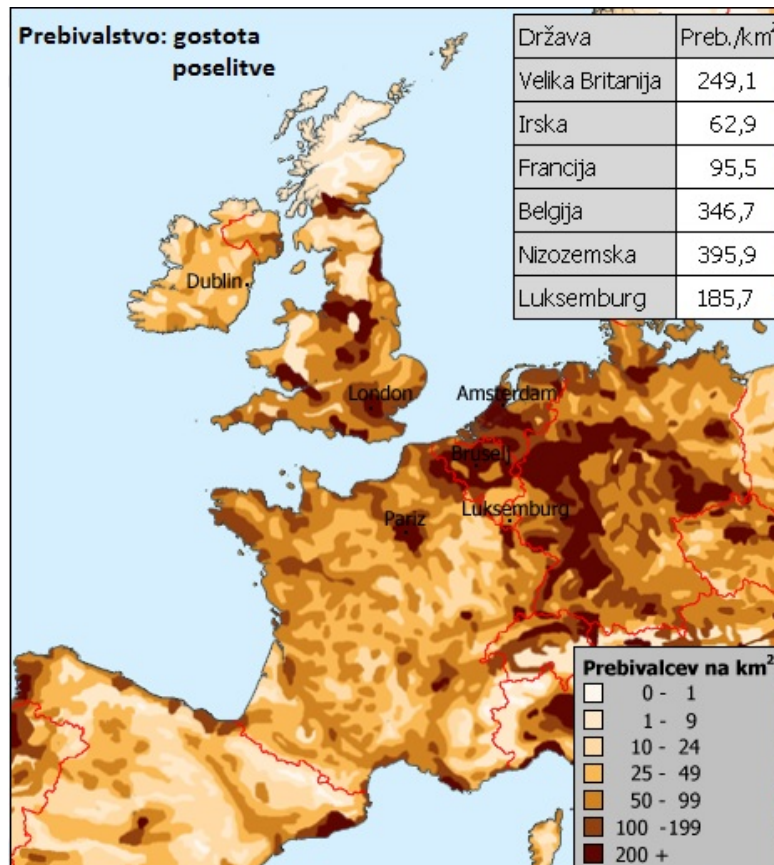


Poselitev in prebivalstvo Zahodne Evrope



Države Zahodne Evrope sodijo med najgosteje poseljene regije v Evropi.

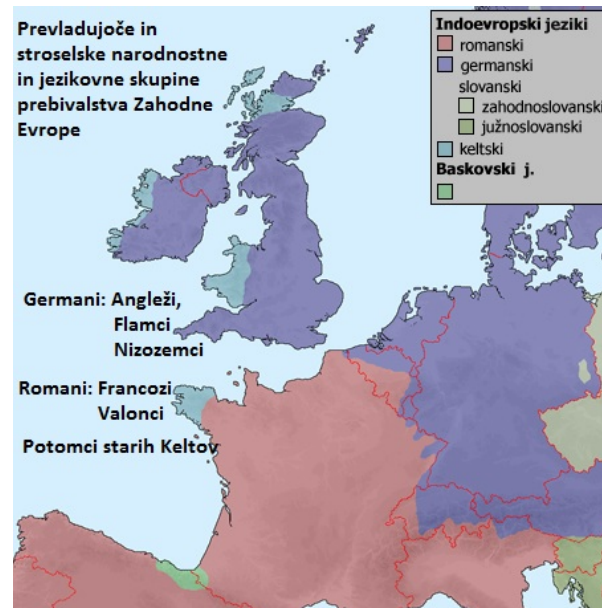
Ovrednoti vpliv naravnih dejavnikov. Bodi pozoren na:

- relief,
- podnebje,
- obmorsko lego

Narodnostna sestava prebivalstva Zahodne Evrope postaja vedno bolj pestra.

Kako je mogoče, da se narodnostna sestava prebivalstva s časom spreminja?

Po narodnostni sestavi večina prebivalstva Zahodne Evrope sodi v tri narodnostne skupine.



S pomočjo zemljevida ugotovi, v katerih državah govorijo germanske oziroma romanske jezike.

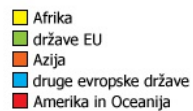
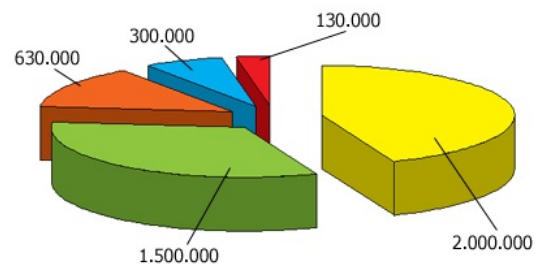
S pomočjo zemljevida v atlasu imenuj območja Zahodne Evrope, kjer so se ohranili keltski jeziki.

Pomagaj si z zemljevidom v učbeniku na strani 103.

Vračamo se k vprašanju, zakaj se narodnostna sestava prebivalstva Zahodne Evrope spreminja?

Ali drugače: "Zakaj je Zahodna Evropa privlačna za priseljence?"

Število priseljencev v Francijo leta 2004



Po drugi svetovni vojni so so prihajali prebivalci iz nekdanjih kolonij. Kasneje so se priseljevali ljudje iz gospodarsko manj razvitih predelov Evrope. Danes prevladujejo priseljenci iz arabskih dežel in Afrike.