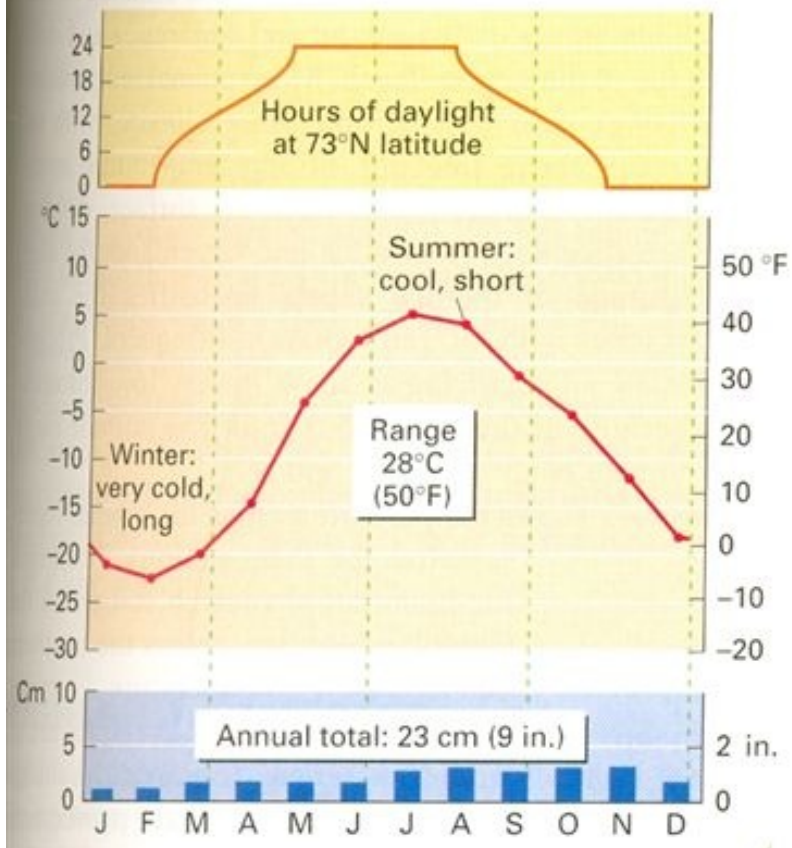


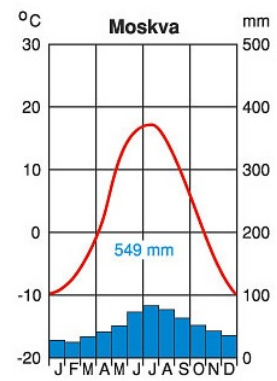
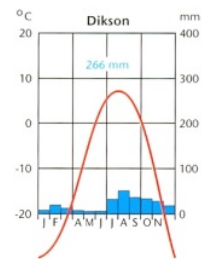
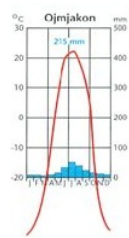
**7.41 Tundra climate** ⑫ Upernavik, Greenland, lat. 73° N, shows a smaller annual range than Fort Vermilion (Figure 7.38).



**Kraj, katerega podnebje prikazuje klimogram leži na 73° severne geografske širine**

**Poveži klimogram in rastlinsko združbo.**

**Določi tip podnebja in rastja.**



## Države Vzhodne Evrope in njihova glavna mesta



Poišči države Vzhodne Evrope in njihova glavna mesta na zemljevidu.

## Vzhodna Evropa in Severna Azija:

- politična razdelitev,
- narodnostna sestava prebivalstva.

## Države Vzhodne Evrope in Severne Azije.

Na vzhodu evropske celine je bila med leti 1945 in 1991 ena sama država - Sovjetska zveza. Največja država na svetu je obsegala še celotno Severno Azijo, dele Jugoahodne Azije in Severne Evrope.



**Zakaj Litvo, Latvijo in Estonijo štejemo k Severni Evropi?**

**Katero/katere azijske državo/države lahko glede na dogovorjeno mejo med Evropo in Azijo delno segajo v Evropo?**

## Narodnostna sestava prebivalstva držav Vzhodne Evrope.

S pomočjo zemljevida v učbeniku na strani 21 ugotovi, kateri veliki narodnostni in jezikovni skupini evropskih narodov pripada večina prebivalstva Vzhodne Evrope.



V katero narodnostno in jezikovno skupino sodijo Moldavci?

Država	Površina držav (km <sup>2</sup> )	Število prebivalcev (oc. 2007)	Gostota poseljenosti (preb./km <sup>2</sup> )
Rusija	17.075.200	140.041.247 (skupaj z azijskim delom)	8,20
Belorusija	207.600	9.648.533	46,48
Ukrajina	603.628	45.700.395	75,71
Moldavija	33.843	4.320.748	127,67
Slovenija	20.273	2.005.692	99,11
Evropska unija	4.324.782	491.582.852	113,40

S pomočjo tabele ugotovi, kateri slovanski narod je najštevilčnejši.

## Verska sestava prebivalstva Vzhodne Evrope



S pomočjo zemljevida ugotovi, katera veroizpoved prevladuje v Vzhodni Evropi

S pomočjo tabele v učbeniku na strani 133 primerjaj vzhodnoevropske slovanske jezike. Kaj opaziš?

## **Narodnostna sestava prebivalstva Rusije**

**Poleg Rusov, ki z 80% predstavljajo večinsko prebivalstvo, živijo v Rusiji tudi pripadniki številnih slovanskih in neslovanskih narodov.**

**Neruski narodi živijo predvsem v srednjem Povolžju, na severnem Kavkazu in v Sibiriji.**

**Poišči ta območja na zemljevidu!**

## Ob Volgi živijo muslimanski Tatari, drugi največji narod v Rusiji.



Tatari so potomci turških ljudstev in drugi najštevilčnejši narod v Rusiji. Večinoma poseljujejo območje Povolžja in Sibirije, veliko pa jih živi tudi na območju Ukrajine.

**V Sibiriji živijo številne narodnostne manjšine,  
ki so do danes v veliki meri ohranile  
tradicionalen način življenja.**



*Na območju gorovja Altaj živijo altajska ljudstva.*



*V okolici Urala in polotoku Kola živijo Komi.*



*Na vzhodu Sibirije živijo Eskimi.*



*Na Kamčatki živijo Aleuti*



*V osrednji Sibiriji in na vzhodu živijo Jakuti.*

V Rusiji živijo številne skupine avtohtonega prebivalstva, ki vzdržujejo tradicionalni način življenja in se s težavo prilagajajo modernemu svetu. Običajno živijo v najbolj neprijaznih območjih, predvsem na severu države in Daljnem vzhodu.

**Poišči omenjena območja na zemljevidu.**



**Na zemljevidu v atlasu  
poišči prikazano območje.**

**Na Kavkazu živijo  
številna ljudstva.**

**Leta 1991 so Čečeni  
razglasili samostojnost,  
ki pa je Rusija ni priznala.**

**Danes je ozemlje pod  
rusko vojaško zasedbo  
in prizorišče krvavih  
spopadov**