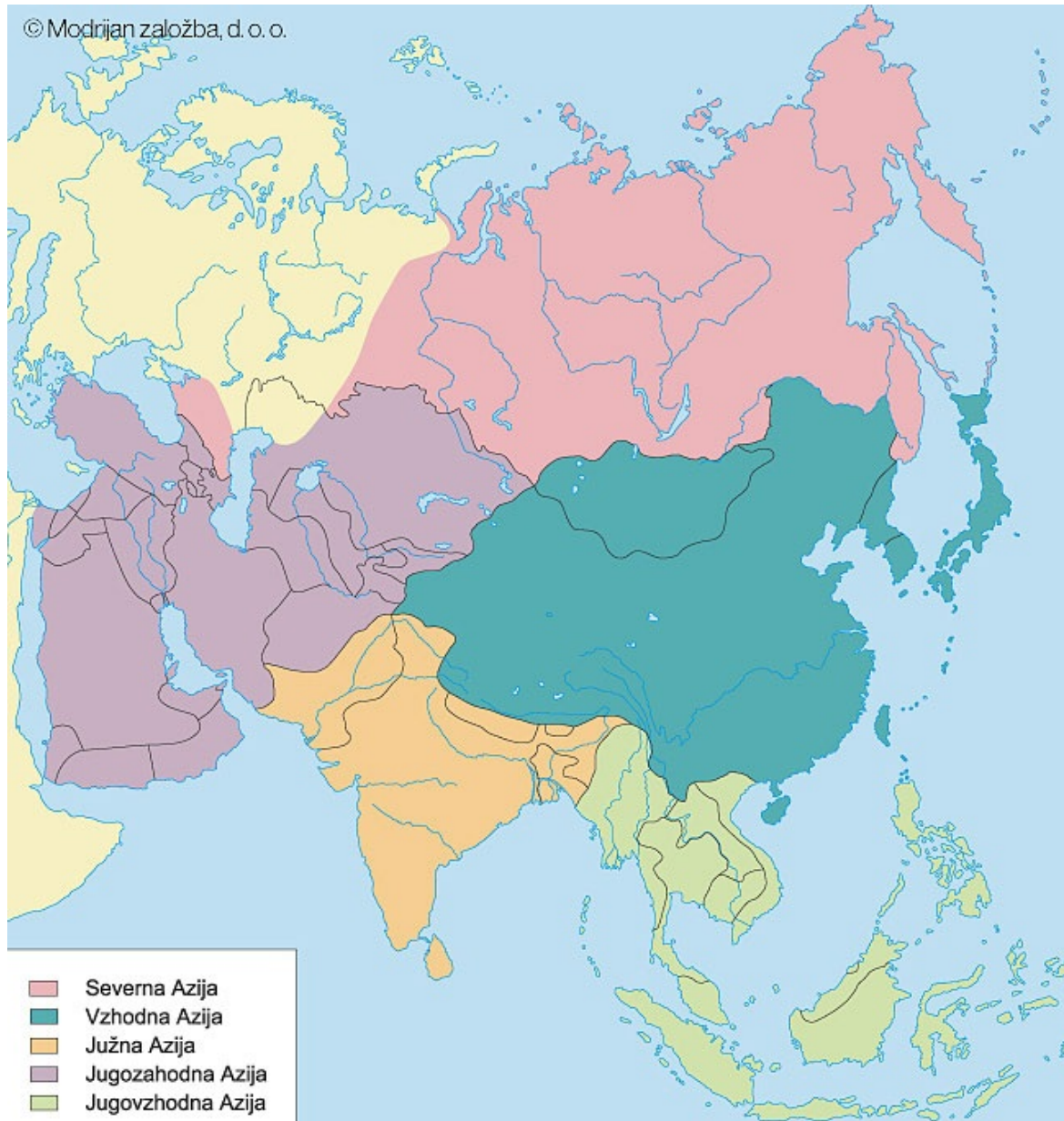


# DELITEV AZIJE NA GEOGRAFSKE ENOTE



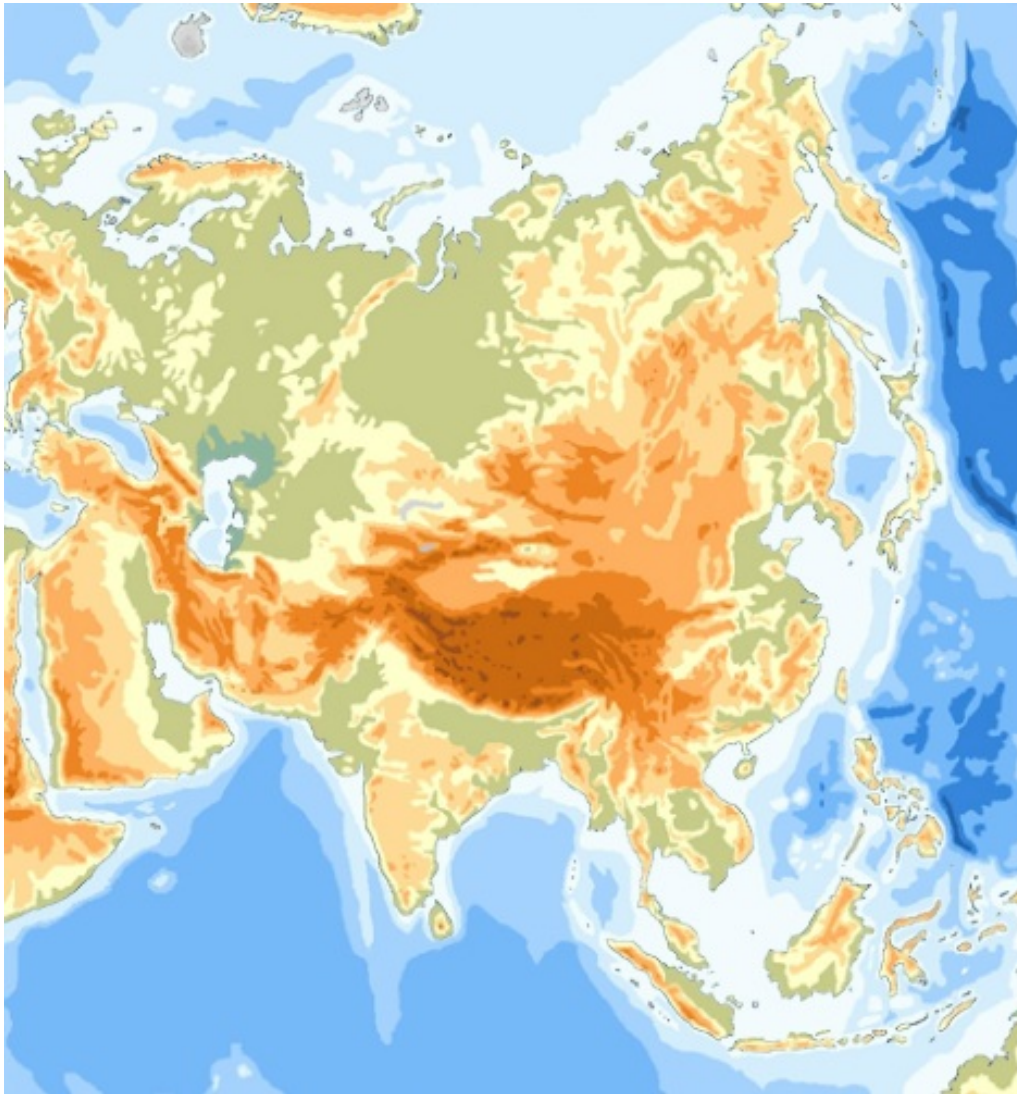
## VZHODNA AZIJA - lega in naravnogeografske enote



S pomočjo zemljevida v atlasu in zemljevida v učbeniku na strani 156 ugotovi, katere države štejemo k Vzhodni Aziji.

Opiši geografsko lego Vzhodne Azije.

Vzhodna Azija leži v zmerno toplem pasu na vzhodnem delu celine, ki jo obliva Tih ocean.



**Primerjaj reliefne značilnosti celinske notranjosti in obalnih predelov.**

# Vzhodna Azija - naravnogeografske enote

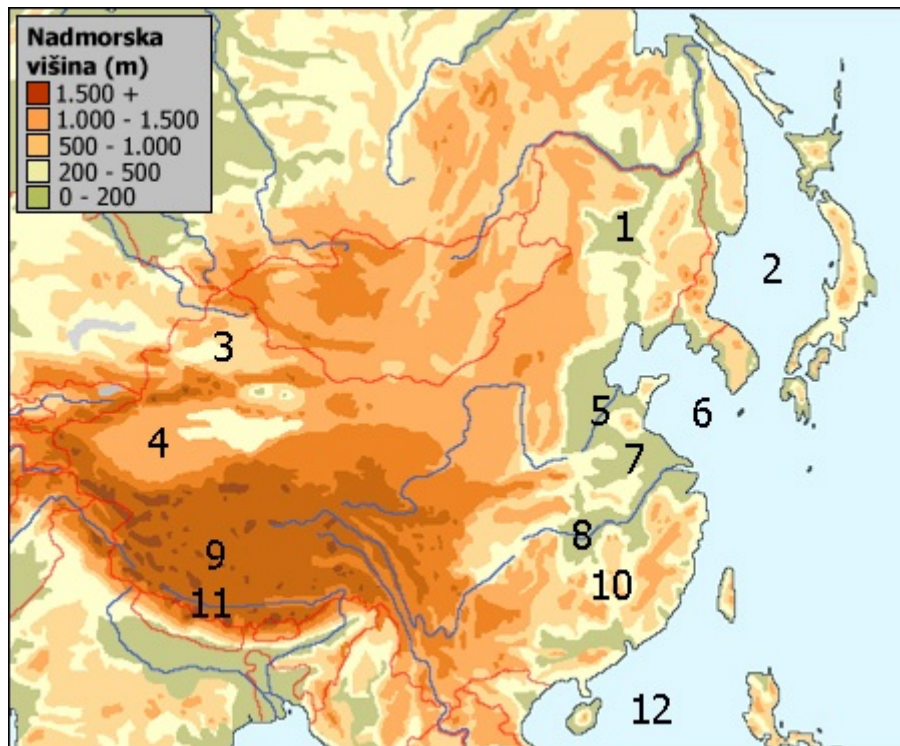
V celinski notranjosti se izmenjujejo visoka gorstva s planotami in kotlinami:

## 1. Puščava Gobi



**Ugotovi, v katere države sega puščava Gobi.**

### 3. Tarimska kotlina

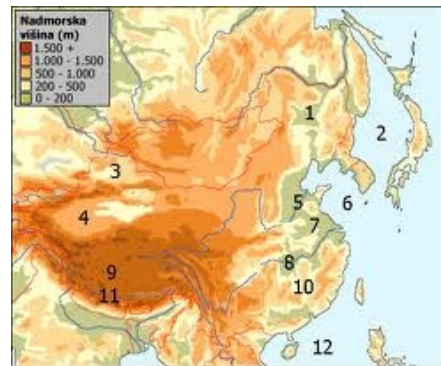


S pomočjo zemljevida v atlasu ugotovi, katera številka označuje Tarimsko kotlino.



Katera puščava leži na območju tarimske kotline?

## 2. Tarimska kotlina in Džungarija



S pomočjo zemljevida v atlasu ugotovi, kateri številki označujeta Tarimsko kotlino in Džungarijo.



Kakšno podnebje bo v teh krajih?

### 3. Tibetanska planota



## 5. Himalaja



**Poišči najvišji vrh Himalaje.**

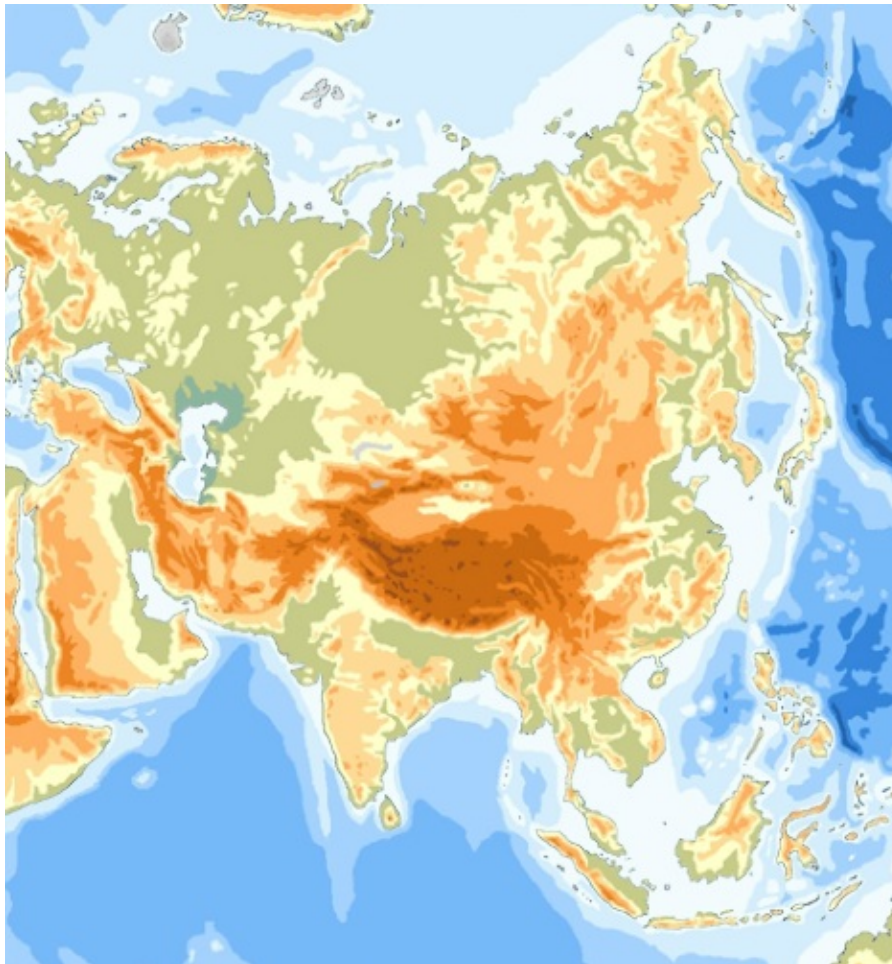
**Na celini so najgosteje naseljena območja ob morju. To so:**

- Mandžurija**
- Korejski polotok**
- Veliko kitajsko nižavje**

**Gosteje poseljene so tudi kotline in doline v Južnokitajskem gorovju.**

**Poišči omenjena območja na zemljevidu v atlasu.**

**Ob obali Vzhodne Azije se od severa proti jugu vlečejo številne otoške skupine.**



**Poišči jih s pomočjo zemljevida v atlasu.**



**S pomočjo zemljevida v atlasu poišči in imenuj večje reke Vzhodne Azije.**