




Katero državo in o kateri delu Azije bomo spoznavali danes?

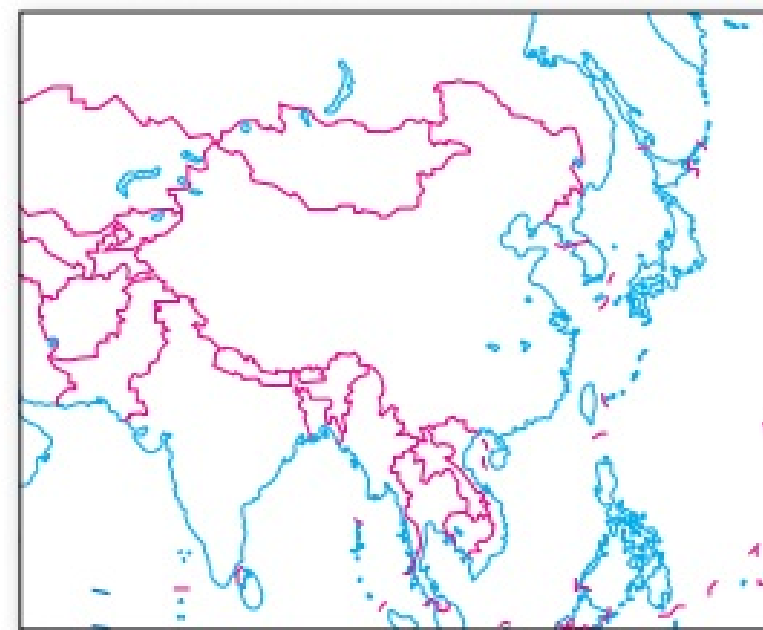
Prve obrambne zidove začnejo graditi Kitajci v 3. stoletju pred našim štetjem. Sedanji je bil zgrajen med 14. in 17. stoletjem, dolg je približno 6500 kilometrov.

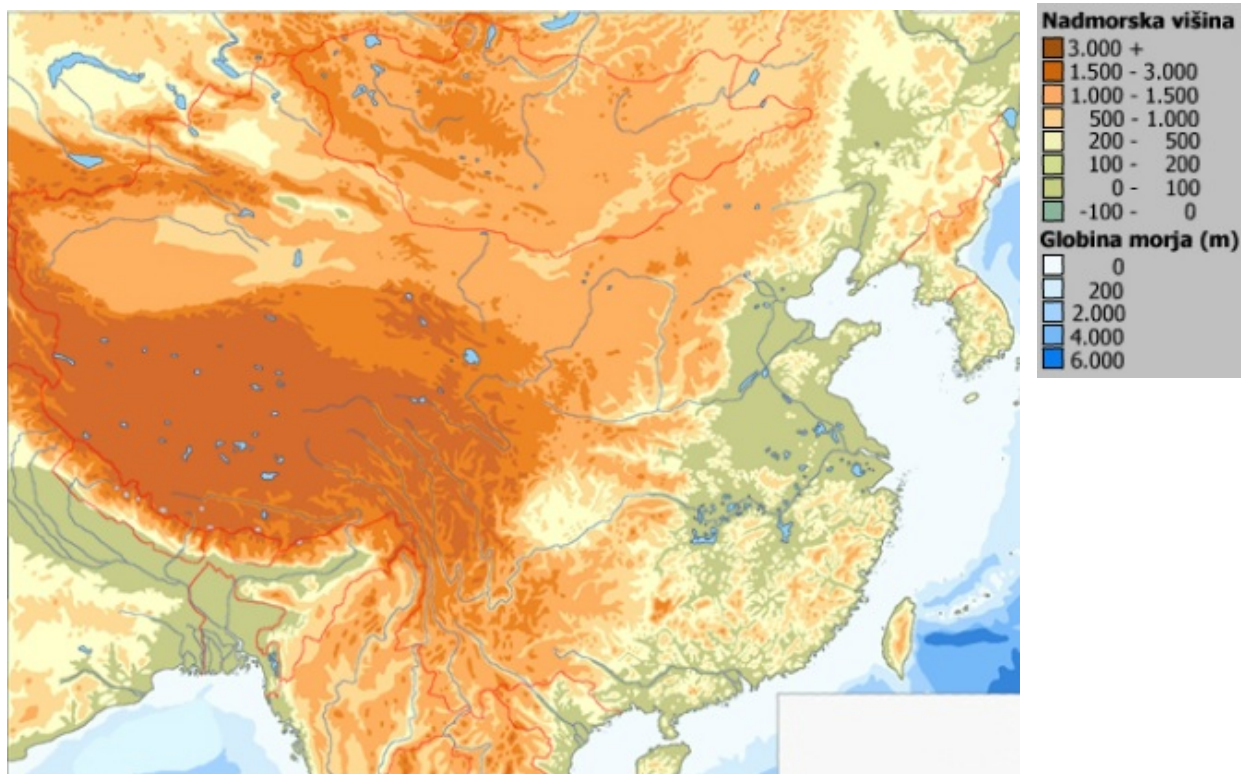
KITAJSKA

 Reši naloge s pomočjo atlasa, leksikona, enciklopedije, interneta ...
Dopolni karto Vzhodne Azije.

Na zemljevidu Vzhodne Azije:

- označi in pobarvaj ozemlje Kitajske
 - vpiši imena njenih sosednjih držav
 - poišči podatke o površini Kitajske ter najnovejše podatke o številu prebivalstva
 - označi največji mesti Šanghaj in Peking
 - ugotovi, kateri športni dogodek bo potekal avgusta leta 2008 v Pekingu.
-
-





S pomočjo zemljevida v atlasu ugotovi, katere velike naravnozemljepisne enote Vzhodne Azije ležijo na območju Kitajske.

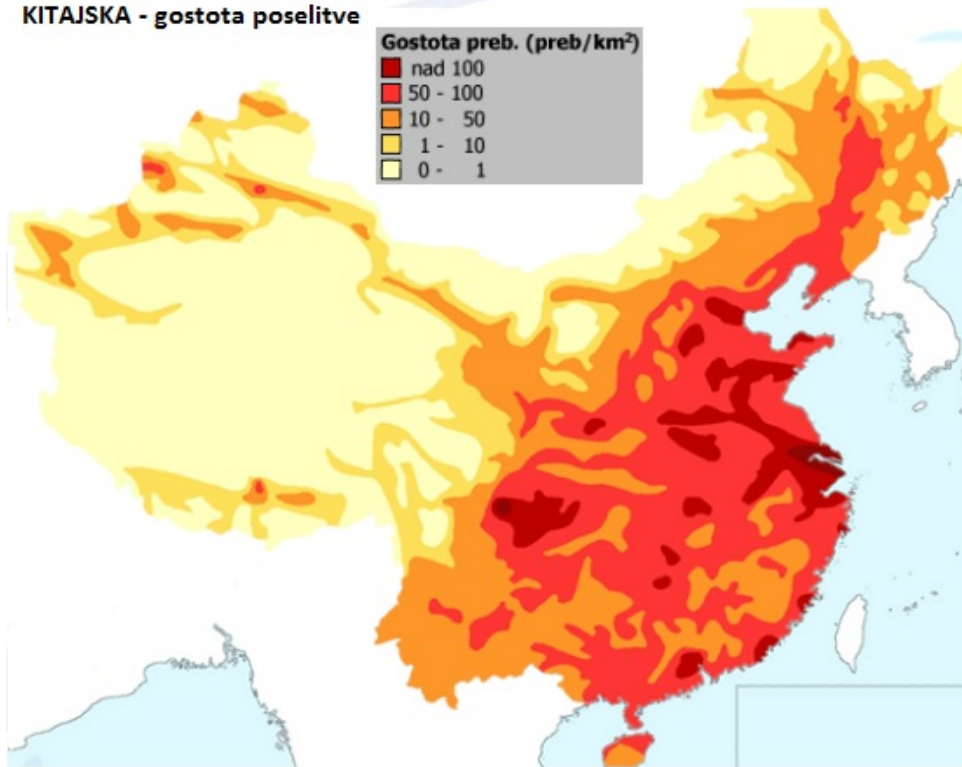


Kitajsko v grobem delimo na Vzhodno (Ožjo) Kitajsko in Notranjo Kitajsko.

Z zgornjima zemljevidoma primerjaj reliefne in podnebne zadržilnosti obeh delov.

Na podlagi ugotovitev sklepaj, kako naravni pogoji vplivajo na poselitev.

KITAJSKA - gostota poselitve



Primerjaj zemljevida in ugotovi poselitvene značilnosti Kitajske.

V Veliko kitajsko nižavje pritekata glavni kitajski reki Huang He (Rumena reka) in Chang Jiang (Jangcekiang ali Modra reka). Na njunih rodovitnih naplavinah se je oblikovalo eno najgosteje poseljenih območij na svetu, na robu pa največji mesti Peking in Šangaj.



Huang He - Rumena reka

Pomisli!

Zakaj rumena reka?

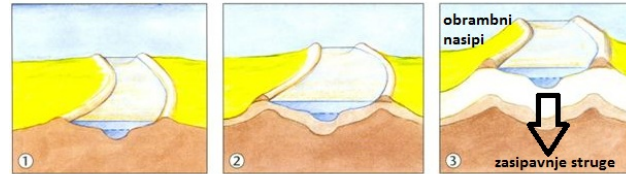
Približno 2/3 Kitajcev živi na območju Rumene in Modre reke predvsem zaradi dobrih pogojev za kmetijstvo.

Vendar pa reki dajeta in jemljeta življenja.

Rumeno reko imenujejo tudi "reka žalovanja" saj so silovite poplave, ki jih povzročajo zahtevale že na milijone življenj.



Kaj je glavni vzrok poplav na Rumeni reki?



Nastajanje obrambnih nasipov v več fazah

V spodnjem toku je gladina reke dvignjena že 20 metrov nad okoliško nižino.

Tako Huang He, kot Jagcekjang prinašata v nižavje gradivo in ga odlagata v rečni strugi. Rečno dno se tako zaradi zasipavanja dviguje in to povzroča poplave.

Možni rešitvi sta obrambni nasipi ali redno čiščenje in poglobljanje struge.



Primerjaj gladino vode v reki z višino nižine po kateri teče.

KITAJSKA - prebivalstvo

Oglej si prizor iz ulice in razreda ter ugotovi značilnost prebivalstva Kitajske.

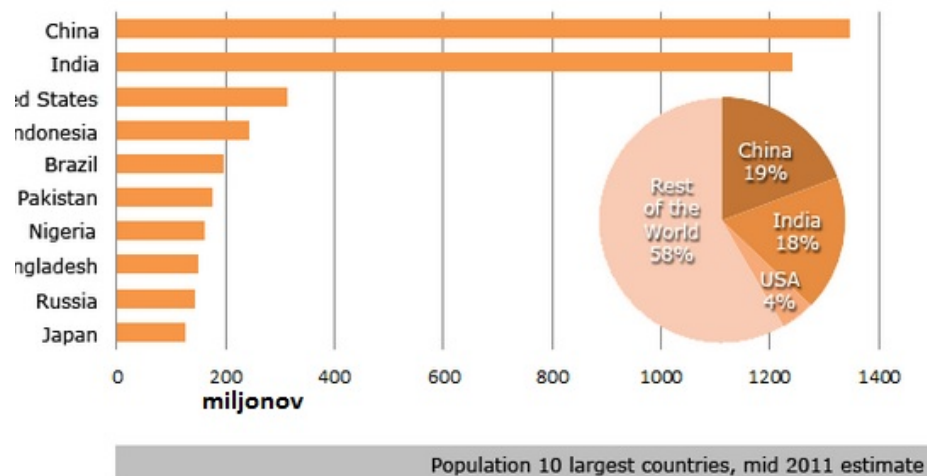


Učilnice so polne otrok



Koliko je vas v razredu?

Koliko učencev šteje najštevilčnejši razred naše šole?



S pomočjo tortnega grafikona ugotovi kolikšen delež človeštva predstavljajo Kitajci.

V kitajski državi živi več kot 1,3 milijarde ljudi, kar je največ na svetu.

Razmišljaj o prednostih in slabostih, ki jih prinaša nagla rast prebivalstva.

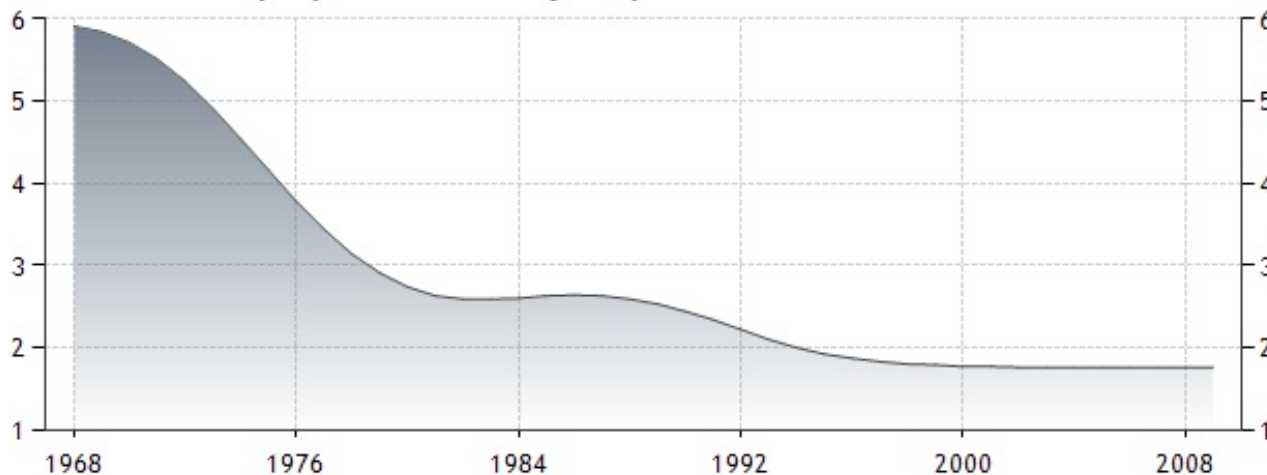
Kaj meniš, zakaj si kitajska vlada že desetletja prizadeva omejiti naraščanje prebivalstva?

Izboljšanje zdravstva in higiene je povzročilo hitro naraščanje prebivalstva. To je prineslo nove težave povezane s prenaseljenostjo: pomanjkanje bivalnih in kmetijskih površin ter s tem pomanjkanje hrane.



Kitajska si prizadeva omejiti hitro rast prebivalstva s strogo demografsko politiko: po zakonu se fantje ne smejo poročiti pred 22-im, dekleta pa pred 20-im letom; država pa mladim priporoča poroko v poznih 20-ih in le enega ali dva otroka.

KITAJSKA - povprečno število rojenih otrok na žensko



S pomočjo grafikona preveri uspešnost prizadevanj kitajske vlade.

Kitajska - značilnosti gospodarskega razvoja

Kitajska je bila v obdobju po drugi svetovni vojni dolgo časa zaostala država. Njeno gospodarstvo je temeljilo na kmetijstvu, katerega glavna naloga je bila prehraniti številno prebivalstvo.

Po letu 1980 se je začel nagel industrijski razvoj, ki temelji na:

- tujem kapitalu (tujci vlagajo denar v izgradnjo tovarn);**
- poceni delavni sili;**
- velikem domačem tržišču;**
- razvoju šolstva in znanosti.**

Še pred desetletjem so svetovne trge preplavljali ceneni kitajski proizvodi.

Danes Kitajska proizvaja vedno več zahtevnejši in dražjih proizvodov.



Šangaj