

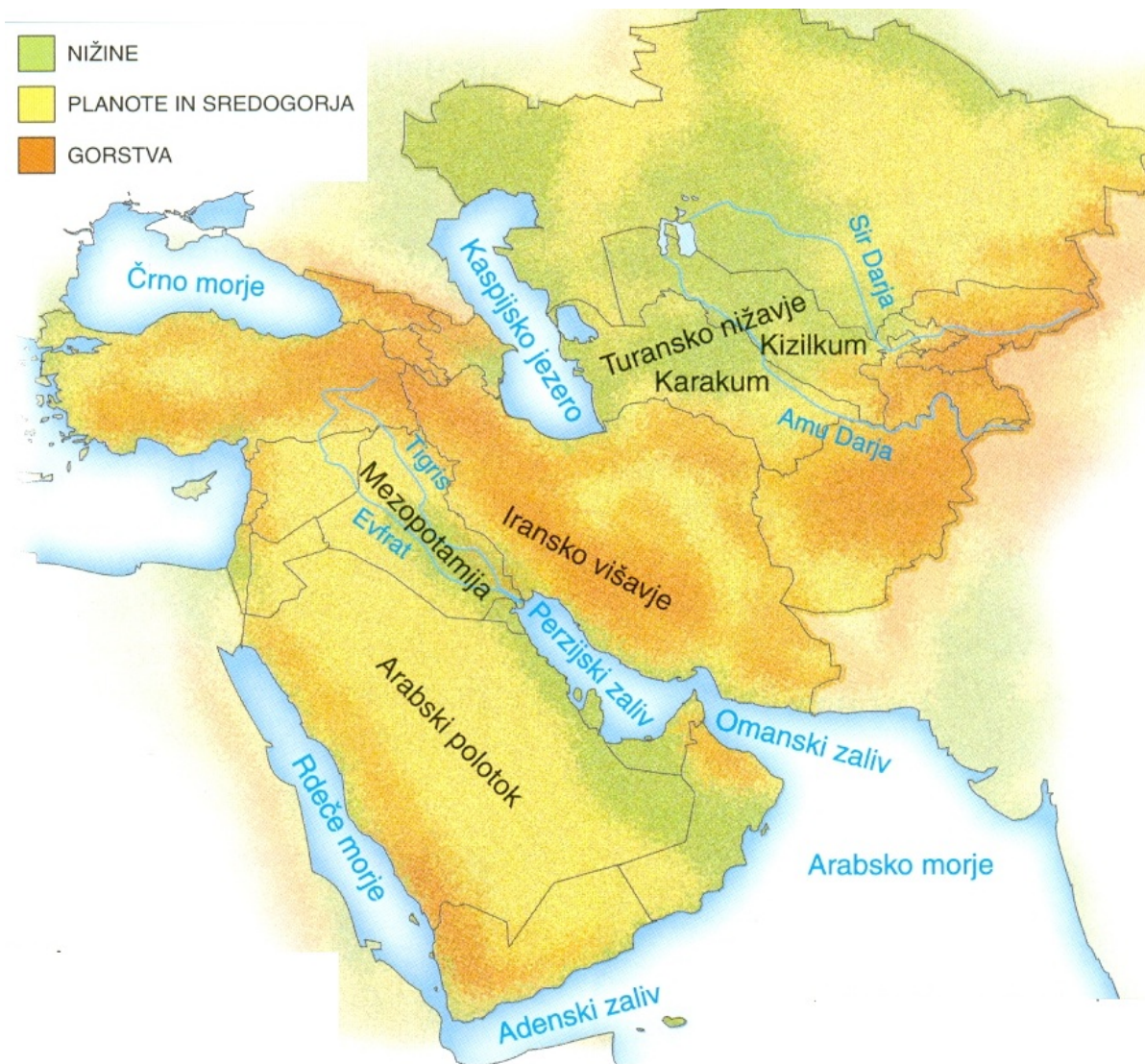


Na zemljevidu so z barvami označene velike geografske enote Azije.

Kje poteka meja med Evropo in Azijo?

Imenuj velike naravne enote Azije.

JUGOZAHODNA AZIJA - opredelitev območja in naravnogeografske enote



Opiši lego Jugozahodne Azije glede na celine.

Pomagaj si z zemljevidom sveta v atlasu.



**Države, ki jih štejemo
k Jugozahodni Aziji
lahko glede na lego
razdelimo v več skupin:**

**- države Bližnjega
vzhoda;**

**- zakavkaške države
(do leta 1991 del SZ);**

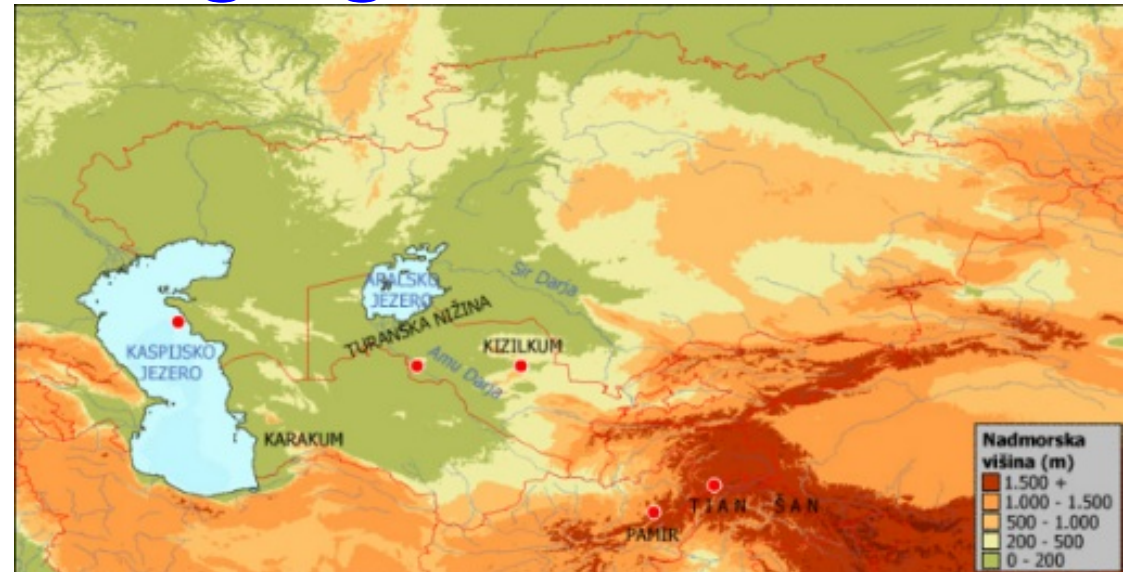
- severne države

**Jugozahodne Azije (do leta
1991 del Sovjetske zveze)**

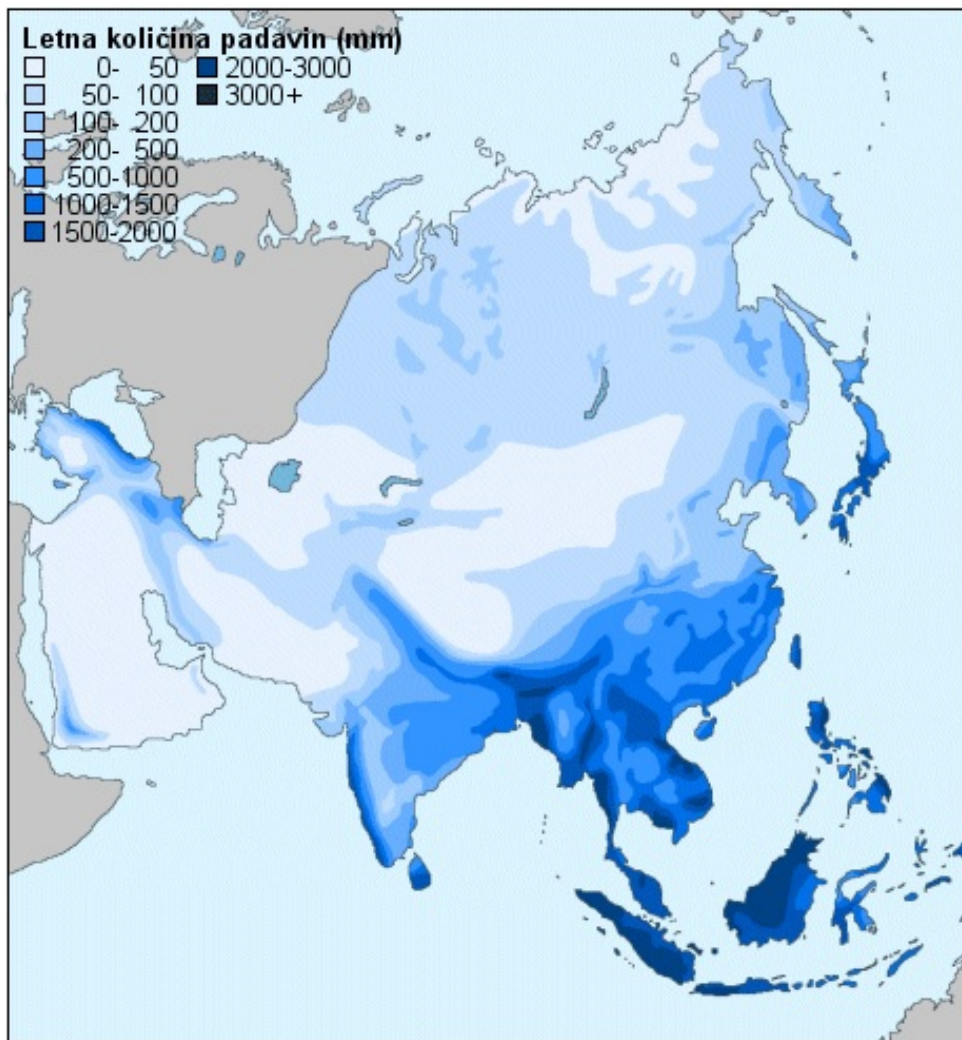
**Preberi besedilo v učbeniku na
strani 174 in z različnimi barvami
obkroži omenjene skupine držav.**

Jugozahodna Azija - naravnogeografske enote

Spomočjo besedila v učb. strani 174-175 poišči velike naravno geografske enote.



Katere tri oblike površja prevladujejo?



Letna količina padavin

S pomočjo zemljevida v atlasu ugotovi lego Jugozahodne Azije glede na toplotne pasove.

Oglej si zemljevid na levi in sklepaj, kakšen podnebni značaj ima večina JZ Azije?