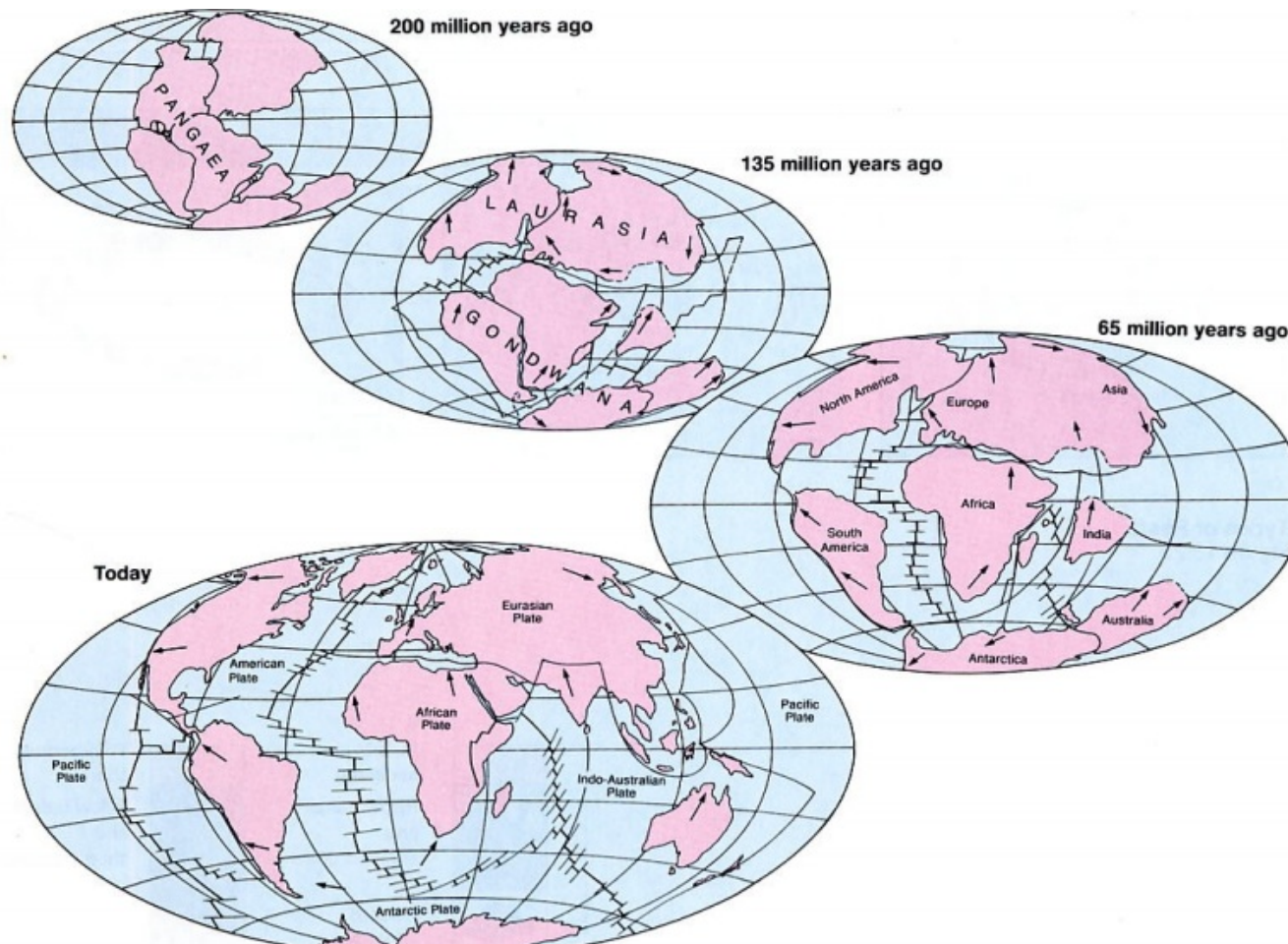
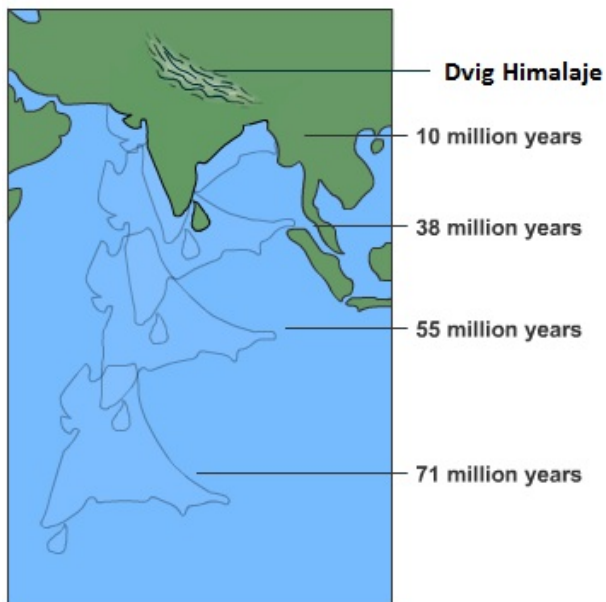
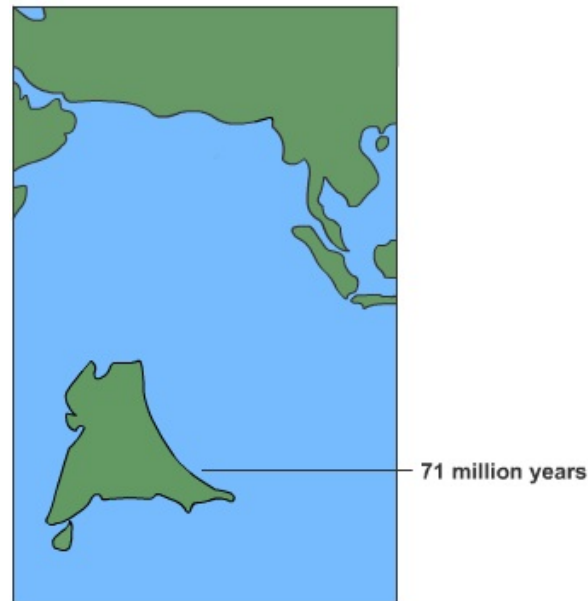
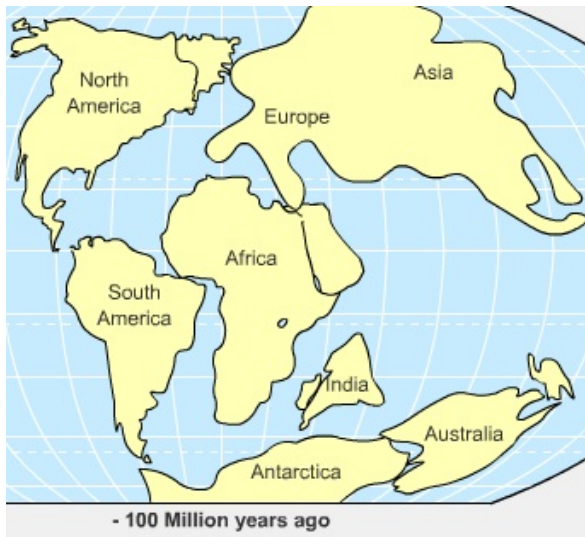


INDIJSKA PODCELINA

Oblikovanje indijske podceline je posledica premikanja zemeljskih tektonskih plošč.

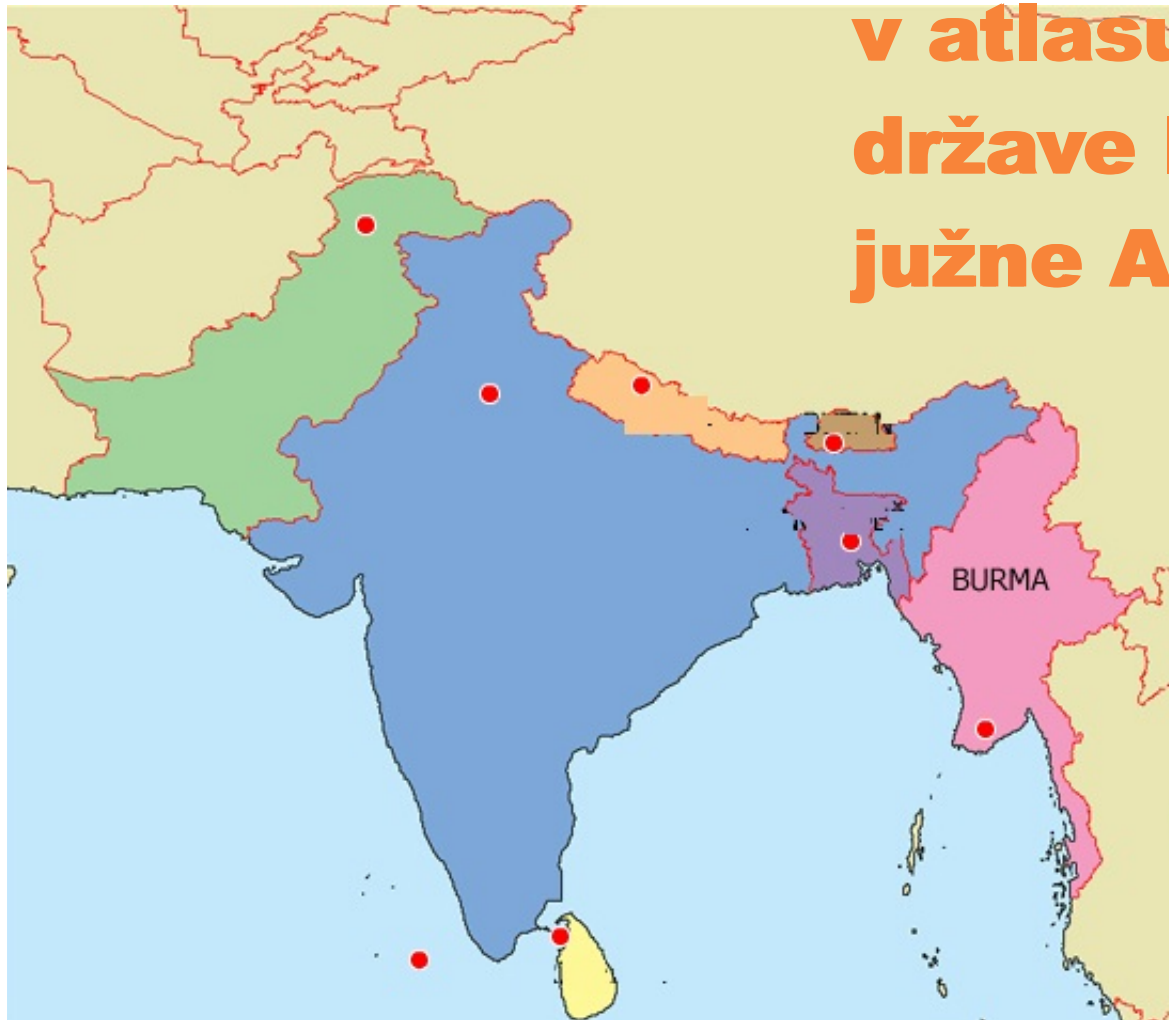


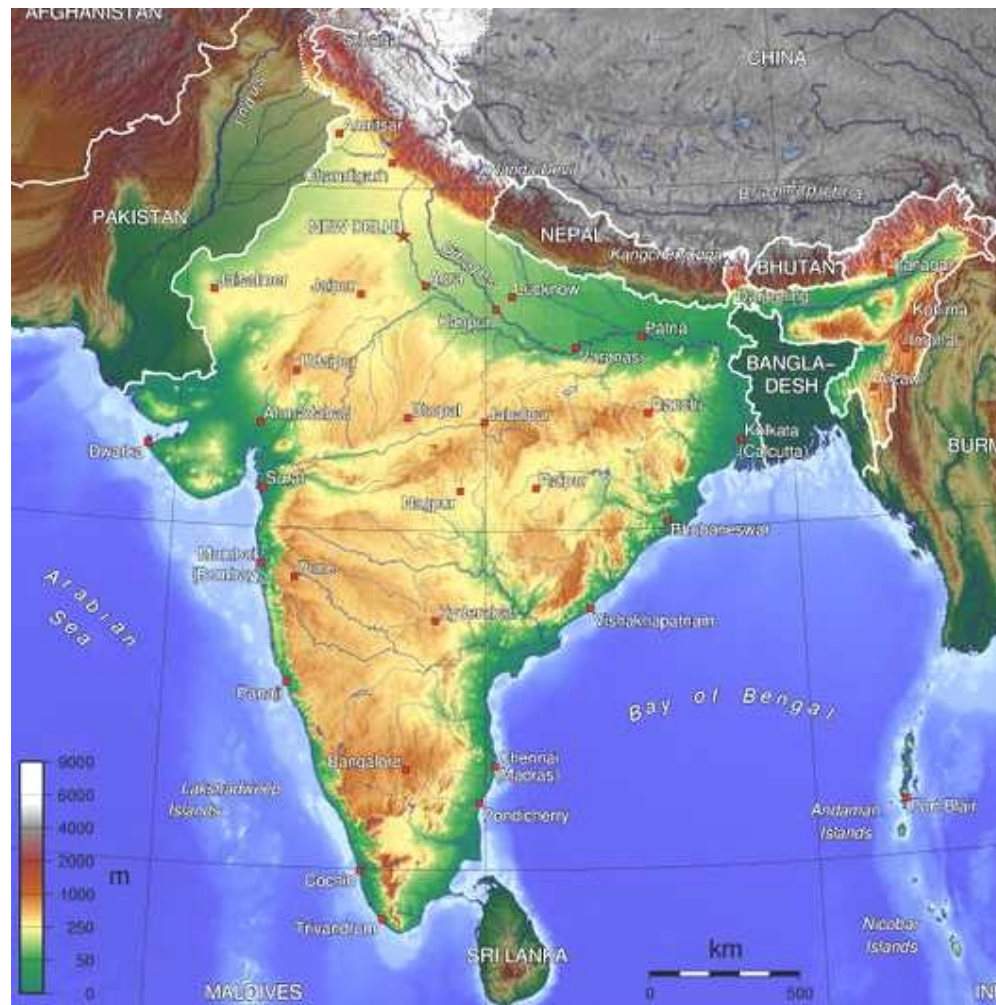


Kamnine Himalaje in Tibetanske planote so podobno kot kamnine Alp nastajale v morju nekdanjega oceana, imenovanega Tetida. Zaradi premikanja Afriške, Arabske in Indijsko-avstralske plošče proti Evrazijski je v zadnjih 70 milijonih let prišlo do stiskanja celinskih plošč. Kamnine morskega dna so se nagubale in dvignile v alpidiska gorovja (nastala sočasno kot Alpe) in Tibetansko visoko planoto.

Sopomenka za indijsko podcelino je Južna Azija

**S pomočjo zemljevida
v atlasu ugotovi, katere
države ležijo na območju
južne Azije.**





S pomočjo zemljevida ponovi in poišči velike naravnozemljepisne enote indijske podceline.



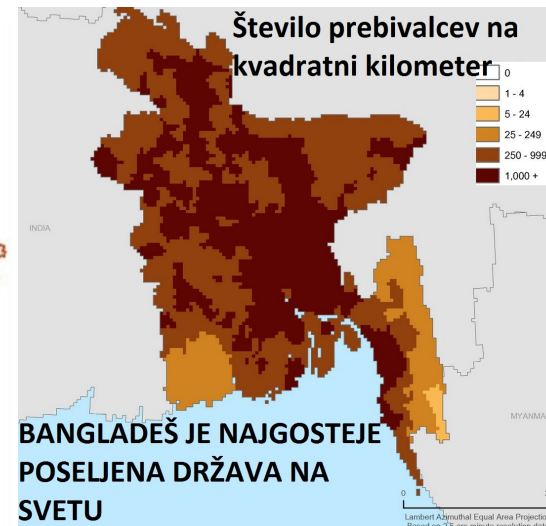
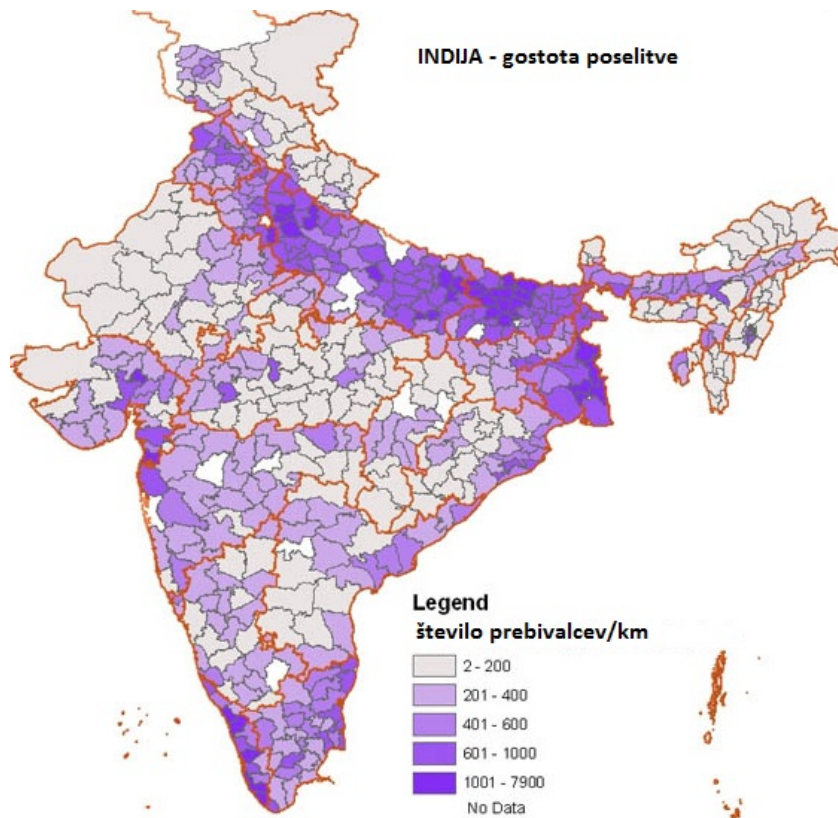
Mesto Leh, na fotografiji, leži na nadmorski višini 3300 m.

Himalaja ločuje indijsko podcelino od drugih delov Azije in predstavlja tako geografsko kot kulturno ločnico.

Območje je redko poseljeno. Večje zgojitve prebivalstva se pojavijo v dolinah, tam, kjer je nekoliko več uravnane sveta.

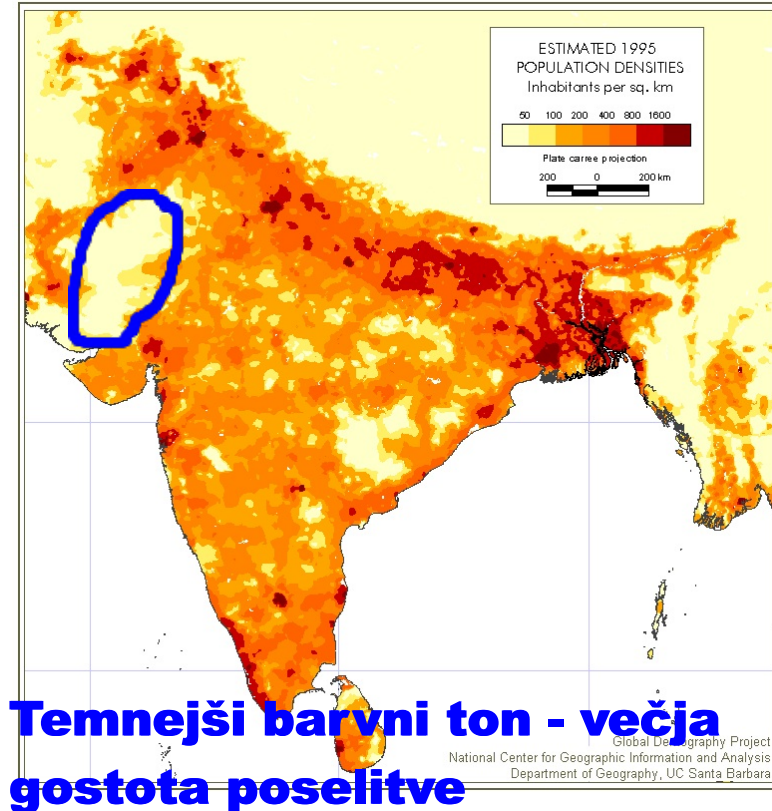
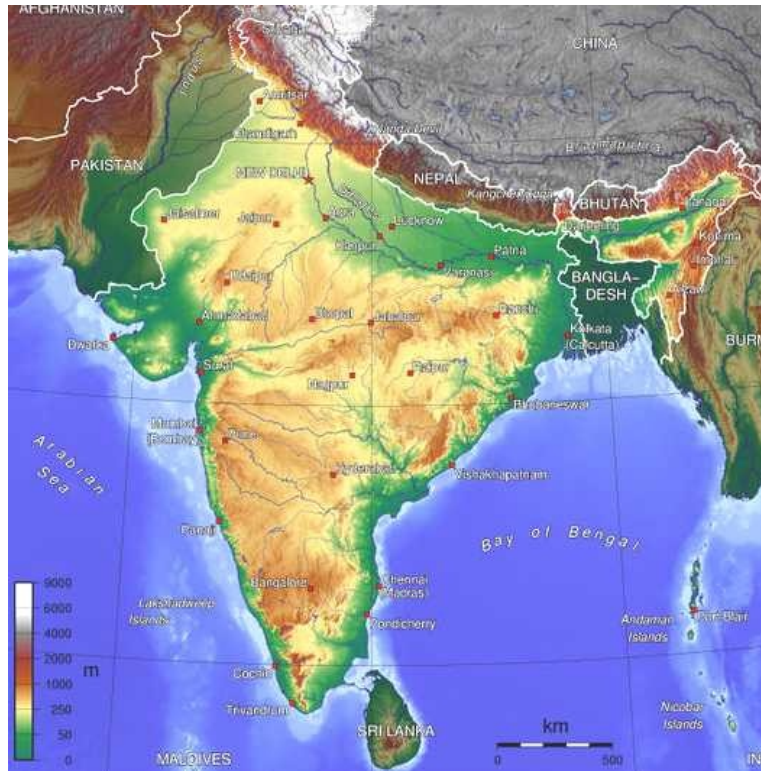


Južna Azija obsega približno 10% vsega ozemlja Azije, vendar tu živi kar 40% prebivalcev Azije.



Kateri naravni dejavniki vplivajo na nadpovprečno gostoto poselitve Bangladeša.

Katere naravne enote Indije so najgosteje poseljene?



Temnejši barvni ton - večja gostota poselitve

Primerjaj zemljevida in s pomočjo zemljevida v atlasu imenuj najgostejše poseljena območja na indijski podcelini.

Zakaj je obkroženo območje redkeje poseljeno?

Za gorate predele indijske podceline je značilna redka in neenakomerna poselitev.

Gosto je poseljena večina osrednjega dela dekanske planote.

Večina prebivalstva živi na podeželju.

Prenaseljena območja se nahajajo v nižinah ob velikih rekah (Gangeško nižavje, Bangladeš), d ob obalah in mestih, katerih prebivalstvo zaradi priseljevanja , naglo narašča naglo narašča.



PO DEKANSKI PLANOTI

Pripeljemo se v bližino vasi Sambalpur. S starim avtobusom se vozimo po pokrajini Orisa na vzhodni obali Indije, nekoliko južneje od milijonskega mesta Kalkuta. Vzhodni Gati zapirajo vlažnim vetrovom dostop v notranjost polotoka, zato je pomanjkanje vode opaziti skoraj povsod. Reka Mahanadi ima le v poletnih mesecih dovolj vode za vse prebivalce vasi. Hiše v vaseh so grajene preprosto. Družine z veliko otroki živijo v revnih kolibah, narejenih iz ilovice in pokritih z bambusovimi listi. V taki kolibi je pogosto

le en prostor. Živina ni nastanjena v hlevu, ampak si išče senco pod hišno streho. Majhne njivice orjejo ročno, s preprostim ralom. Večino njiv namakajo. V vaseh dan in noč ropotajo lesene črpalke za črpanje vode za namakanje. Deževnico shranjujejo v jezerih in jo v obdobju pomanjkanja padavin uporabljajo tudi za namakanje. Na njivah rastejo arašidi, mak, sladkorni trst in proso. V vasi je več tradicionalnih delavnic z velikimi vrati, odprtimi na cesto. Izdelati znajo skoraj vse.

Preberi besedilo in poišči omenjeno pokrajino in kraje na zemljevidu.

Opiši življske razmere prebivalstva.

Kaj je značilno za kmetijstvo opisane pokrajine?

S kakšnimi težavami se srečuje prebivalstvo na prenaseljenih območjih?

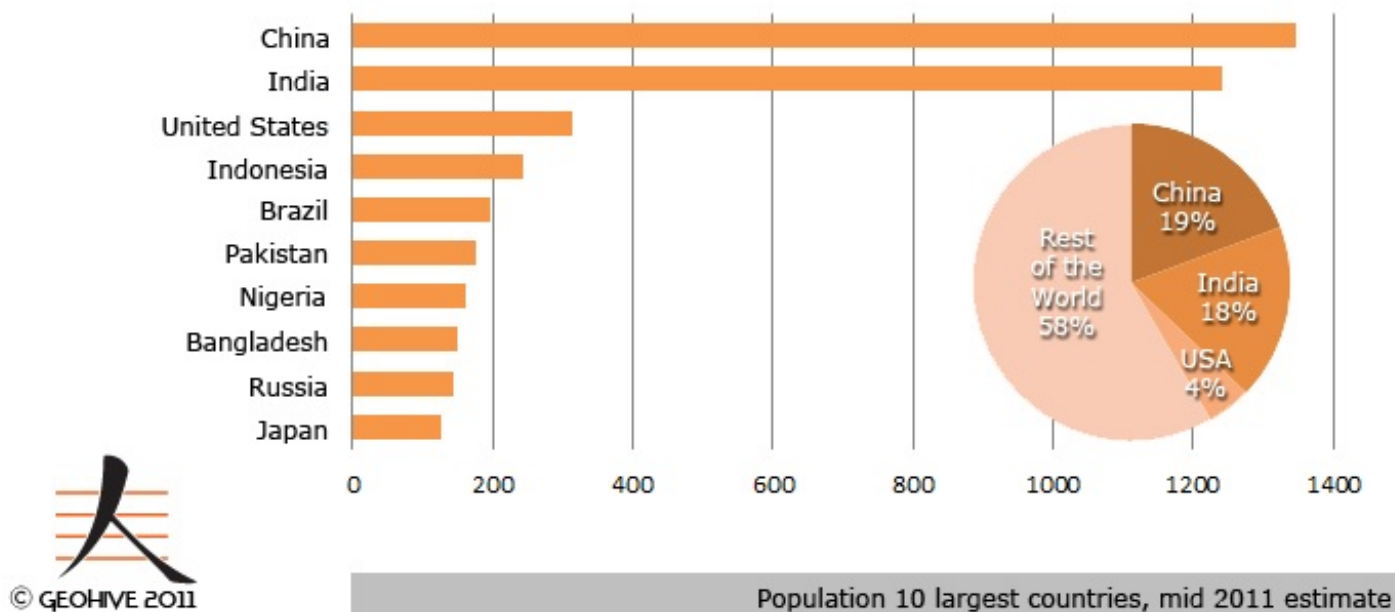
Oglej si fotografije in poskušaj odgovoriti na vprašanje.



Težave, s katerimi se srečujejo prebivalci prenaseljenih območij:

- pomanjkanje pitne vode;**
- potreba po kmetijskih zemljiščih pospešuje krčenje gozdov in naravnega rastja, kar pospešuje erozijo in s tem odnašanje rodovitne prsti;**
- onesnaženo okolje (vodni viri, zrak, prst);**
- izčrpavanje tal zmanjšuje količino pridelka;**

V državah indijske podceline število prebivalstva še vedno naglo narašča.



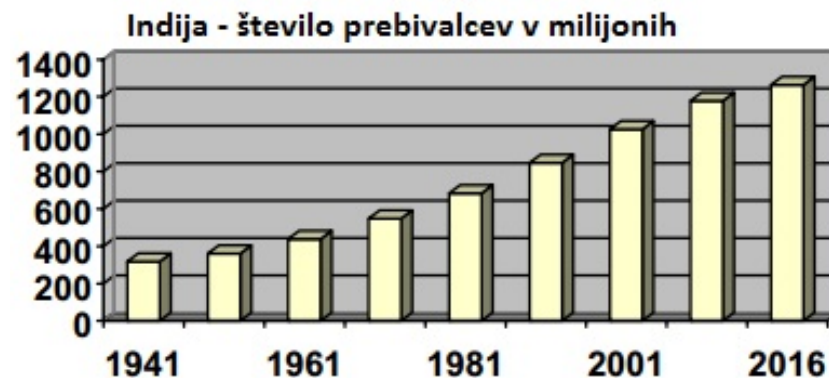
Oglej si zgornjo tabelo in ugotovi, katere države ležijo na indijski podcelini.

**Za indijsko podcelino je značilna
EKSPLOZIJA PREBIVALSTVA ali
naglo naraščanje prebivalstva.**

**Za ilustracijo pogledjmo nekaj podatkov, ki
veljajo za Indijo:**

- med leti 1974 in 2001 je število prebivalcev
naraslo iz 360 milijonov na več kot 1 milijardo
(1 028 610 328);**
- vsako dobro sekundo se rodi en prebivalec;**
- letno se število prebivalcev v Indiji poveča
za približno 20 milijonov;**
- do leta 2050 bo Indija po številu prebivalcev
prehitela Kitajsko;**

Razmisli, kakšne težave prinaša državam indijske podceline nagla rast prebivalstva?



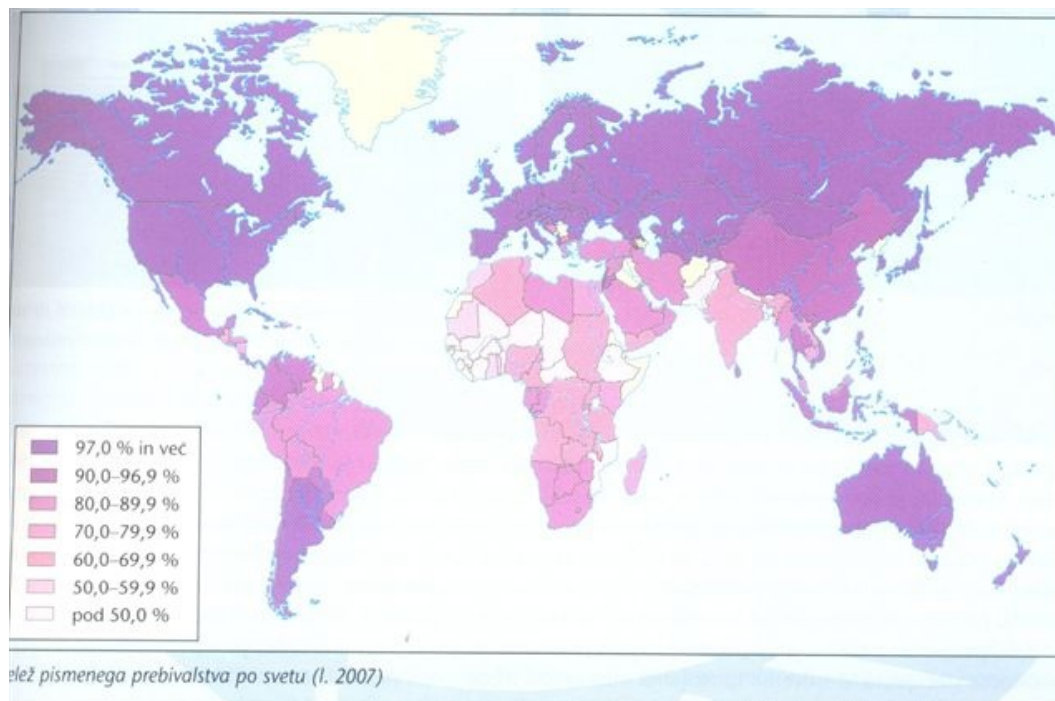
Prvi problem je oskrba s hrano!

Otrok na fotografiji je podhranjen!

Kaj to pomeni?

Vzroki za naglo rast prebivalstva:

- verski in kulturni vplivi (Hinduizem, Islam),**
- nepismenost in neizobraženost prebivalstva,**
- gospodarska nerazvitost in potreba po kmečki delovni sili;**



Ugotovi, kolikšen delež pismenosti prebivalstva na indijski podcelini.

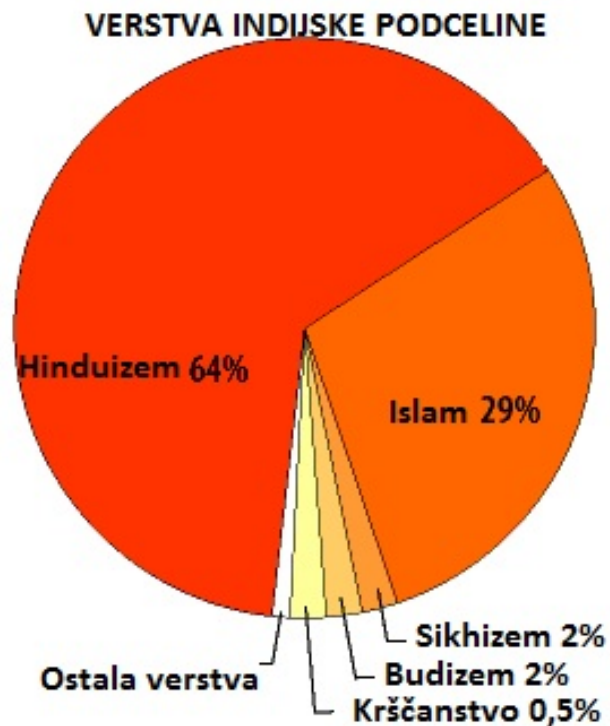
**Prebivalstvo indijske podceline:
jezikovna in verska sestava**

Prebivalstvo je zelo raznoliko. Glavne etnične skupine so:

- indoevropski Arijci, ki so hinduistične vere prevladujejo v Indiji**
- iranski narodi prevladujejo v Pakistanu**
- Dravidi so prvotni, bolj temnopolti prebivalci Indije, živijo na jugu podceline**
- Bengalci živijo na območju Bangladeša**

Ljudstva indijske podceline govorijo 179 jezikov in 544 narečij.

V Indiji je uradni jezik Hindi, v rabi pa je še 14 domačih uradnih jezikov in Angleščina!



Hinduizem prevladuje v Indiji.

V Pakistanu in Bangladešu prevladuje islam.

Budizem je najbolj razširjen v gorskih državah Himalaje in na Šrilanki.