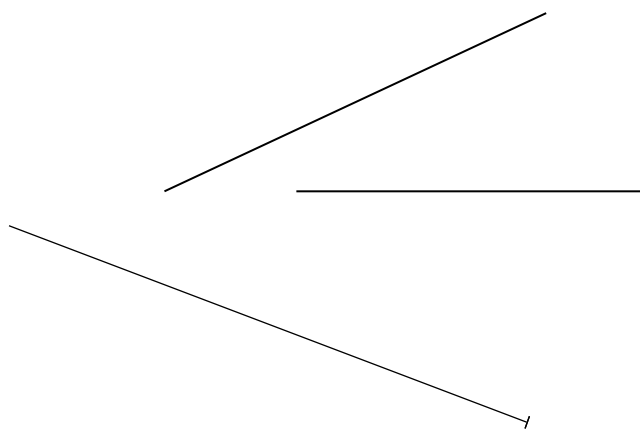
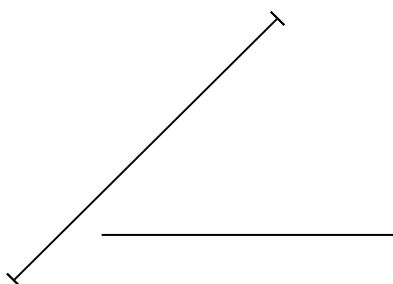


1. Poimenuj in ustrezno označi spodnje črte:

- A ■
 - C ○
 - D ×
 - F |
- to so _____



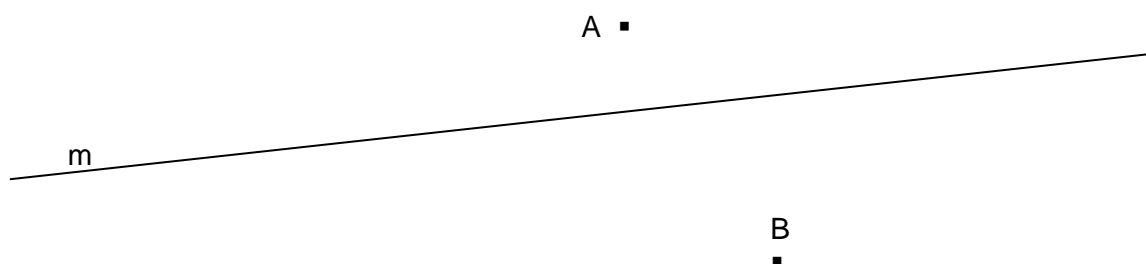
2. Nariši:

a) Tri vzporedne premice v vodoravni legi.

b) Tri vzporedne daljice, ki merijo 4 cm. Narisane naj bodo v poševni legi.

c) Nariši premico p. Na njej si izberi štiri različne točke in skozi nje nariši pravokotnice.

d) Skozi točko A nariši pravokotnico na premico m, skozi točko B pa nariši vzporednico premici m.



3. Poveži točke od A do E (A, B, C, D, E) z daljicami.

A •

C •

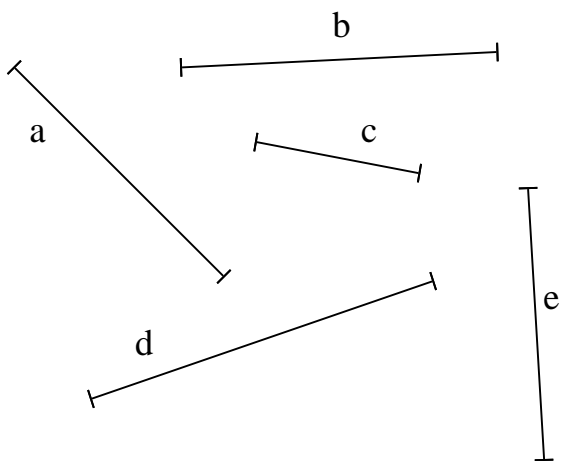
•
B

D •

• E

Kateri dve daljici sta pravokotni? _____ in _____


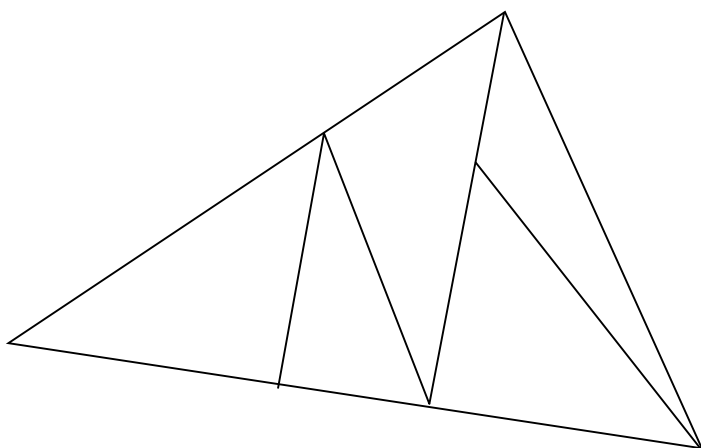
4. Izmeri dolžine daljic in jih vpiši v tabelo.



	mm
a	
b	
c	
d	
e	

4. Koliko trikotnikov je na sliki?

Koliko pravokotnikov je na sliki?



5. V zvezek nariši naslednje krožnice:

a) $r = 64 \text{ mm}$

b) $d = 12,4 \text{ cm}$