


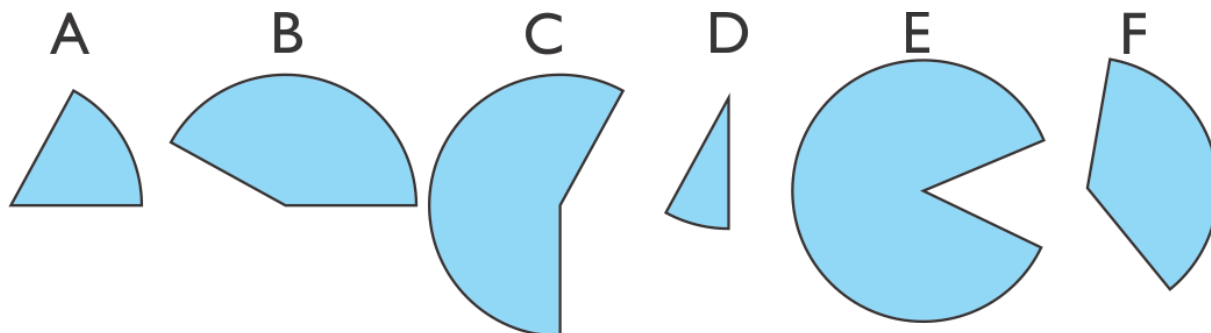
NALOGE ZA UTRJEVANJE:

1. V zvezek nariši po tri primere: ostrega kota, pravega kota in topega kota. Kot pobarvaj in mu ustrezno označi njegov vrh.
2. V zvezek napiši po dva primera predmetov v razredu/sobi, ki imajo oster kot, pravi kot in topi kot.
3. Na narisanih likih označi: z **zeleno barvo ostre kote**, z **rdečo barvo prave kote** in z **modro barvo tope kote**.



4. Načrtaj kote, ki merijo: 40 stopinj, 76 stopinj in 125 stopinj.
Kote ustrezno označi.

4. Kateri kot prikazuje slika – topi, ostri ali pravi? Zapiši za vsako črko.



A = _____

B = _____

C = _____


D = _____

E = _____

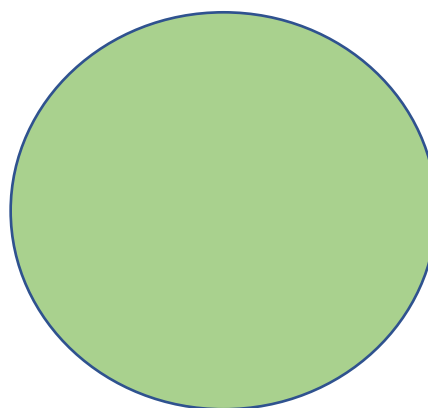
F = _____

5. Kateri kot dobiš če krog razdeliš na:

ŠTIRI DELE



ŠEST DELOV



KOTE TUDI OZNAČI.