

## PREVERJANJE ZNANJA- MATEMATIKA

### 1) Reši besedilne naloge.

- a) Otroci imajo 16 balonov. Razdelili si jih bodo tako, da bo vsak dobil četrtno balonov. Koliko balonov bo dobil vsak otrok?

R: \_\_\_\_\_

O: \_\_\_\_\_

- b) Anja je včeraj izdelala 13 voščilnic. Koliko voščilnic mora še izdelati, če mora imeti 56 voščilnic?

R: \_\_\_\_\_

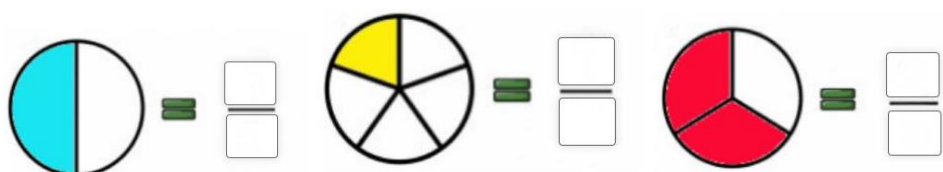
O: \_\_\_\_\_

- c) Prvi seštevanec je 14. Katero število je drugi seštevanec, če je vsota 55?

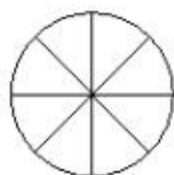
R: \_\_\_\_\_

O: \_\_\_\_\_

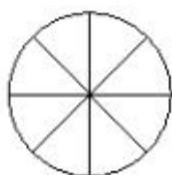
### 2) Kolikšen del je pobarvan, zapiši v okvirčke.



### 3) Pobarvaj.



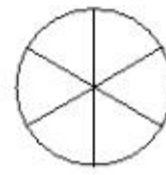
Četrtna



Polovica



Šestina



Dve tretjini

4) Izračunaj.

$$\underline{\quad} + 18 = 69$$

$$\underline{\quad} - 67 = 12$$

$$\underline{\quad} + 67 = 77$$

$$55 + \underline{\quad} = 89$$

$$35 - \underline{\quad} = 23$$





$$89 - \underline{\quad} = 37$$

5) Izpolni tabelo. Riši lepo!



|                  |        |                   |
|------------------|--------|-------------------|
|                  | KAPUCA | <del>KAPUCA</del> |
| MODRA            |        |                   |
| <del>MODRA</del> |        |                   |

6) Spodnja preglednica prikazuje, koliko sladkarij imajo v trgovini. Dobro si oglej prikaz z vrsticami in odgovori na spodnja vprašanja.

|   |   |   |   |   |   |   |   |   |   |
|---|---|---|---|---|---|---|---|---|---|
|  | ■ | ■ | ■ | ■ |   |   |   |   |   |
|  | ■ | ■ | ■ | ■ | ■ |   |   |   |   |
|  | ■ | ■ | ■ | ■ | ■ | ■ | ■ | ■ | ■ |
|  | ■ | ■ | ■ | ■ | ■ | ■ | ■ |   |   |

LEGENDA

■ = 1 sladkarija

Katere sladkarije lahko kupiš v trgovini?

---

Katerih sladkarij je na polici največ?

---

Katerih sladkarij je najmanj?

---

Za koliko je žvečilnih gumijev več kot čokolad?

---

Koliko lizik in bombonov bi imel, če bi kupil vse, ki so v trgovini?

---

Če bi kupil/-a vse lizike in čokolade, ki so v trgovini, ali bi dobil enako število, kot je bombonov?

---