

PREDMET	ZGODOVINA		
preverjanje znanja	stara Grčija, Rimska država		
DATUM		RAZRED	7.
IME IN PRIIMEK			
KRITERIJ	0-50% = nzd; 51-64% = zd; 65-77% =db; 78-90% = pdb, 91-100% =odl		
TOČKOVNIK	0-26 T = NZD; 27-33 = ZD; 34-40 =DB; 41-47 =PDB; 48-74 = ODL		
TOČKE / OCENA			

1. Preberi in obkroži pravilno trditev.

6t/___

1.1. Atene ležijo na polotoku ...

- a. Peloponez
- b. Halkidika
- c. Atika
- d. Mala Azija

1.2. Atenski plemič, ki je dal v 7.st. zapisati zelo stroge zakone (smrtna kazen za skoraj vsako kršitev)

- a. Solon
- b. Drakon
- c. Periklej
- d. Klejsten

1.3. Mesto, ki je postalo središče helenistične kulture po smrti Aleksandra Makedonskega.

- a. Aleksandrija
- b. Babilon
- c. Bizanc
- d. Sarde

1.4. Mesto Rim je nastalo leta ...

- a. 776 pr. Kr.
- b. 753 pr. Kr.
- c. 490 pr. Kr.
- d. 509 pr. Kr.

1.5. Vojne med Rimom in Kartagino.

- a. grško perzijske vojne
- b. peloponeške vojne
- c. balkanske vojne
- d. punske vojne


1.6. Prvi rimski cesar.

- a. Julij Cezar
- b. Oktavijan Avgust
- c. Hanibal
- d. Leonidas

2. Spartanska družba je bila razdeljena na več slojev.

2.1. Dopolni spodnjo preglednico.

- a. V prvem stolpcu poimenuj družbeni sloj. 1t/___
- b. V drugi stolpec vpiši DA, če so bili pripadniki tega sloja svobodni, ali NE, če niso bili svobodni. 1t/___
- c. V tretji stolpec vpiši DA, če so imeli pripadniki tega sloja politične pravice, ali NE, če jih niso imeli. 1t/___
- d. Obkroži ime družbenega sloja, ki je vodil državo. 1t/___

	družbeni sloj	Ali so bili svobodni?	Ali so imeli politične pravice?
	SPARTIATI	DA	DA
	periojki	DA	NE
	HELOTI	NE	NE

2.2. Preberi pisni vir in glede na opis v viru pojasni odnos spartiatov do helotov. 2t/___

»Helotom so naložili sramotna dela, da bi jih sramotili. Zahtevali so, da nosijo kape iz pasje kože in da se ovijejo v kožo. Da ne bi pozabili, da so sužnji, so jih vsako leto pretepli s predpisanim številom udarcev, kljub temu da niso naredili ničesar narobe. Če je helot presegel telesno težo, primerno za sužnja, ga je doletela smrtna kazen. Kaznovali so tudi tiste, ki bi helote morali nadzorovati in preprečiti, da se preveč ne zredijo.«

(Miron iz Priene, sredi 3. stoletja pr. Kr.)

SPARTIATI SO BILI DO HELOTOV ZELU KRUTI, IMELI SO JIH ZA MANJVREDNE

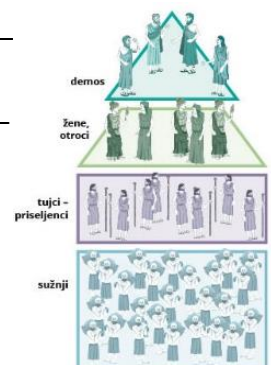
3. Družbena in politična ureditev Aten.

3.1. Poimenuj obliko vladavine v Atenah. DEMOKRACIJA 1t/___

3.2. Označi trditve, ki so značilne za atensko politično ureditev. 2t/___

- a. Vsi prebivalci Aten so bili svobodni.
- b. Državljeni Aten so izvolili svojega kralja.
- c. Višek je dosegla v času Perikleja.
- d. Volili so lahko le svobodni moški državljani.

DEMOS



Družbena in politična ureditev Aten

3.3. Preberi pisni vir in pojasni, kaj je bilo po tvojem mnenju najpomembnejše za uspeh Aten? 1t/___

»Naša ureditev ni podobna zakonom sosednjih držav /.../. Dela v dobro večine in ne le manjšine, zato jo imenujemo demokracija. Zakoni obravnavajo enako vse državljane. Za uspeh v družbi je pomembna sposobnost posameznika in ne le družbeni položaj, /.../. Svoboda, ki jo zagotavlja država, velja tudi v vsakdanjem življenju.«

(Tukidid, Peloponeške vojne, 5.–4. stol. pr. Kr.)

4. Poveži imena grških učenjakov z znanostjo v kateri so delovali.

2t/___

- a. SOKRAT ~~→~~ MATEMATIKA
- b. PITAGORA ~~→~~ MEDICINA
- c. HIPOKRAT ~~→~~ FILOZOFIJA

5. Grško-perzijske vojne.

5.1. Dopolni preglednico spopadov v grško-perzijskih vojnah.

3t/___

ime bitke	letnica	potek	zmagovalci
BITKA NA MARATONSKEM POLJU	490	Bitka je potekala približno 40 km severno od Aten.	GRKI (ATENCI)
bitka pri Termopilah	480	Grška vojska je bila izdana, umik je branilo 300 Spartancev.	PERZIJCI
bitka pri Salamini	480	Pomorska bitka, v kateri so Grki potopili več kot tretjino perzijske mornarice.	Grki ATENCI

5.2. Naštej tri vzroke za grško zmago v grško-perzijskih vojnah.

3t/___


- a. BORILI SO SE ZA SVOBODO
- b. POZNALI SO TEREN
- c. BOLŠI TOVELJNIKI, DROŽJE

6. Aleksander Veliki.

6.1. Vzpon Makedonije je začel Aleksandrov oče Filip II., ki je prenovil makedonsko vojsko. Obkroži ime udarne enote makedonske vojske.

1t/___

LEGIJA KOHORTA FALANGA SARISA CENTURIJA



6.2. Ob sliki opiši, kako je bila organizirana makedonska vojska.

1t/___

VOJAKI SO ŠTALI TESNO SKUPAJ, O BOROŽENI SO BILI Z DOLGIM SULICAMI → PREŽADALI SO NASP.

6.3. Poimenuj imperij (državo), ki ga je zasedel Aleksander Veliki.

1t/___

PERZIJA

6.4. Na zemljevid (v pravokotnike) vpiši letnico pomembnih bitk (334, 333, 331).

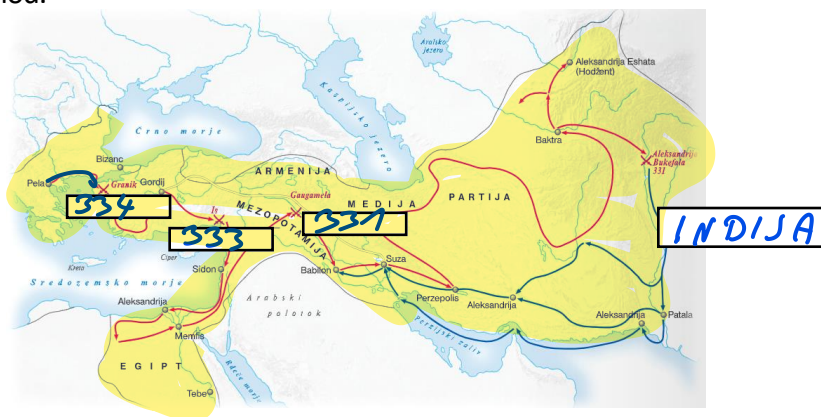
2t/___

6.5. Na zemljevidu pobarvaj največji obseg Aleksandrove države.

1t/___

6.6. V pravokotnik na desnem robu karte vpiši ime dežele proti kateri je v letih 330-325 nadaljeval svoj pohod.

1t/___



6.7. Kako imenujemo obdobje, ki se je začelo po Aleksandrovi smrti?

1t/___

HELENIZEM

7. Ustanovitev mesta Rim.

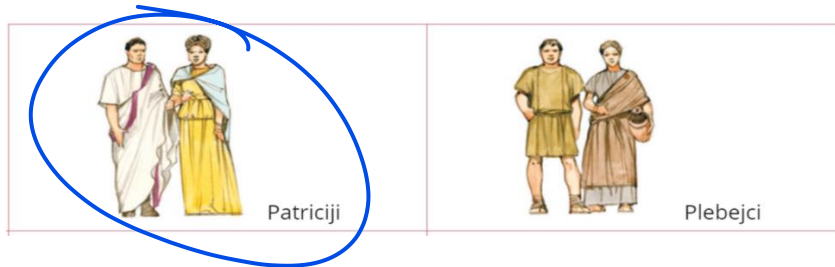
- a. Po legendi naj bi mesto Rim ustanovil ... REM ROMUL (obkroži pravilen odgovor). 1t/___
- b. Mesto je nastalo v srednjem delu APENINSKEGA (Balkanskega, Apeninskega, Pirinejskega) polotoka. 1t/___

- c. Poimenuj ljudstvi, ki sta močno vplivali na razvoj Rimljanov. Imeni vpiši na ustrezno mesto na zemljevidu. 2t/___



8. Družbena ureditev Rimske države

- a. Glede na premoženje so se rimski državljani delili na dve družbeni skupini. Obkroži ime vodilne družbene skupine. 1t/___



- b. Opiši značilnosti vodilne družbene skupine. 2t/___
BOGATI, VODILI SO DRŽAVO (SENATORJI, KONZULI). POTOMCI PRVOTNIH RIMLJANOV. LASTNIKI VELEPOSESTI. → DELALI SUŽNJI.

9. Rimska republika.

9.1. Odgovori.

- a. Predstavni plebejcev v senatu, ki so imeli pravico veta. LJUDSKI TRIBUN 1t/___
- b. Najpomembnejša izvoljena uradnika, ki so ju volili vsako leto. V času vojne je eden izmed njiju prevzel poveljstvo in dobil naziv diktator. KONZULA 1t/___
- c. Rimski vojskovodja, ki se je razglasil za dosmrtnega diktatorja in povzročil propad rimske republike? JULIJ CEZAR 1t/___

9.2. Pojasni, kdo so bili senatorji ter kakšna je bila vloga senata v času rimske republike. 2t/___

SENATORJI SO BILI NAJPOMEMBNEJŠI POLITIKI V RIMSKI REPUBLIKI (ČLANI SENATA). PRIHAJALI SO IZ NAJUGLEDNEJŠIH RIMSKIH PATRICISKIH DRUŽIN. SPREJEMALI SO ZAKONE, VOLILI SO KONZULE...

10. Rimska vojska.

a. Ob sliki poimenuj opremo rimskega vojaka.


2t/___

b. Pojasni pojma:

2t/___

➤ LEGIONAR: IME ZA RIMSKEGA VOJAKA

➤ LEGIJA: NAJVEČJA ENOTA RIMSKE VOJSKE DO 6000 MOŽ (LEGIONARJI+KONJENIKI)



c. Naštej dva tehnična pripomočka s katerimi si je ob osvajanju pomagala rimska vojska.

2t/___

➤ KATAPULT

➤ OBSELOVALNI OVEN

11. Oglej si zemljevid širjenje rimske države in odgovori (reši) vprašanja.

a. Pobarvaj prvo rimsko provinco.

1t/___

b. Obkroži ime najsevernejše rimske province.

1t/___

c. Podčrtaj ime najjužnejše rimske province.

1t/___

d. Označi germanski limes (med Renom in Donavo).

1t/___

e. Pojasni, kaj je limes. OBRAMBNI ZID, KI JE VAROVAL RIMSKE MEJE

1t/___

f. Pojasni, zakaj so ga Rimljani zgradili. ZA OBRAMBO PRED GERMANI

1t/___

g. V kronološkem vrstnem redu razvrsti rimske osvojitve od 1 do 4, pri čemer najstarejšo osvojitve označi s črko 1, najmlajšo pa s 4.

2t/___

- 3 ILIRIK
- 2 GALIJA
- 1 HISPANIJA
- 4 DAKIJA



12. Rimljani na slovenskem ozemlju.

a. Na zemljevidu podčrtaj imena tistih enot, ki so bile province.

1t/___

12.1. Imenom slovenskih krajev pripiši rimsko poimenovanje.

3t/___

LJUBLJANA EMONA, CELJE CELEJA, PTUJ PETOVIONA

12.2. Pojasni, kakšen je bil vojaški pomen naših krajev za Rimljane.

2t/___

1. KOT IZHODIŠČE ZA OSVAJANJE
2. V ČASU PROPADANJA SO NAŠI KRAJI SLUŽILI KOT OBRAMBNI ŽID

12.3. Katera mesta so imela vodovod?. Kaj nam to pove o njihovi razvitosti?

2t/___

PTUJ, EMONA, NEVIODUNUM, TERGESTE
TO NAM POVE, DA SO BILA MESTA RAZVITA



13. Krščanstvo.

13.1. Začetnik krščanstva. JEZUS KRISTUS

1t/___

13.2. Kdo je imel glavno vlogo pri širjenju krščanstva? APOSTOLI

1t/___

13.3. Rimski cesar, ki je leta 313 priznal krščanstvo za enakopravno vero. KONSTANTIN

1t/___

13.4. Naziv rimskega škofa. PAPEŽ

1t/___

14. Rimska kultura.

14.1. Poimenuj stavbo na sliki. TEMPLEON

1t/___

14.2. Čemu je služila? ČASČENJU BOGOV

1t/___

14.3. Poimenuj arhitekturno posebnost te stavbe, ki so jo izumili Rimljani.

1t/___

KUPOLA

