

### 3. razred OŠ

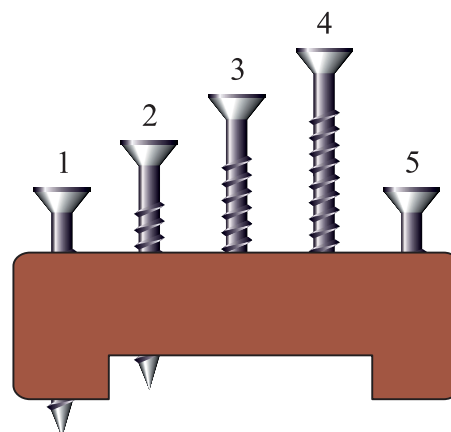
IME IN PRIIMEK \_\_\_\_\_ RAZRED \_\_\_\_\_


| 1 | 2 | 3 | 4 | 5 | 6 | 7 | 8 | 9 | 10 |
|---|---|---|---|---|---|---|---|---|----|
|   |   |   |   |   |   |   |   |   |    |






ZA REŠEVANJE IMAŠ NA VOLJO 45 MINUT. ODGOVORE ZAPIŠI V GORNJO PREGLEDNICO. ZA VSAK PRAVILEN ODGOVOR DOBIŠ 4 TOČKE. ZA VSAK NEPRAVILEN ODGOVOR TI ODŠTEJEMO 1 TOČKO. ČE PA PUSTIŠ POLJE V PREGLEDNICI PRAZNO, DOBIŠ 0 TOČK. DA BI SE IZOGNILI NEGATIVNEMU KONČNEMU DOSEŽKU, TI PRIZNAMO ZAČETNIH 10 TOČK.

1. JAKA JE V LESENO DEŠČICO PRIVIL 5 VIJAKOV (GLEJ SLIKO). 4 VIJAKI SO ISTE DOLŽINE, 1 VIJAK JE KRAJŠI. KATERI VIJAK JE KRAJŠI OD OSTALIH?

- (A) 1    (B) 2    (C) 3    (D) 4    (E) 5

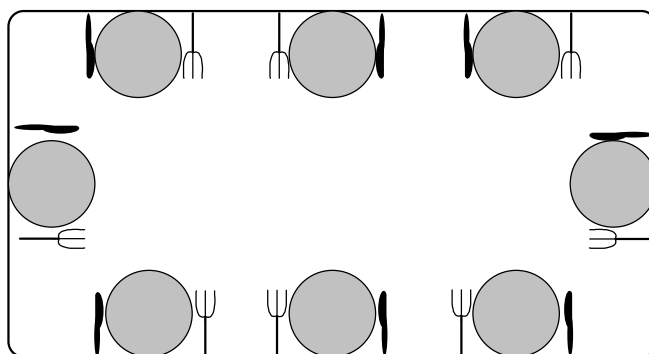


2. PIKAPOLONICA JASNA  JE HODILA PO LISTU PAPIRJA IN SE NEKAJKRAT USTAVILA. NA KATERI SLIKI ZAGOTOVO NI PIKAPOLONICE JASNE?

- (A)     (B)     (C)     (D)     (E) 



7. MIHA JE PRIPRAVIL POGRINJKE ZA 8 LJUDI (GLEJ SLIKO).



POGRINJEK JE PRIPRAVLJEN PRAVILNO, ČE IMA VSAK, KO SEDI ZA MIZO, VILICE NA LEVI IN NOŽ NA DESNI STRANI KROŽNIKA. KOLIKO POGRINJKOV JE MIHA PRIPRAVIL PRAVILNO?

- (A) 2      (B) 3      (C) 4      (D) 5      (E) 6

8. GUSAR KARLO IMA 2 SKRINJI. V LEVI SKRINJI JE 10 ZLATNIKOV, DESNA SKRINJA JE PRAZNA. OD JUTRI DALJE BO GUSAR KARLO VSAK DAN DAL 1 ZLATNIK V LEVO SKRINJO IN 2 ZLATNIKA V DESNO SKRINJO. V KOLIKO DNEH BO V OBEH SKRINJAH ENAKO ŠTEVILO ZLATNIKOV?

- (A) 5      (B) 8      (C) 10      (D) 12      (E) NIKOLI.

9. FRANCKA PLAČA ZA 1 KORNET 1 EVRO. ČE KUPI 6 KORNETOV HKRATI, PLAČA ZANJE 5 EVROV (GLEJ SLIKO).



NAJVEČ KOLIKO KORNETOV LAHKO KUPI FRANCKA S 36 EVRI?

- (A) 30      (B) 36      (C) 42      (D) 43      (E) 45

10. TEO JE NA PALICO NANIZAL NEKAJ DISKOV (GLEJ SLIKO). KOLIKO DISKOV LAHKO TEO VIDI, ČE OD ZGORAJ POGLEDA NA PALICO Z DISKI?

- (A) 1      (B) 2      (C) 3      (D) 4      (E) 5

