

MATEMATIKA, 5. razred

UČNA TEMA: Ponavljanje in utrjevanje

POTEK URE

Današnja ura bo namenjena ponavljanju in utrjevanju znanja.

Ob koncu ure učenci oddajo naloge v vpogled.

Kdor doseže vse cilje, je ocenjen z odlično oceno.


Z ostalimi naredimo individualen načrt za izboljševanje znanja.

Kaj mi gre pri matematiki dobro?

Česa ne razumem najbolje?

Kam se lahko obrnem po pomoč in kaj moram storiti, da bom izboljšal znanje?

Kdaj in kako bom izkazal svoje znanje?



**Preverim, ali znam:**● **šteti, zapisovati in brati števila do 10 000,**

1. Zapiši s številko in z besedo.

a) 7 T 8 S 6 D 2 E _____

b) 4 T 9 D 5 E _____

c) 9 T 1 S 6 E _____

č) 5 T 7 S 4 D 6 E _____

d) 4 T 2 S 8 E _____

e) 7 T 9 D 5 E _____

Števila uredi po velikosti, začni z največjim.

2. Zapiši števila med 6957 in 6962.

● **šteti, zapisovati in brati števila do 100 000,**

3. Nadaljuj zaporedja.

a) 44 000, 45 000, 46 000, _____, _____, _____, _____

b) 82 000, 80 000, 78 000, _____, _____, _____, _____

c) 79 400, 79 300, 79 200, _____, _____, _____, _____

č) 32 600, 32 700, 32 800, _____, _____, _____, _____

d) 13 763, 13 766, 13 769, _____, _____, _____, _____

e) 91 569, 91 567, 91 565, _____, _____, _____, _____

● **računati preproste številске izraze do 100 000,**

4. Izračunaj.

a) $20\,000 + 50\,000 =$ _____ č) $27\,400 + 300 =$ _____ f) $54\,600 - 500 =$ _____b) $50\,000 + 10\,000 =$ _____ d) $65\,100 + 900 =$ _____ g) $32\,400 + 500 =$ _____c) $70\,000 - 40\,000 =$ _____ e) $12\,800 - 400 =$ _____ h) $76\,700 - 100 =$ _____● **meriti in računati dolžine,**

5. Izračunaj.

a) $\frac{1}{5}$ dm = _____ cmb) $\frac{1}{2}$ m = _____ dmc) $\frac{1}{8}$ km = _____ m



To znam, cilj sem v celoti usvojil.



Ne gre mi še najbolje, potrebujem pomoč.



Še bom moral vaditi, naloge ne znam rešiti.

Znanje je bogastvo I

Preverim, ali znam:

- pretvarjati merske enote za dolžino,



6. Pretvori.

a) 4 cm = _____ mm

č) 3 dm = _____ cm

f) 8 m = _____ dm

b) 15 cm = _____ mm

d) 23 dm = _____ cm

g) 20 m = _____ dm

c) 210 cm = _____ mm

e) 500 dm = _____ cm

h) 51 m = _____ dm

7. Pretvori v kilometre in metre.

a) 2345 m = _____

c) 25 400 m = _____

b) 6090 m = _____

č) 16 045 m = _____

- izražati maso v miligramih in pretvarjati merske enote za maso,



8. Pretvori v miligrame.

a) 32 g = _____ mg

b) 7 g = _____ mg

c) 43 g = _____ mg

9. Pretvori miligrame v večje merske enote.

a) 3000 mg = _____ g

c) 30 000 mg = _____ g

d) 9000 mg = _____ g

b) 62 000 mg = _____ g

č) 70 000 g = _____ dag

e) 20 000 mg = _____ g

- prikazati podatke z grafičnimi prikazi,



10. Zapisali smo število učencev v neki šoli.

	deklice	dečki
1. razred	40	35
2. razred	35	25
3. razred	30	30
4. razred	40	20
5. razred	15	20

a) Koliko je vseh deklic od 1. do 5. razreda? _____

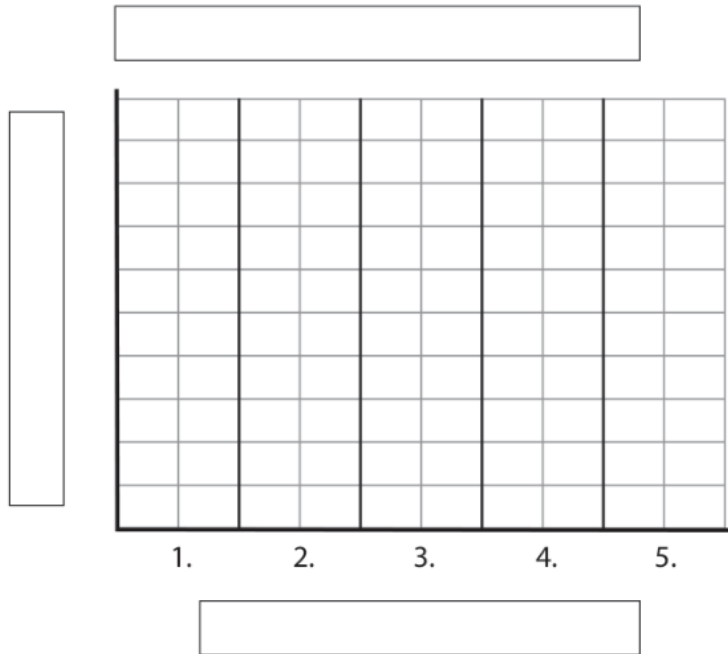
b) Koliko otrok obiskuje 4. in 5. razred skupaj? _____

c) V katerem razredu je več deklic kot dečkov? _____



Preverim, ali znam:

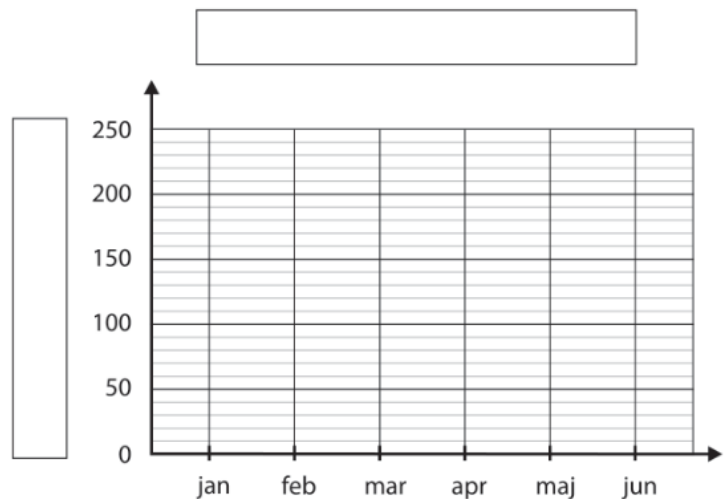
č) Nariši stolpični prikaz.



11. V preglednici so podatki o porabi vode v nekem gospodinjstvu v prvi polovici leta. Nariši graf.

poraba vode na mesec	hladna voda	topla voda
januar	160 ℓ	210 ℓ
februar	200 ℓ	180 ℓ
marec	120 ℓ	160 ℓ
april	70 ℓ	140 ℓ
maj	50 ℓ	120 ℓ
junij	50 ℓ	100 ℓ

■ hladna voda
■ topla voda



• zbrati podatke in narediti raziskavo.



12. Razišči, kolikokrat na teden se tvoji sošolci in sošolke udeležujejo športnih dejavnosti. Podatke razvrsti v preglednico, ki jo boš narisal v zvezek.

In še rešitve ...

Znanje je bogastvo I

- a) 7862 sedem tisoč osemsto dvainšestdeset
b) 4095 štiri tisoč petindevetdeset
c) 9106 devet tisoč sto šest
č) 5746 pet tisoč sedemsto šestinštirideset
d) 4208 štiri tisoč dvesto osem
e) 7095 sedem tisoč petindevetdeset
9106, 7862, 7095, 5746, 4208, 4095
- 6958, 6959, 6960, 6961
- a) 47 000, 48 000, 49 000, 50 000, 51 000, 52 000
b) 76 000, 74 000, 72 000, 70 000, 68 000, 66 000
c) 79 100, 79 000, 78 900, 78 800, 78 700, 78 600
č) 32 900, 33 000, 33 100, 33 200, 33 300, 33 400
d) 13 772, 13 775, 13 778, 13 781, 13 784, 13 787
e) 91 563, 91 561, 91 559, 91 557, 91 555, 91 553
- a) 70 000 č) 27 700 f) 54 100
b) 60 000 d) 66 000 g) 32 900
c) 30 000 e) 12 400 h) 76 600
- a) 2 cm b) 5 dm c) 125 m
- a) 40 mm č) 30 cm f) 80 dm
b) 150 mm d) 230 cm g) 200 dm
c) 2100 mm e) 5000 cm h) 510 dm

- a) 2 km 345 m c) 25 km 400 m
b) 6 km 90 m č) 16 km 45 m
- a) 32 000 mg c) 43 000 mg
b) 7000 mg
- a) 3 g c) 30 g d) 9 g
b) 62 g č) 7000 dag e) 20 g
- a) Vseh deklic je 160.
b) 4. in 5. razred skupaj obiskuje 95 učencev.
c) Več deklic kot dečkov je v 1., 2. in 4. razredu.

