

## MATEMATIKA, 5. razred

### UČNA TEMA: Ponavljanje in utrjevanje 3. – priprava na ustno ocenjevanje znanja iz geometrije

#### POTEK URE


Učenci samostojno rešijo priložen učni list. Ob koncu ure pregledajo rešitve. Ovrednotijo svoje znanje.

Kaj mi gre dobro?  
Kje imam še težave?  
Kako jih bom odpravil?  
Kdo mi bo pomagal pri tem?

**Ustno ocenjevanje znanja bo v četrtek, 3. marca 2022.**

**Preverjali in ocenjevali bomo:**

- risanje daljic, premic, poltrakov
- seštevanje in odštevanje daljic
- kote
- načrtovanje in risanje krogov in krožnic
- teoretično znanje (kaj je daljica, premica, poltrak, ravnina, točka, vzporednost, pravokotnost, skladnost)





4. V poševni legi nariši tri skladne daljice. Vse označi.

5. Kaj je daljica?

---

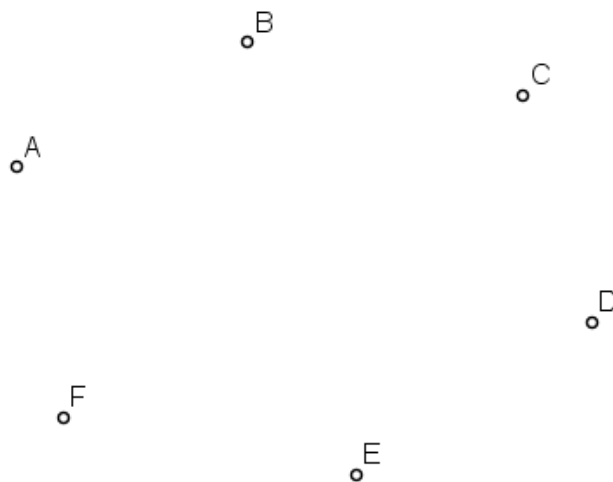
6. Kaj je premica?

---

7. Kaj je poltrak?

---

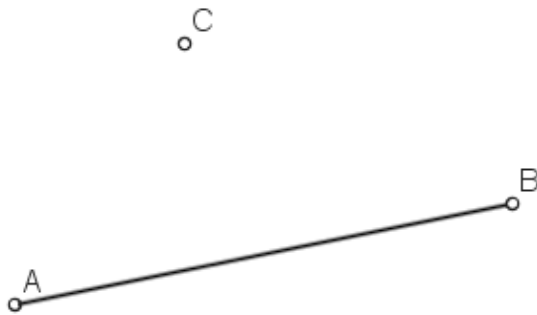
8. Nariši vse možne daljice, ki jih določajo narisane točke.



Zapiši, katere daljice si narisal.

---

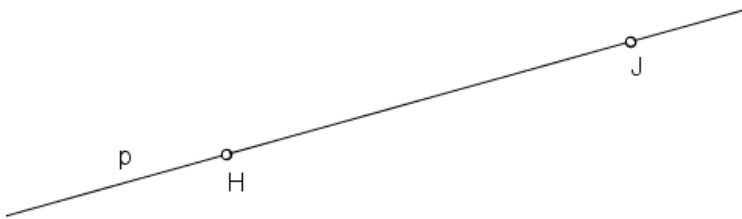
9. Nariši poltraka  $CA$  in  $BC$ . Kateri lik omejuje daljice  $AB$ ,  $BC$ ,  $CD$ ? Pobarvaj ga.



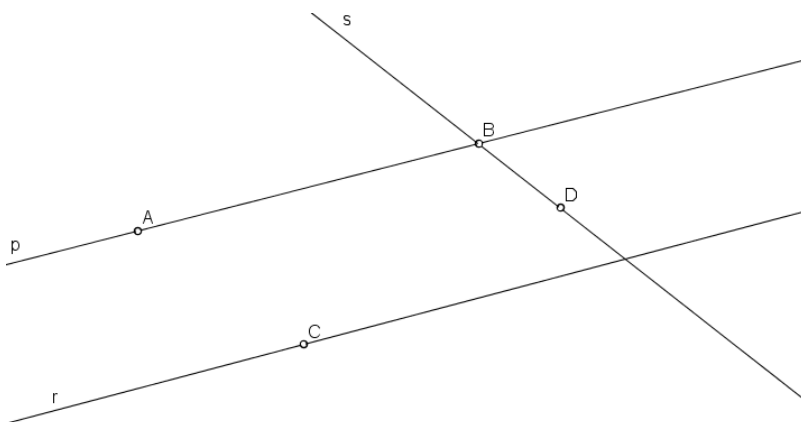
Lik ki ga omejujejo narisane daljice:

\_\_\_\_\_

10. Premica  $p$  gre skozi točki  $H$  in  $J$ . Koliko poltrakov opaziš? \_\_\_\_\_



11. Z matematičnimi simboli opiši lego točk.



\_\_\_\_\_

\_\_\_\_\_

\_\_\_\_\_

\_\_\_\_\_

12. Nariši točke  $C$ ,  $D$  in  $E$ . Skozi točke nariši premice in jih označi. Z matematičnimi simboli zapiši lego točk.

---

---

---

---

13. Na poltraku  $AB$  nariši med točkama  $A$  in  $B$  točko  $F$ . Koliko točk leži na poltraku? \_\_\_\_\_

14. Upoštevaj matematične zapise in nariši:

$K \notin F$        $F \in n$        $T \in p$