

# DRUŽBA, 5. razred

## UČNA TEMA: Ponavljanje in utrjevanje

### POTEK URE

#### Vprašanja za ponovitev snovi – alpski in predalpski svet

- Na katere naravne enote delimo Slovenijo?
- Katera naravna enota je v Sloveniji najboljsežnejša in kje se razprostira?
  - Kako so gorovja v alpskem svetu porasla z rastlinstvom?
  - Katere reke izvirajo v alpskem svetu?
- Katera kotlina je najboljsežnejša v predalpskem svetu?
  - Opiši značilnosti vseh treh kotlin.
  - Kaj je značilno za podnebje v kotlinah in dolinah?
- Katere gorske skupine sestavljajo alpski svet in kateri so najvišji vrhovi v posamezni gorski skupini?
  - Katera hribovja zasledimo v predalpskem svetu?
- Kaj je Triglavski narodni park? Naštej nekaj rastlin in živali, ki so zaščitene ter povzemi nekaj pravil, ki veljajo v njem.
  - Opiši značilno alpsko hišo in pojasni njen stil.

- Kje v predalpskih pokrajinah so najbolj znani po čipkarstvu? Kaj veš o njem? Kako se imenuje postopek izdelovanja čipke?
  - Kaj so izdelovali v Domžalah?
  - Kje so zgradili glažute in zakaj?
- Pojasni, zakaj je Ljubljana upravno, poslovno, izobraževalno in kulturno središče Slovenije.
- Na zemljevidu poišči največje kraje vseh treh kotlin v predalpskem svetu.
  - Iz česa so v predalpskem svetu tkali platno?
  - Kaj je planšarstvo in kje so se ukvarjali z njim?
    - Kakšna dejavnost je flosarstvo?
  - Opiši razliko med tovorništvom in prevozništvom.
  - S čim se ljudje v alpskem svetu preživljajo danes?
- Katere turistične prireditve pomagajo ohranjati spomin na gospodarske dejavnosti v preteklosti?
  - Kaj veš o rudarstvu?
- Primerjaj predalpski svet z alpskim. Naštej nekaj razlik in podobnosti.


**Aktivnost: Reševanje delovnega lista**

## PREDALPSKI SVET

Ime in priimek: \_\_\_\_\_

Datum: \_\_\_\_\_

1. Opazuj fotografijo in jo preriši na sosednjo risbo tako, da boš gozd narisal zeleno, njive rjavo, travnike rumeno, naselja rdeče in ceste črno.



Opiši lego naselij glede na površje, osenčenost in prometnice.

---

---

2. Odgovori na sledeča vprašanja.

a) Zakaj so višje ležeča naselja manjša od tistih, ki ležijo nižje?

---

b) S čim misliš, da se ukvarjajo prebivalci teh zaselkov in vasi?

---

c) Katere reke tečejo skozi:

- Ljubljansko kotlino: \_\_\_\_\_
- Celjsko kotlino: \_\_\_\_\_
- Velenjsko kotlino: \_\_\_\_\_

d) Katera večja mesta ležijo v:

- Ljubljanski kotlini: \_\_\_\_\_
- Celjski kotlini: \_\_\_\_\_
- Velenjski kotlini: \_\_\_\_\_

3. Ustrezno poveži besede, ki predstavljajo značilnosti kotline, z grbi mest.



4. Opazuj zemljevid Velenjske kotline in odgovori na vprašanja.


a) Koliko jezer je v kotlini? \_\_\_\_\_

b) Zakaj so nastala? \_\_\_\_\_

c) Kolikokrat je narisani znak za rudnik? \_\_\_\_\_ Preriši ga



d) Poišči termoelektrarno TE Šoštanj in si izmisli znak za njo.



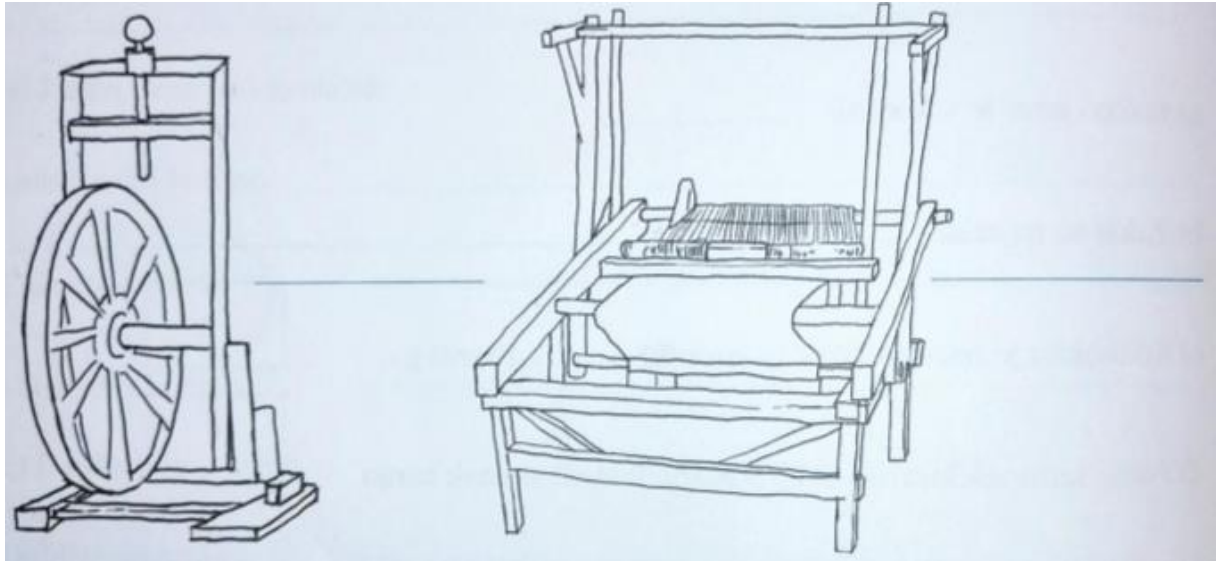
5. Katera rastlina je bila nekoč osnova za razvoj platnarstva?

---

6. Iz česa so izdelovali sukno?

---

7. Poimenujte pripravi na sliki, ki so ju uporabljali za predenje in tkanje.



---

8. Naštej in opiši načine transporta oz. prevoza različnih stvari in ljudi v predalpskem in alpskem svetu.

---

---

---

---

---

---