

DRUŽBA, 5. razred

UČNA TEMA: Obpanoski svet – ponavljanje in utrjevanje

POTEK URE

S pomočjo naloge na povezavi, ponovimo, kar smo se v minulih dneh naučili o obpanonskem svetu.

<https://h5p.splet.arnes.si/2020/12/22/panonski-svet-ponovitev/>

Pogledamo si še sledeč posnetek.

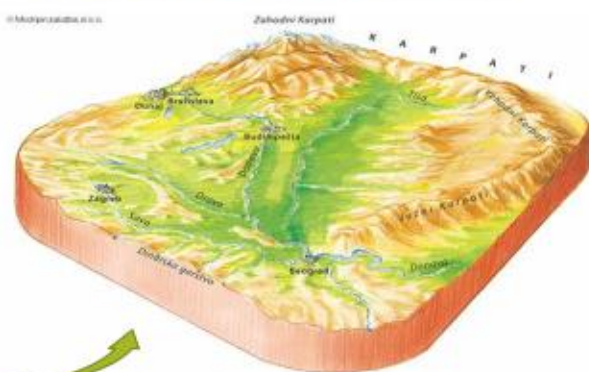
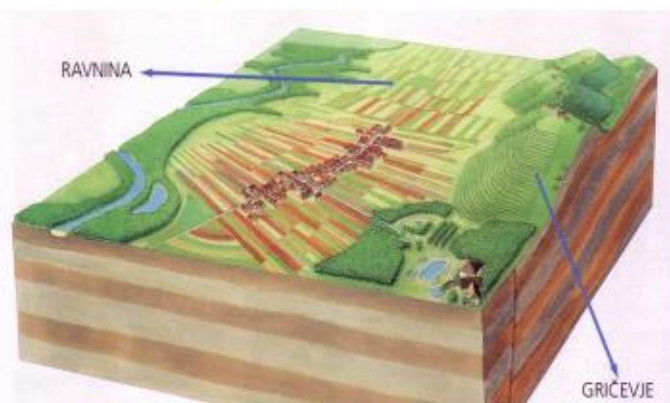
<https://video.arnes.si/watch/vndq8vxl0q6>

OBPANONSKE POKRAJINE ležijo na **vzhodu** Slovenije.



Poišči ta del Slovenije tudi na svojem zemljevidu. Obkroži ga. Opazuj, s katerimi barvami je označen. Zakaj misliš, da prevladuje ta barva?

Za te pokrajine so značilne **ravnine** in **gričevja**.



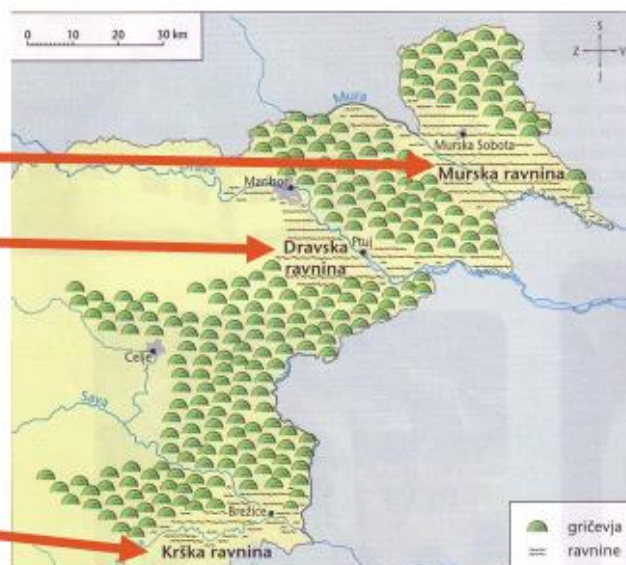
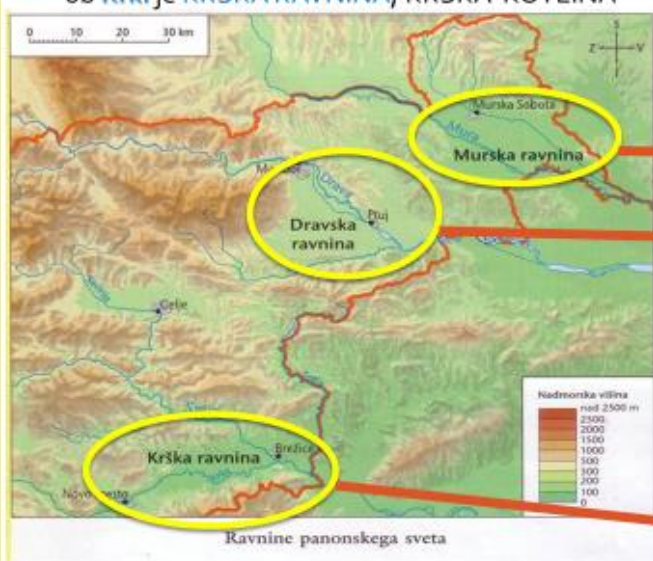
Ravnine so ob velikih rekah, gričevja pa med ravninami.
Ravnine so del velike Panonske nižine.



Ravnine obpanonskega sveta so dobile imena po rekah, ob katerih tečejo.

- ☞ Ob Dravi je **DRAVSKA RAVNINA**; DRAVSKO in PTUJSKO POLJE
- ☞ ob Muri je **MURSKA RAVNINA**,
- ☞ ob Krki je **KRŠKA RAVNINA**; KRŠKA KOTLINA

Na svojem zemljevidu poišči vse tri reke ter obkroži ravnine.



Ravnine prevladujejo ob rekah MURI, DRAVI in KRKI. Po ravninah tečejo še manjše reke, ki so pritoki večjih.

- porečje reke MURE:

<https://youtu.be/hszGVN9Ndhw>

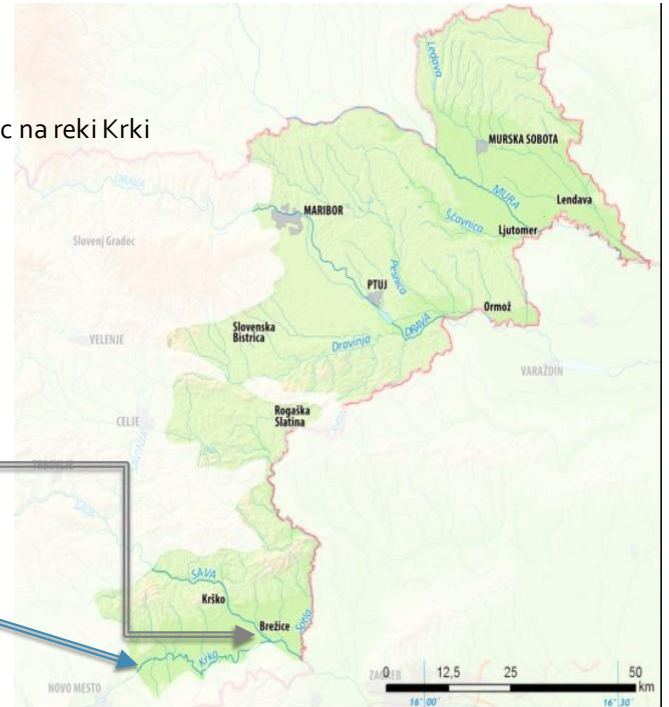


- porečje reke DRAVE:

<https://youtu.be/Ts718LHb4vs>



Grad Otočec na reki Krki



KRKA vso svojo pot naredi v Sloveniji.

Pri Brežicah se izlije v našo najdaljšo reko Savo.

TVOJA NALOGA:

S prstom potuj po rekah, po katerih se imenujejo ravnine.

V zvezek zapiši naslov iz prve prosojnice, nato pa zapiši vsaj tri naselja, ki se nahajajo ob posamezni reki.

POPLAVE

Včasih reke tudi **POPLAVIJO**, zato je ob rekah pogosto močvirje.

Zaradi tega so ob rekah travniki in pašniki, pa tudi gozd.



<https://www.youtube.com/watch?v=0Tv8ihDCHYs>



<https://www.youtube.com/watch?v=blL44GhZhI8>

Nekateri pojavi ob in na rekah

1. okljuki
2. otoki
3. mrtvice

Novo mesto na
okljuku reke Krke



1. OKLJUKI

Reke tečejo počasi in delajo številne vijuge, ki jih imenujemo okljuki.

Okljuki na reki Krki




Kostanjevica na Krki



2. OTOKI NA REKI

Reke se cepijo v rokave, med katerimi ostajajo rečni **otoki**.

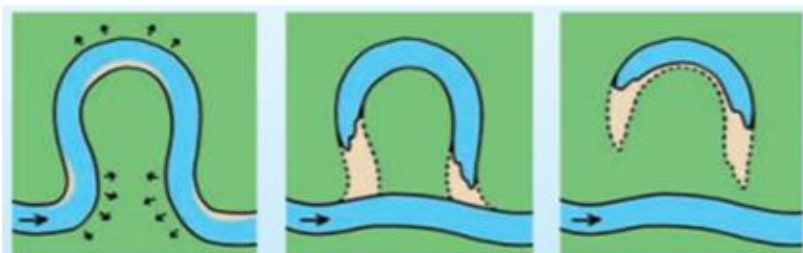
Mariborski otok



3. MRTVICE

V času **visoke vode** reka velikokrat **menja strugo**, pri čemer pušča za seboj opuščene meandre imenovane **mrtvice**.

Najbolj znana po mrtvicah je reka **Mura**.



Shema nastajanja mrtvice

Vprašanja za ponovitev obpanonskega sveta

1. Kaj je značilno za poselitev obpanonskih pokrajin?
2. Katera so poleg Maribora in Novega mesta večja naselja? Poišči jih na zemljevidu.
3. Kateri tip poselitve je značilen za ravnine? Kaj pa za gričevja?
4. Opiši obpanonsko hišo.
5. Kaj so to zidanice?
6. Kateri kmetijski panogi prevladujeta v gričevju?
7. Kaj so to glažute? Kje je danes steklarna?
8. Kako so v preteklosti izkoriščali nahajališča gline?
9. Kakšno vlogo je imelo splavarstvo?
10. Na zemljevidu poišči zdravilišča.

