

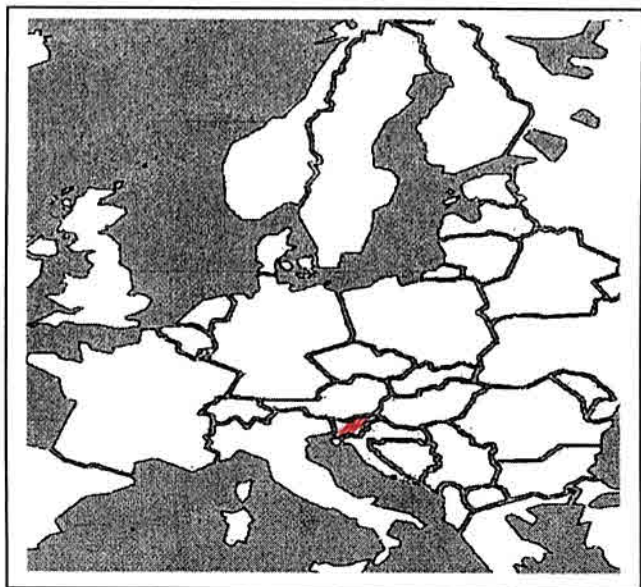
Ime in priimek: \_\_\_\_\_

Datum: \_\_\_\_\_

## PREVERJANJE – SPOZNAVANJE OKOLJA – 3. RAZRED

### ŽIVIM V SLOVENIJI, SLOVENIJA JE V EVROPI, PRAZNIKI, DEDIŠČINA, URA

#### 1. Na zemljevidu poišči in pobarvaj Slovenijo.



#### 2. Vstavi manjkajoče besede:

a)

Država, v kateri živim, se imenuje

Republika Slovenija.

Njeno glavno mesto je

Ljubljana.

Najvišja gora je Triglav.

Govorimo slovenski

jezik. Poleg Slovencev v Sloveniji živita dve

manjšini. To so Madžari in Italijani.

b) Obkroži pravilno: Naš denar se imenuje MARKA, KUNA, DOLAR, EURO, TOLAR.

c) Naše sosednje države so Austrija, Švavska,  
Madžarska, Italija.

č) Državni simboli Slovenije so: zastava, grb, himna.

Barve zastave po vrstnem redu od zgoraj navzdol so: belo, modra,  
rdica.

Grb Slovenije ima obliko ščite. V sredini je Triglav v beli barvi, pod njim  
sta dve valoviti modri črti, ki ponazarjata reke in morje. Zgoraj pa so v obliki navzdol  
obrnjenega trikotnika razporejene tri zlate (rumene) šesterokrake zvezde.

Slovenska himna se imenuje Zdravljica.

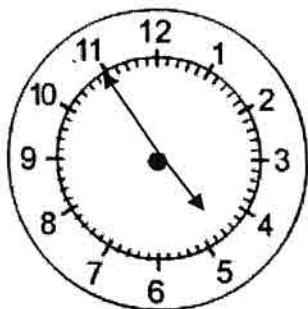
**7. Kje so shranjeni stari predmeti?**

V muzejih, arhivih, galerijah in knjižnicah.

**8. Napiši tri primere naravne dediščine v Sloveniji.**

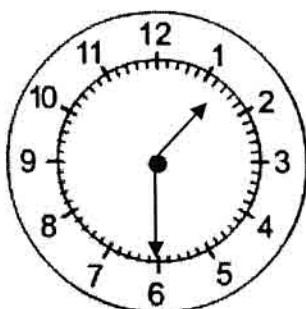
Postojnsko j., slovenske vilnice, Blejski stol, ...

**9. Na črto napiši, koliko je ura.**




ZJUTRAJ: 4.55

POPOLDAN: 16.55



PONOČI: 1.30

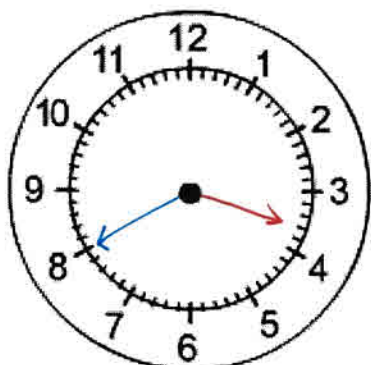
POPOLDAN: 13.30



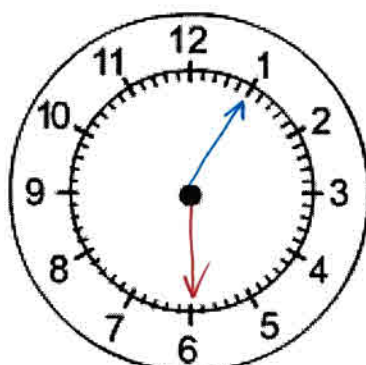
DOPOLDAN: 9.00

ZVEČER: 21.00

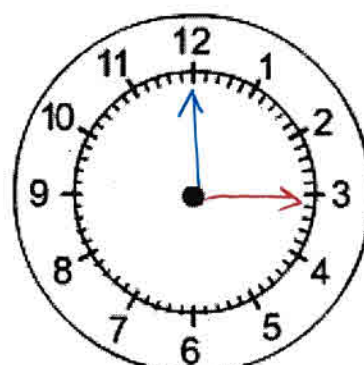
**10. Nariši kazalce, da bo ura kazala tako kot piše pod uro.**



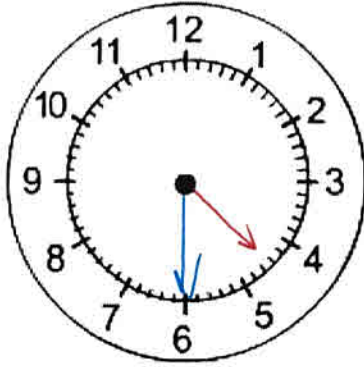
**3.40**



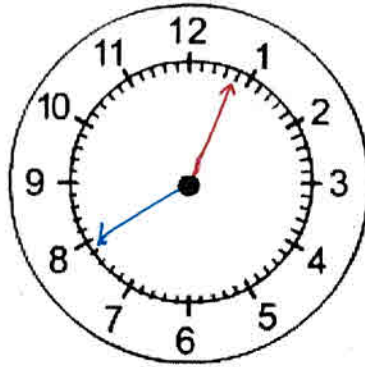
**5 MINUT ČEZ 18**



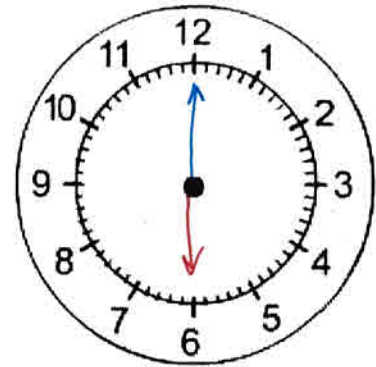
**PETNAJST**



**POL 5**



**20 MINUT DO 13**



**6.00**

**11. Maticu se konča pouk ob 12.30, v oddelku podaljšane bivanja pa ostane še dve uri. Do doma hodi pol ure. Ob kateri uri pride domov?**

Odgovor: Domov pride ob 15.00.

**12. Mama vsak dan začne službo ob 7.00. V službi dela 8 ur. Kdaj pride nazaj domov, če za vožnjo iz Kranja porabi 20 minut?**

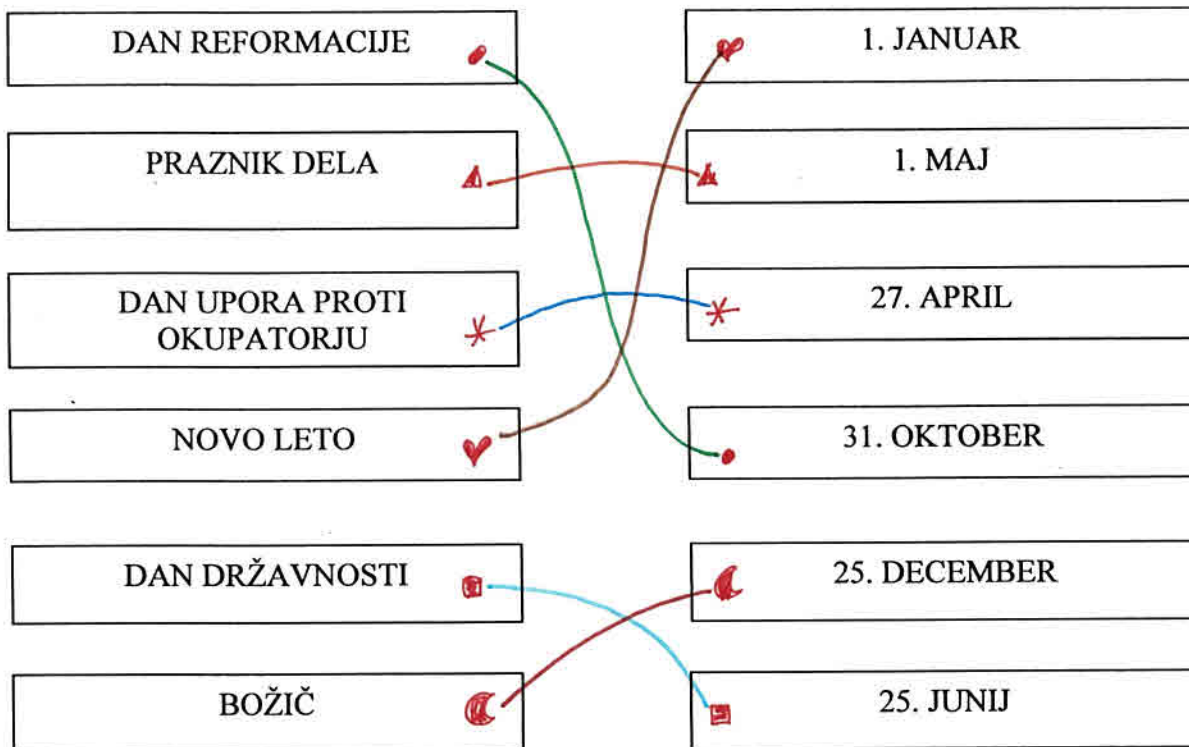
Odgovor: Nazaj domov pride ob 15.20.

**13. Dopolni z imeni mesecev in številom dni.**

PO VRSTI JE	IME MESECA	STARO IME MESECA
12.	december	gruden
6.	junij	roxnik
2.	februar	svečan
8.	avgust	veliki srpan

d) Slovenija je članica zveze evropskih držav. Ta zveza se imenuje Evropske unija.  
Himna Evropske unije se imenuje Ode radosti.

**3. Podatke v levem stolpcu poveži s podatki v desnem stolpcu. Uporabi različne barve.**



**4. Kaj je dediščina?**

Dediščina je vse, kar so nam kapustili predniki.  
Dediščine so dobrine podedovane iz preteklosti.

**5. Zakaj je dobro poznati našo preteklost?**

Ker tako izvenmo, kako so miro živeli.

**6. Napiši tri primere kulturne dediščine v Trzinu.**

Staro mestno jedro, Kurnikova hiša, firkca ob eni,  
Trzinški murij, kovarska delavnica, Tekcive jaskice,  
čevljarske nutilke, Taborišča Ljubelj, knjižna tiskarna