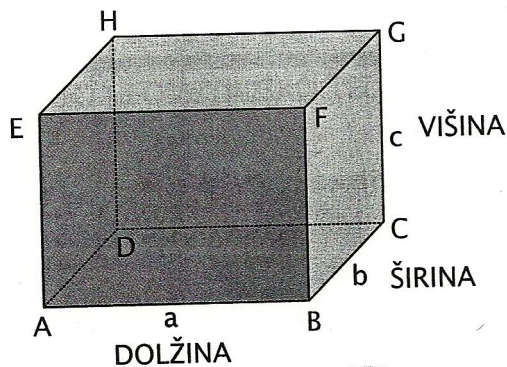
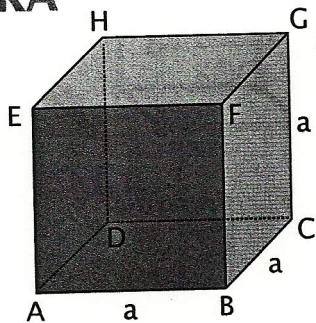


KVADER



Kvader je oglatno geometrijsko telo. Omejuje ga šest mejnih ploskev. Mejne ploskve so pravokotniki. Ima dvanajst robov in osem oglišč.

KOCKA



Kocka je kvader, ki ima vse robove enako dolge.



Kocka je oglatno geometrijsko telo. Omejuje jo šest mejnih ploskev. Mejne ploskve so kvadrati. Ima dvanajst robov in osem oglišč.

MREŽA KVADRA

Zgled 1

a) Bojan in Mojca opazujeta škatlice, ki sta jih prinesla od doma.




Škatle imajo obliko kvadra.

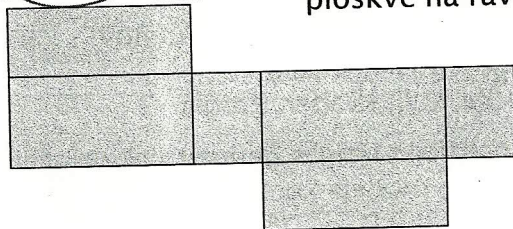
b) Bojan razreže škatlo vzdolž nekaterih robov in razgrne mejne ploskve na ravnino.



Škatli bova obrezala zavihke.



c) Mojca razreže enako škatlo vzdolž drugih robov in razgrne mejne ploskve na ravnino.



č)



Sošolca sta svoje škatle razrezala drugače. Poskušaj še ti.

Dobili smo mrežo kvadra.

