


Zgled 2

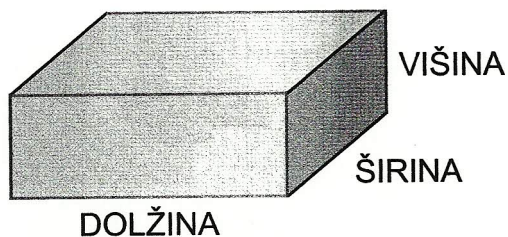
a) Ob nastalih mrežah Bojan in Mojca ugotavljata:



Kvader ima šest mejnih ploskev, ki so pravokotniki. Skladne pravokotnike pobarvata z enako barvo. Stranici, ki se združita v isti rob, pobarvata z drugo barvo.



a) Mrežo kvadra preneseta na ravnino lista, obrišeta mejne ploskve, izrežeta in sestavita model kvadra.


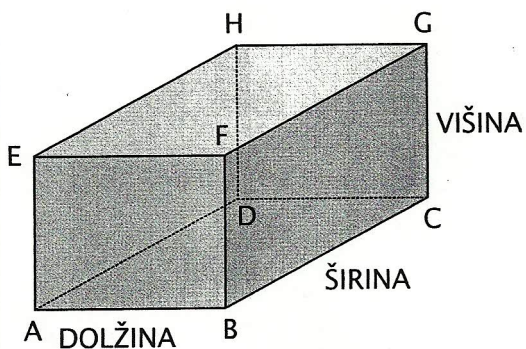


Robove kvadra, ki se stikajo v enem oglišču, imenujemo dolžina, širina in višina.



Zgled 3

Kvadrju z robovi 2 cm 5 mm, 3 cm in 2 cm na karirast papir narišemo mrežo.



Liku, iz katerega lahko sestavimo model kvadra, pravimo mreža kvadra. Mrežo kvadra sestavlja šest pravokotnikov, po dva pravokotnika sta skladna.