




Izračunaj račune. Rezultatom poišči enaka števila v legendi in črko nad številom vpiši v ustrezno polje v križanki.

Če si pravilno računal, boš v križanki navpično dobil imena petih slovenskih rek.

	A	B	C	D	E
1					
2					
3					
4					
5					



IZRAČUNAJ

	A	B	C	D	E
1	<u>74 · 21</u>	<u>12000 · 2</u>	<u>35 · 27</u>	<u>772 · 300</u>	<u>600 · 40</u>
2	<u>317 · 52</u>	<u>542 · 213</u>	<u>1600 · 25</u>	<u>832 · 203</u>	<u>8242 · 2</u>
3	<u>800 · 50</u>	<u>832 · 700</u>	<u>206 · 7</u>	<u>4121 · 4</u>	<u>80 · 300</u>
4	<u>103 · 14</u>	<u>317 · 206</u>	<u>200 · 200</u>	<u>564 · 107</u>	<u>4000 · 10</u>
5	<u>1250 · 32</u>	<u>20000 · 2</u>		<u>40000 · 1</u>	

LEGENDA

A	D	R	V	K	O	L	P	I	S	M	N
40000	1554	16484	1442	24000	115446	582400	65302	168896	945	231600	60348