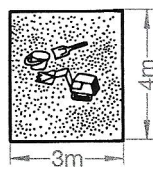
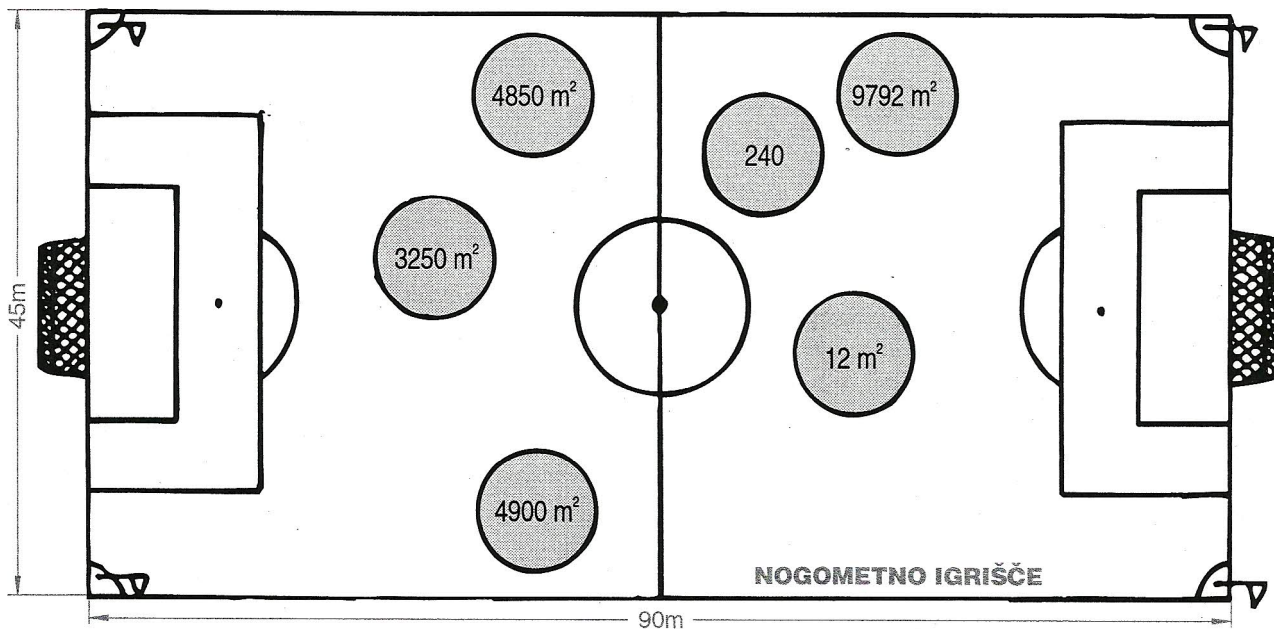
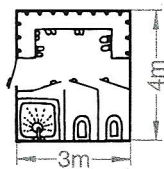


Reši naloge in rezultate poišči v žogah na igrišču. En rezultat ne spada zraven. Prečrtaj ga.

PESKOVNIK



GARDEROBA



1. V športnem parku, ki je dolg 102 m in širok 96 m so igrišča. Koliko kvadratnih metrov meri športni park?

Račun:

Rezultat:

2. Kolika je ploščina peskovnika?

Račun:

Rezultat:

3. Tla v garderobi so pokrita s ploščicami. Koliko so jih porabili, če je vsaka ploščica dolga 25 cm in široka 20 cm?

Račun:

Rezultat:

4. Koliko kvadratnih metrov površine pokrivata igrišči?

Račun:

Rezultat:

5. Za koliko kvadratnih metrov je nogometno igrišče večje od igrišča za košarko?

Račun:

Rezultat: