

NASLOV!

# Z DOLOČEVALNIMI KLJUČI PREPOZNAMO RASTLINE

21. 5. 2020

- ▶ **Najprej preberi v učbeniku strani 108. in 109. nato pa nadaljuj s snovjo...**



- Določevalni ključi so posebej zasnovane knjige, ki nam omogočajo prepoznati rastlinske vrste.
  
- Določevalni ključi so zasnovani na dva osnovna načina:
  1. **SLIKOVNI KLJUČ** – iščemo rastlino na podlagi ustrezne **fotografije** ali **risbe** rastline (torej na **osnovi slik**).
  2. **DVOVEJNI KLJUČ** – iščemo rastlino tako, da sledimo zaporedju trditev in se odločamo med **dvema** možnostma (**opisov rastlin**).

- ▶ Oglej si primera obeh vrst ključev v učbeniku na str. 109.
- ▶ Ker je to prezahtevno za šestošolce, boš nižje našel dvovejni (=dihotomni) slikovni ključ. Z njegovo pomočjo boš določil tri drevesne vrste listavcev.



PREPIŠI!

- ❑ Pri rastlinah največkrat opazimo razliko v zgradbi listov.
  
- ❑ Listi se razlikujejo po:
  - obliki listne ploskve,
  - dolžini peclja,
  - obliki listnega roba,
  - razporeditvi listnih žil.

Oblike listne ploskve:



List z enotno listno ploskvijo – **enostavni list**

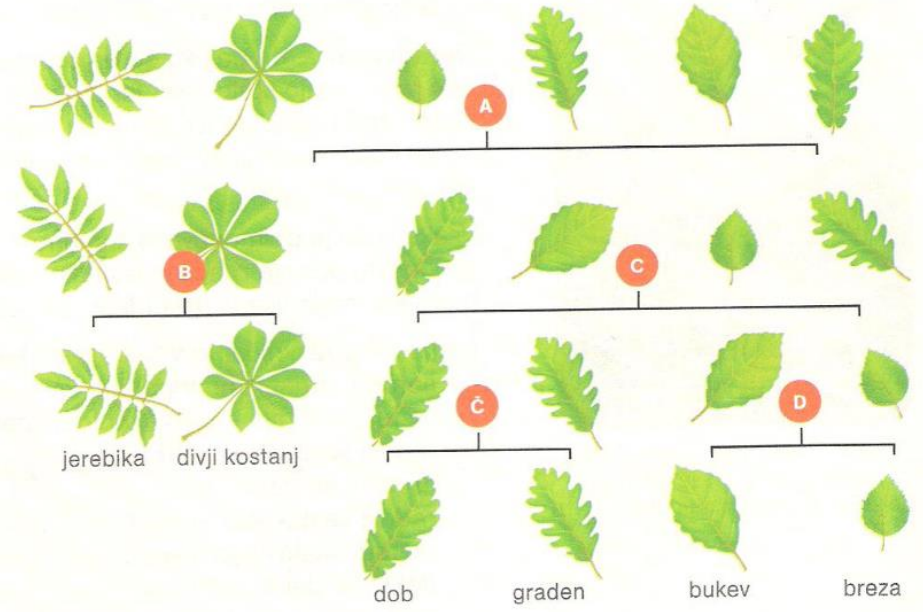


Močno zarezan list (ne do glavne osi) – **krpati list**



List, sestavljen iz lističev – **sestavljeni list**

Za pomoč pri prepoznavanju uporabljamo različne **določevalne ključe**.



**Dihotomni slikovni ključ za določanje izbranih listopadnih dreves**

- A ... enostavni list
- B ... pernato ali dlanasto deljeni list
- C ... močno valovit ali drugačen listni rob
- Č ... krajši ali daljši pecelj
- D ... valovit ali nazobčan listni rob

S pomočjo določevalnega ključa (učni list zgoraj) določi drevesne vrste in izpolni razpredelnico. (List sprintaj in prilepi v zvezek ali prepíšeš/prerišeš v zvezek)


Reši in rešitve prepíši!

# NALOGA 1:

Dobro si oglej oblike listnih ploskev in preberi dihotomni (dvovejni) slikovni ključ za določanje izbranih listavcev.

a) Oglej si herbarizirane liste posameznih drevesnih vrst in jih poimenuj.

b) Na vsaki fotografiji obkroži en drevesni list.




c) Dopolni z navedbo oblike listne ploskve.

Drevo ima _____ liste.	Drevo ima _____ liste.	Drevo ima _____ liste.
------------------------	------------------------	------------------------

c) Navedi po dva primera listov s takšno obliko listne ploskve.

-	-	-
-	-	-





Reši in rešitve prepisi!

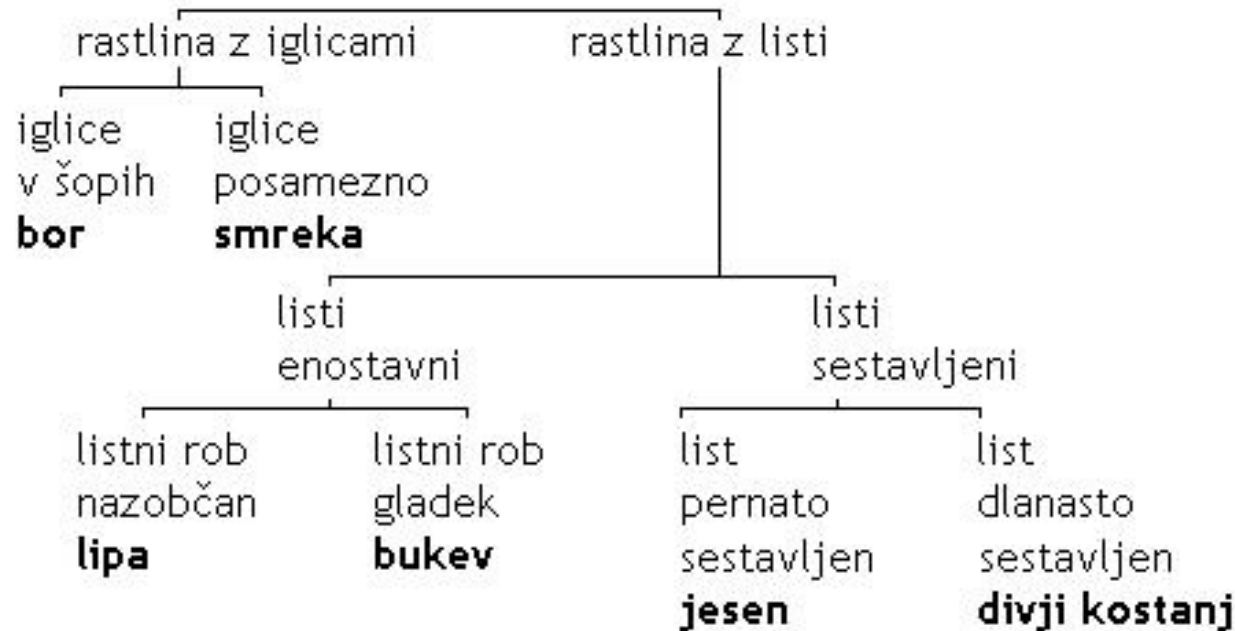
## NALOGA 2:

Ali prepoznaš rastline na sliki?

Če ne, si pomagaj s preprostim določevalnim ključem.

V okvirčke vpiši ustrezne številke.

(V zvezek zapiši samo rastlino in številko, ki ji pripada ali prepisi spodnjo tabelico ter dopiši številko!)



bor	<input type="checkbox"/>	divji kostanj	<input type="checkbox"/>	lipa	<input type="checkbox"/>
bukev	<input type="checkbox"/>	jesen	<input type="checkbox"/>	smreka	<input type="checkbox"/>

- ▶ **Prepis in rešitve pošljite na moj, vam že znani e- naslov...**

