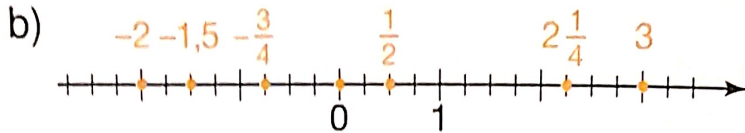
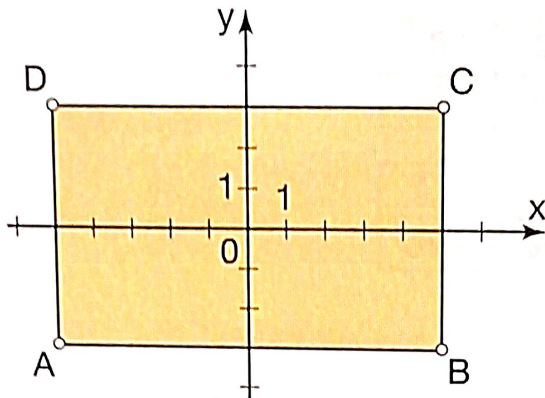


KOLIKO ZNAM?

1. a) $T_1(-3)$, $T_2(-1,6)$, $T_3(0,8)$, $T_4(2)$ in $T_5(2,6)$



2.



$A(-5, -3)$, $B(5, -3)$, $C(5, 3)$

3. a) Do babice je potreboval 40 minut.

b) Počival je 15 minut.

c) Po 25 minutah je bil 1 km daleč.

č) Babica živi 2 km od Roka.

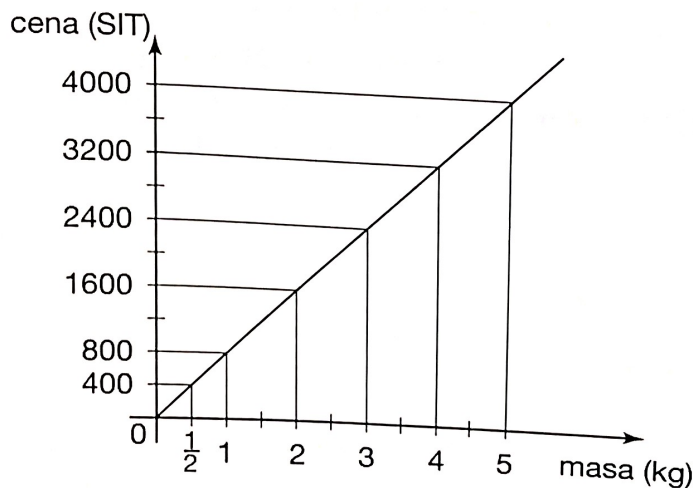
4.

x	1	4	6	5	8
y	2	8	12	10	16

Enačba premega sorazmerja je $y = 2x$.

5.

masa (kg)	5	1	2	3	$\frac{1}{2}$	4
cena (SIT)	4000	800	1600	2400	400	3200



a) En kilogram stane 800 SIT, dva kilograma 1600 SIT, trije kilogrami pa 2400 SIT.

b) Za 400 SIT dobiš $\frac{1}{2}$ kilograma, za 3200 SIT pa 4 kg keksov.

6. Udeležba je bila 75-odstotna, 25 odstotkov staršev se sestanka ni udeležilo.

7. a) Štirje obiralci bi obrali jabolka v dveh dneh.

b) Da bi bila jabolka obrana, bi delal en človek osem dni.