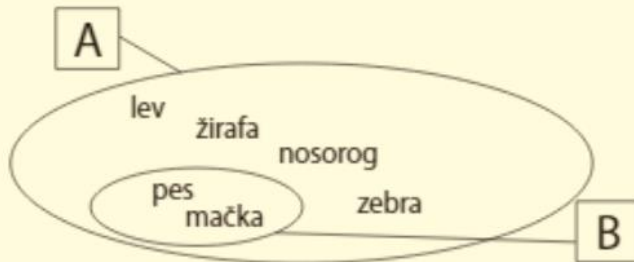


REŠI SPODNJE NALOGE V ZVEZEK, ALI SI REŠENE PRILEPI!**Množica, podmnožica, unija, presek**

1. Oglej si risbo in dopolni spodnje zapise.



A = {

B = {

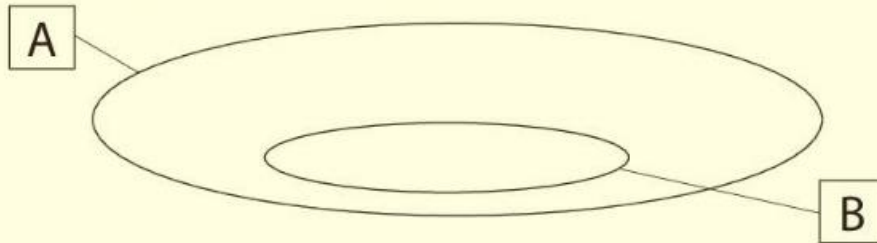
Množica B je množice A.

Vsi elementi množice B tudi elementi množice A.
so/niso

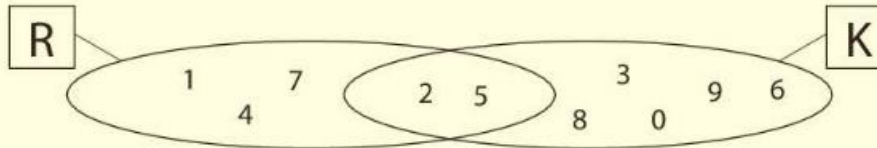
Vsi elementi množice A tudi elementi množice B.
so/niso

Naj ti dam
namig: drevesa
so listavci
in ...?

2. Člani množice A naj bodo drevesa. Dopolni po lastni izbiri.



3. Dopolni spodnji zapis in odgovori na vprašanje.



$$R \cap K = \{ \dots \} \quad R \cup K = \{ \dots \}$$

Katero skupno lastnost imajo številke množice R in katero skupno lastnost imajo številke množice K?

.....

.....

4. Nariši množico A, v kateri so večkratniki števila 3 do vključno 10-kratnika, in množico B, v kateri so večkratniki števila 9 do vključno 6-kratnika. Zapiši njun presek in unijo.

5. UTRJEVANJE NALOG V DZ str. 54/55 DELO V ŽIVO!