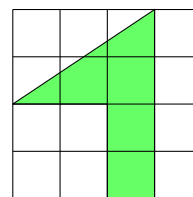
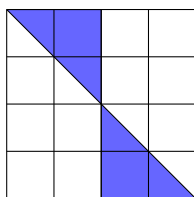
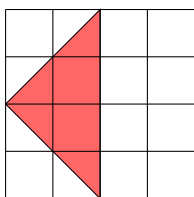


ODSTOTKI 3

Pozdravljeni. Pred vami je nekaj računov. Prepišite in rešite jih v zvezek. Rešitve oddajte v spletni učilnici.

1. Pobarvane dele izrazi z odstotki.



2. Odstotke zapiši z ulomkom, okrajšanim ulomkom in decimalnim številom.

$11\% =$

$125\% =$

$20\% =$

$100\% =$

$95\% =$

$150\% =$

3. V trgovini se je izdelek, ki je prej stal 280 €, pocenil za 25 %. Za koliko € se je pocenil in koliko stane ta izdelek sedaj?
4. Čevlji, ki so stali 40 €, so se pocenili za 12 €. Koliko % je to?
5. Bluza, ki je stala 15 €, se je pocenila in stane 10 €. Za koliko % se je pocenila?
6. Plazma, ki je stala 450 €, se je pocenila 15 % . Koliko je nova cena ?
7. Prvi dan sta Maja in Rok pospravila sobe, kar predstavlja 80 % cele sobe. Koliko m^2 meri cela soba?
8. V podjetju so prvo leto zaposlili 55 ljudi, naslednje leto pa jih je bilo zaposlenih že 70. Koliko % se je povečala zaposlitev?
9. V trgovini so prodali krompirja, kar je 16 % vsega krompirja, ki so ga imeli na zalogi. Koliko ton krompirja je bilo na zalogi? Telefon, ki je stal v akcijski prodaji 100 €, stane zdaj 160 €. Koliko % se je podražil?
10. Pravokotniku z dolžino 40 cm in širino 30 cm povečamo dolžino za 10 %, širino pa skrajšamo za 10%. Za koliko odstotkov se spremeni ploščina pravokotnika?
11. Zbirko matematičnih nalog so pocenili za 20 % in stanejo po novem 16 €. Kolikšna je bila prvotna cena vaj?
12. Obleka je stala 80 €. Ceno so zvišali za 10 %, nato pa znižali za 10 %. Koliko stane obleka sedaj?
13. Če število 2,45 zaokroži na desetine, kolikšno napako narediš?
14. Kozmetični izdelek se je podražil za 22 % in zdaj znaša 61 €. Koliko je stal pred podražitvijo in za koliko evrov se je podražil?