


Evropski matematični kenguru 2004

Naloge za 1. razred OŠ

1. Živali so hodile v vrsti. Katera žival je hodila pred petelinom?



(A) A


(B) B

(C) C

(D) D

(E) E

2. Kateri avto je Tinetov?



(A) A

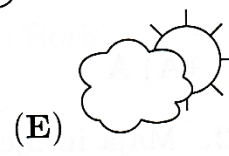
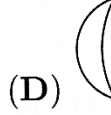

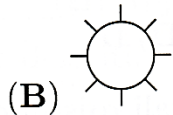


(B) B

(C) C

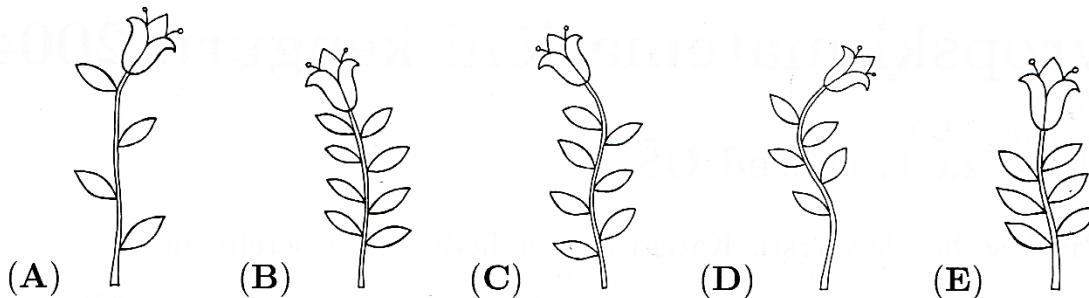
(D) D

(E) E

3. Žan je na list papirja po vrsti narisal sonček, oblak, luno, pa spet sonček in tako dalje (glej sliko). Kateri lik mora Žan narisati naslednji v vrsti?



4. Katera cvetlica ima največ listov?



5. Ida ima jabolka in banane (glej sliko). V katerem lončku je več frnikol, kot ima Ida banan, a manj, kot ima jabolok?

