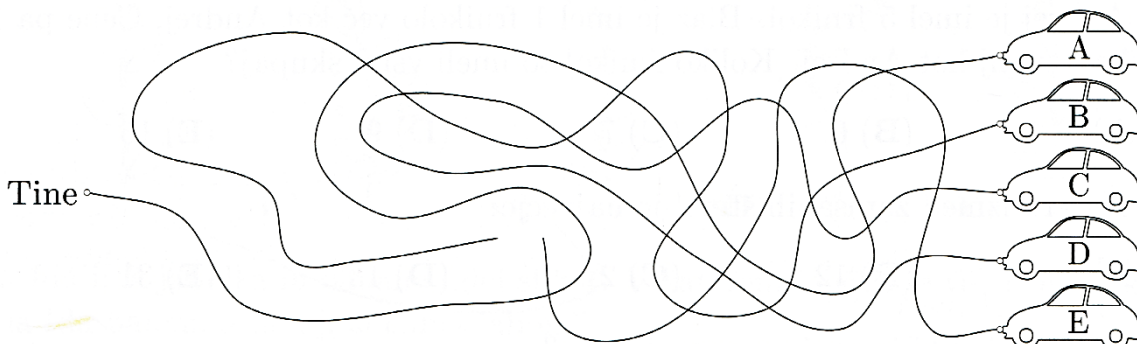


Naloga za 3. razred OŠ

1. Kateri avto je Tinetov?



- (A) A (B) B (C) C (D) D (E) E

2. Katero izmed zapisanih števil je največje?

- (A) 9 (B) 32 (C) 23 (D) 54 (E) 45

3. Andrej je imel 5 frnikol. Blaž je imel 1 frnikolo več kot Andrej, Cene pa 1 frnikolo manj kot Andrej. Koliko frnikol so imeli vsi 3 skupaj?

- (A) 4 (B) 6 (C) 7 (D) 9 (E) 15

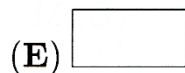
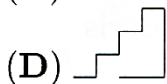
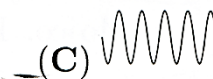
4. Samo 1 račun je pravilen. Kateri?

- (A) $14 + 0 + 0 = 16$ (B) $9 + 0 - 1 = 8$ (C) $15 - 0 + 1 = 15$
 (D) $8 + 1 - 0 = 8$ (E) $0 + 0 + 1 = 0$

5. Koliko je $56 - 20 + 8 - 15$?

- (A) 19 (B) 29 (C) 39 (D) 79 (E) 99

6. Na kateri sliki je narisana sklenjena črta?



7. Pri likovnem krožku je bilo 15 otrok. Število deklet je bilo za 1 večje od števila fantov. Koliko je bilo deklet?

- (A) 1 (B) 7 (C) 8 (D) 14 (E) 16

8. Tine je v odštevanju prekril desetice.

$$34 - \square 5 = 19$$

Katera številka je pod nalepko?

- (A) 0 (B) 1 (C) 2 (D) 3 (E) 4

9. Maja je imela 5 rumenih in 3 rdeče liste. Iz vsakega rumenega lista je izrezala 2 kvadrata, iz vsakega rdečega pa 3 trikotnike. Po 1 kvadrat in 1 trikotnik je nalepila v zvezek tako, da je oblikovala hiško. Največ koliko hišk je lahko oblikovala?

- (A) 3 (B) 5 (C) 8 (D) 9 (E) 10

10. Peter je prišel včeraj domov pred Anjo. Mojca je prišla pred Petrom. Boris ne pride nikoli pred Mojco. Kdo je prišel prvi domov?

- (A) Peter (B) Anja (C) Mojca (D) Boris
(E) Nemogoče je določiti.