

2. RAZRED OŠ

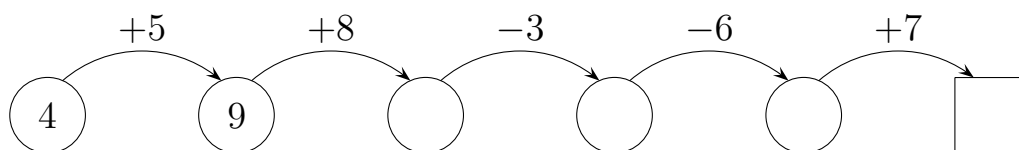
IME IN PRIIMEK _____

RAZRED _____ MENTOR _____

1	2	3	4	5	6	7	8	9	10

ZA REŠEVANJE IMAŠ NA VOLJO 45 MINUT. ODGOVORE ZAPIŠI V GORNJO PREGLEDNICO. ZA VSAK PRAVILEN ODGOVOR DOBIŠ 4 TOČKE. ZA VSAK NEPRAVILEN ODGOVOR TI ODŠTEJEMO 1 TOČKO. ČE PA PUSTIŠ POLJE V PREGLEDNICI PRAZNO, DOBIŠ 0 TOČK.

1. MAJ JE PRAVILNO RAČUNAL. KATERO ŠTEVILO JE ZAPISAL V KVADRAT?








- (A) 11 (B) 12 (C) 14 (D) 15 (E) 17

2. TADEJ JE PREBRAL 9 SLIKANIC. ANJA JE PREBRALA 2 SLIKANICI VEČ KOT TADEJ. KOLIKO SLIKANIC JE PREBRALA ANJA?

- (A) 2 (B) 7 (C) 9 (D) 10 (E) 11

3. MARKO JE DAL FRNIKOLE V VREČKE. NA VSAKO VREČKO JE NAPISAL, KOLIKO FRNIKOL JE V NJEJ. V KATERI VREČKI JE NAJMANJ FRNIKOL?

- (A)  (B)  (C)  (D)  (E) 


8. TETA META BO 3 OTROKOM RAZDELILA 12 BOMBONOV. VSAKEMU BO DALA ENAKO ŠTEVILO BOMBONOV. KOLIKO BOMBONOV BO DOBIL VSAK OTROK?

- (A) 1 (B) 3 (C) 4 (D) 6 (E) 12

9. BOR, NIK IN TIM SO TEKMOVALI, KDO BO PRVI IZRAČUNAL 10 RAČUNOV. NIK JIH NI IZRAČUNAL PRVI. TIM JIH JE IZRAČUNAL PRED BOROM. KDO JE PRVI IZRAČUNAL RAČUNE?

- (A) BOR (B) NIK (C) TIM
(D) BOR IN NIK (E) NI MOGOČE UGOTOVITI.

10. VEVERICA SE SPREHAJA PO LABIRINTU. DO KATEREGA DREVESA LAHKO PRIDE?



- (A)  (B)  (C)  (D)  (E) 