



4. IRENA JE KUPILA 7 ČOKOLAD, 12 LIZIK IN 20 BOMBONOV. PRIPRAVILA BO DARILA. V VSAKO DARILO BO DALA 1 ČOKOLADO, 2 LIZIKI IN 3 BOMBONE. NAJVEČ KOLIKO DARIL BO LAHKO PRIPRAVILA?

- (A) 5                      (B) 6                      (C) 7                      (D) 12                      (E) 20

5. MAJA JE NAPISALA PRAVILEN RAČUN, MARKO PA JE PREKRIL ODŠTEVANEC Z NALEPKO. KATERO ŠTEVILO JE POD NALEPKO?

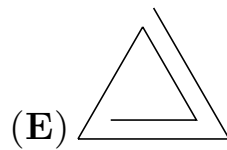

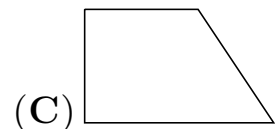
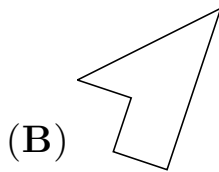
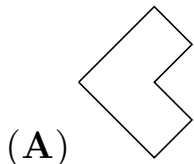
$$19 - \square = 7$$

- (A) 2                      (B) 7                      (C) 9                      (D) 12                      (E) 19

6. NA PRAZNOVANJU TININEGA ROJSTNEGA DNE SE JE ZBRALO 14 OTROK. ŠTEVILO FANTOV JE BILO ZA 2 VEČJE OD ŠTEVILA DEKLET. KOLIKO FANTOV JE BILO NA PRAZNOVANJU?

- (A) 2                      (B) 6                      (C) 8                      (D) 12                      (E) 16

7. NA KATERI SLIKI JE NARISAN PETKOTNIK?



8. UROŠ IN URŠKA IMATA MLAJŠO SESTRO JASNO.

UROŠ JE POVEDAL: "JASNA JE STARA 3 ALI 4 LETA."

URŠKA JE POVEDALA: "JASNA JE STARA 4 ALI 5 LET."


OBA IMATA PRAV. KOLIKO LET JE STARA JASNA?

- (A) 3                      (B) 4                      (C) 5                      (D) 7                      (E) 9

9. ANDRAŽ JE NA TABLO NAPISAL VSA ŠTEVILA OD 1 DO 21. KOLIKOKRAT JE NAPISAL ŠTEVKO 1?

- (A) 9-KRAT                      (B) 10-KRAT                      (C) 11-KRAT  
(D) 12-KRAT                      (E) 13-KRAT

10. VEVERICA SE SPREHAJA PO LABIRINTU. DO KATEREGA DREVESA NE MORE PRITI?



- (A)       (B)       (C)       (D)       (E) 