

1. RAZRED OŠ

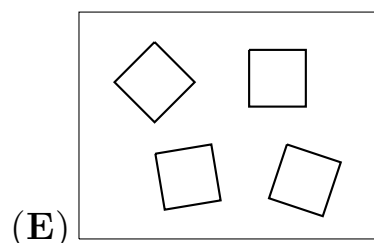
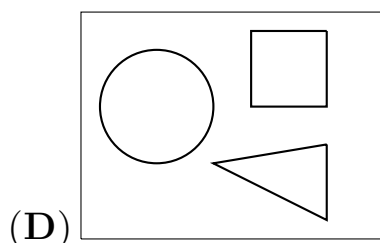
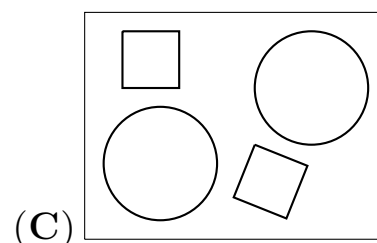

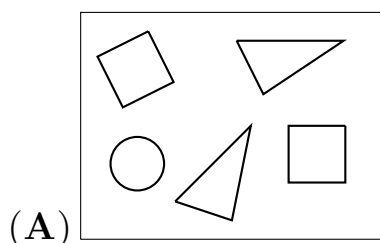
IME IN PRIIMEK _____

RAZRED _____ MENTOR _____


1	2	3	4	5

ZA REŠEVANJE IMAŠ NA VOLJO 45 MINUT. ODGOVORE ZAPIŠI V GORNJO PREGLEDNICO. ZA VSAK PRAVILEN ODGOVOR DOBIŠ 4 TOČKE. ZA VSAK NEPRAVILEN ODGOVOR TI ODŠTEJEMO 1 TOČKO. ČE PA PUSTIŠ POLJE V PREGLEDNICI PRAZNO, DOBIŠ 0 TOČK.






1. NA KATERI SLIKI LAHKO POBARVAŠ 3 ENAKE LIKE?



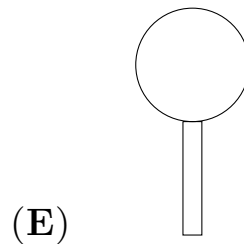
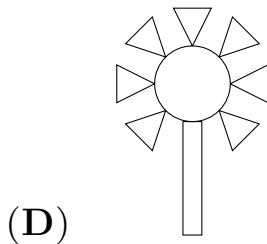
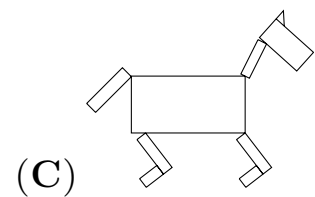
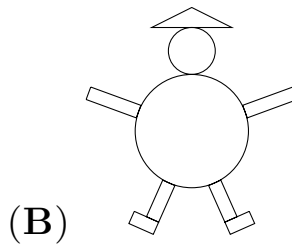
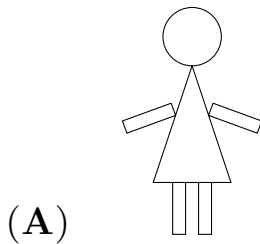
2. GAŠPER IMA VEČ BANAN KOT BRESKEV (GLEJ SLIKO).




S KATEREGA KROŽNIKA NAJ VZAME VSE BRESKVE, DA JIH BO IMEL TOLIKO KOT BANAN?



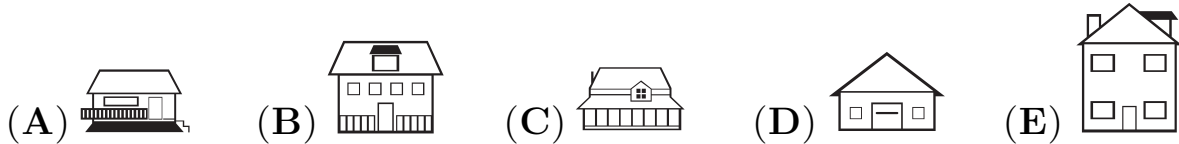
3. NA KATERI SLIKI NI KROGA?



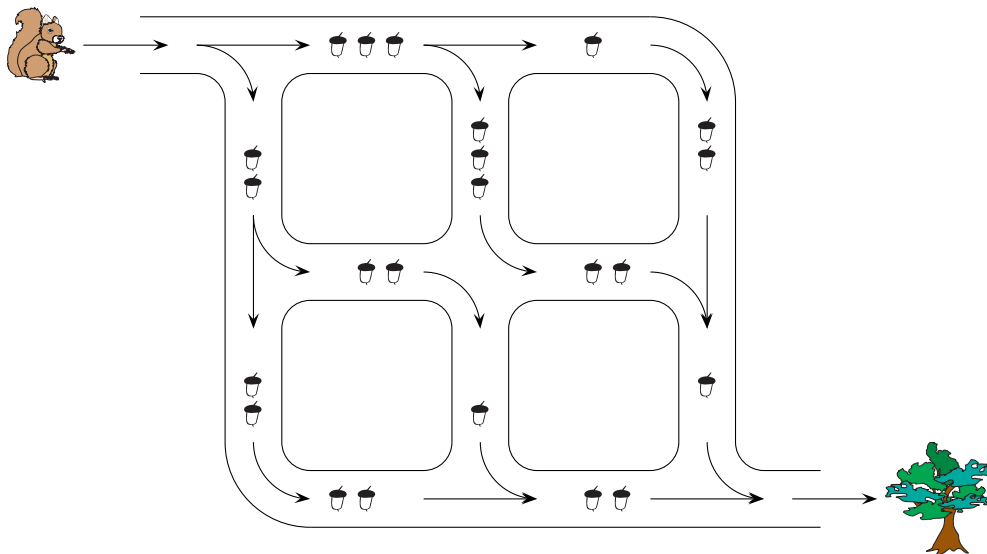
4. MAJA JE NARISALA NEKAJ HIŠ IN CERKEV (GLEJ SLIKO).



KATERA HIŠA LEVO OD CERKVE JE NAJVIŠJA?



5. VEVERICA SE BO SPREHODILA PO PARKU IN SPLEZALA NA DREVO. V KRIŽIŠČIH JE OZNAČENO, KAKO LAHKO NADALJUJE POT (GLEJ SLIKO).



NAJVEČ KOLIKO ŽELODOV BO LAHKO VEVERICA POBRALA NA POTI DO DREVESA?

