

2. RAZRED OŠ

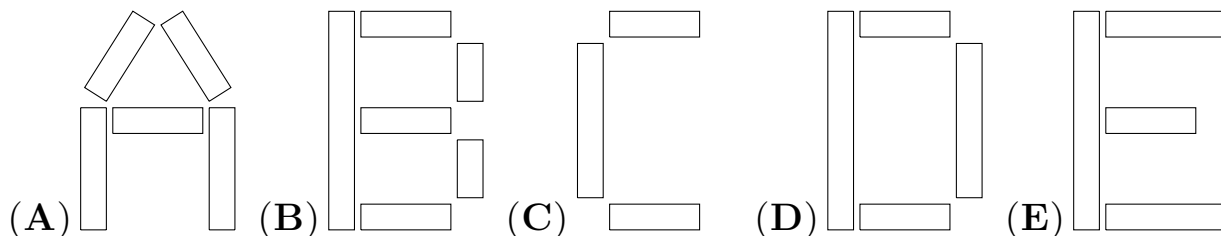
IME IN PRIIMEK _____

RAZRED _____ MENTOR _____

1	2	3	4	5	6	7	8	9	10

ZA REŠEVANJE IMAŠ NA VOLJO 45 MINUT. ODGOVORE ZAPIŠI V GORNJO PREGLEDNICO. ZA VSAK PRAVILEN ODGOVOR DOBIŠ 4 TOČKE. ZA VSAK NEPRAVILEN ODGOVOR TI ODŠTEJEMO 1 TOČKO. ČE PA PUSTIŠ POLJE V PREGLEDNICI PRAZNO, DOBIŠ 0 TOČK.

1. URŠKA JE IZ PLOŠČIC SESTAVILA ČRKE ABECEDA. ZA KATERO ČRKO JE PORABILA NAJVEČ PLOŠČIC?



2. NIK JE PRAVILNO IZRAČUNAL RAČUN, KRIS PA JE ENICE V ZMANJŠEVANCU PREKRIL Z NALEPKO.

$$1\boxed{} - 8 = 7$$

KAJ JE POD NALEPKO?

- (A) 1 (B) 3 (C) 5 (D) 7 (E) 8

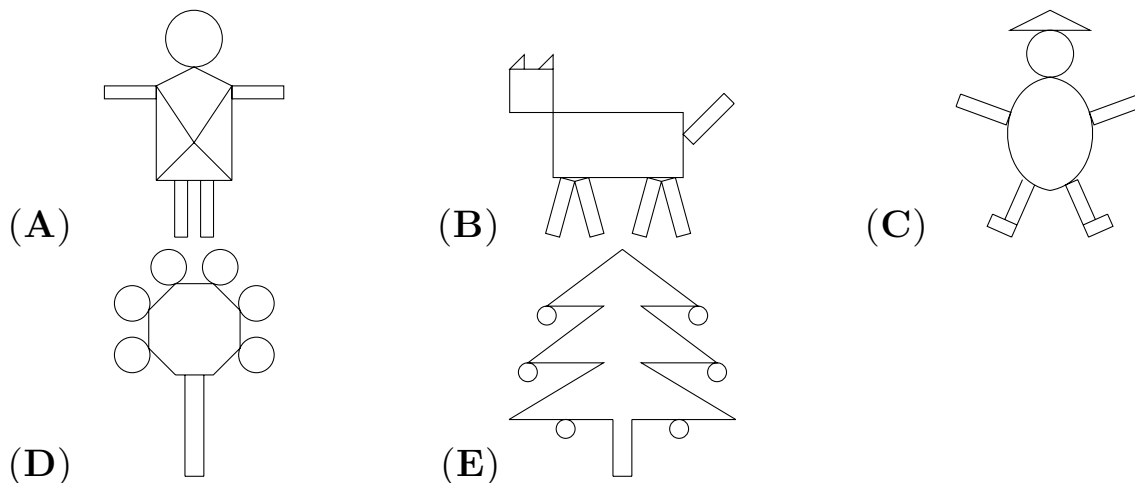
3. KO JE JANA ODŠLA NA IZLET, JE V NAHRBTNIK DALA 2 JABOLKI, 2 SENDVIČA, 3 BANANE, SADNI SOK IN PLASTENKO VODE. KOLIKO SADEŽEV JE DALA JANA V NAHRBTNIK?

- (A) 2 (B) 3 (C) 5 (D) 7 (E) 8

4. BLAŽ JE PRAZNOVAL ROJSTNI DAN. MAMA MU JE DALA 2 EVRA, OČE 3 EVRE, BABICA 4 EVRE, DED PA 1 EVRO. KOLIKO EVROV JE ZA ROJSTNI DAN DOBIL BLAŽ?

- (A) 6 (B) 7 (C) 8 (D) 9 (E) 10

5. NA KATERI SLIKI NI KROGA?



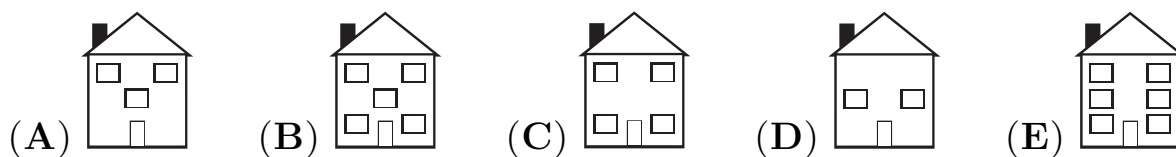
6. KATERI RAČUN IMA DRUGAČEN REZULTAT KOT DRUGI ŠTIRJE?

- (A) $16 + 1 - 9 =$ (B) $15 - 9 + 2 =$ (C) $7 + 6 - 5 =$
 (D) $14 - 6 + 1 =$ (E) $17 - 9 + 0 =$

7. MAJA JE NARISALA NEKAJ HIŠ IN CERKEV (GLEJ SLIKO).



KATERA HIŠA LEVO OD CERKVE IMA NAJVEČ OKEN?



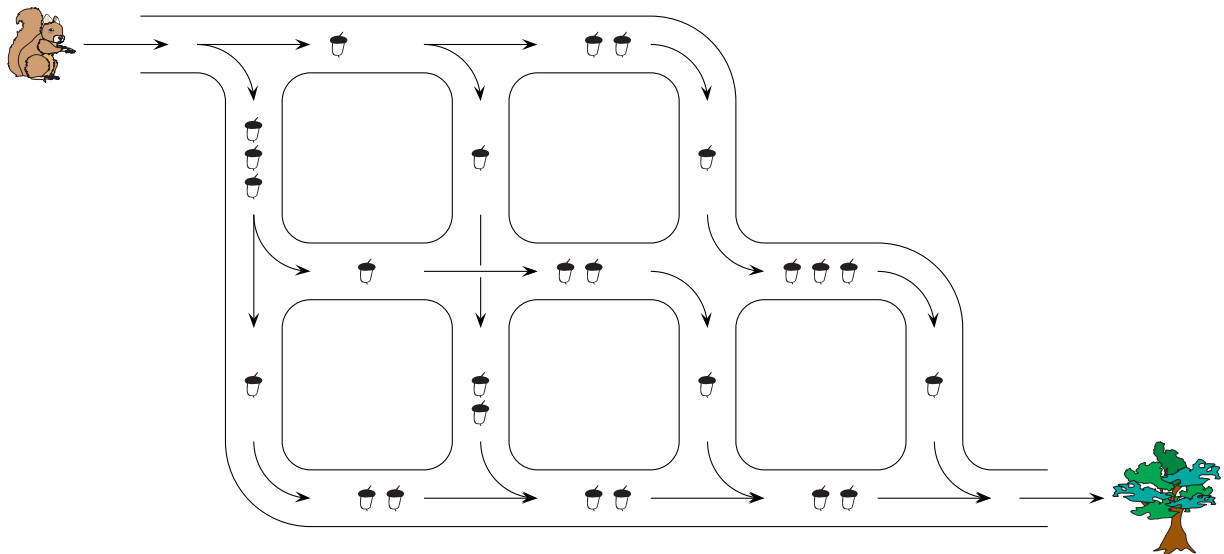
8. ANA, BORIS, VIKA IN ŽAN SO PO KONČANI IGRI KART UGOTOVILI, DA IMA BORIS VEČ KART KOT VIKA, ŽAN PA IMA MANJ KART KOT ANA. ŽAN NI IMEL NAJMANJ KART. KDO JE IMEL NAJMANJ KART?

- (A) ANA (B) BORIS (C) VIKA (D) ŽAN
(E) NEMOGOČE JE DOLOČITI.

9. NA MIZI JE BILO 5 IGRAČ. MAJA JE NATO NA MIZO DALA 3 IGRAČE, UROŠ PA ŠE 4. KO JE GORAZD Z MIZE VZEL NEKAJ IGRAČ, JIH JE NA MIZI OSTALO ŠE 8. KOLIKO IGRAČ JE GORAZD VZEL Z MIZE?

- (A) 2 (B) 4 (C) 8 (D) 12 (E) 20

10. VEVERICA SE BO SPREHODILA PO PARKU IN SPLEZALA NA DREVO. V KRIŽIŠČIH JE OZNAČENO, KAKO LAHKO NADALJUJE POT (GLEJ SLIKO).



NAJVEČ KOLIKO ŽELODOV BO LAHKO VEVERICA POBRALA NA POTI DO DREVESA?

- (A) 9 (B) 10 (C) 11 (D) 12 (E) 13