

1. RAZRED OŠ

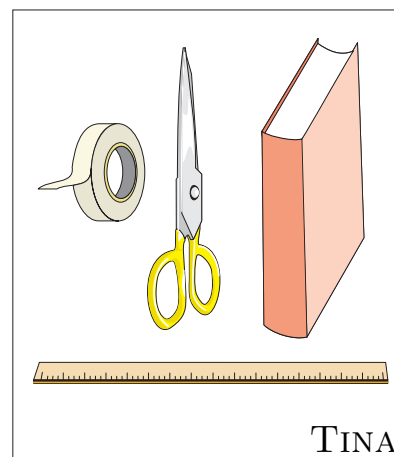
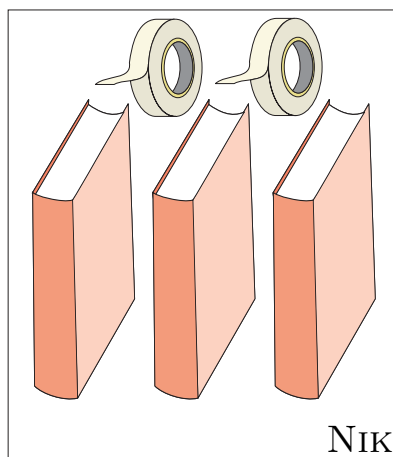
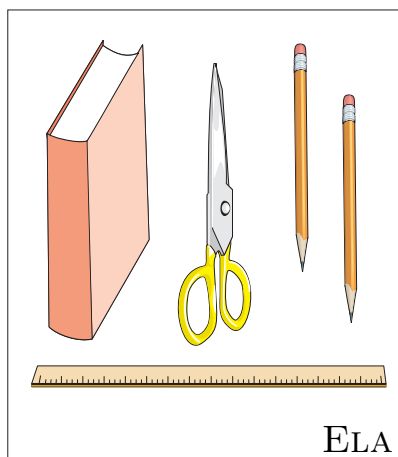
IME IN PRIIMEK _____

RAZRED _____ MENTOR _____

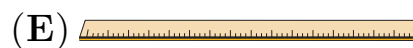
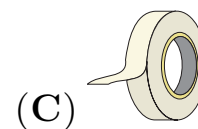

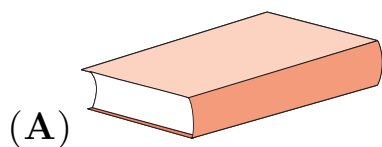
1	2	3	4	5

ZA REŠEVANJE IMAŠ NA VOLJO 45 MINUT. ODGOVORE ZAPIŠI V GORNJO PREGLEDNICO. ZA VSAK PRAVILEN ODGOVOR DOBIŠ 4 TOČKE. ZA VSAK NEPRAVILEN ODGOVOR TI ODŠTEJEMO 1 TOČKO. ČE PA PUSTIŠ POLJE V PREGLEDNICI PRAZNO, DOBIŠ 0 TOČK.

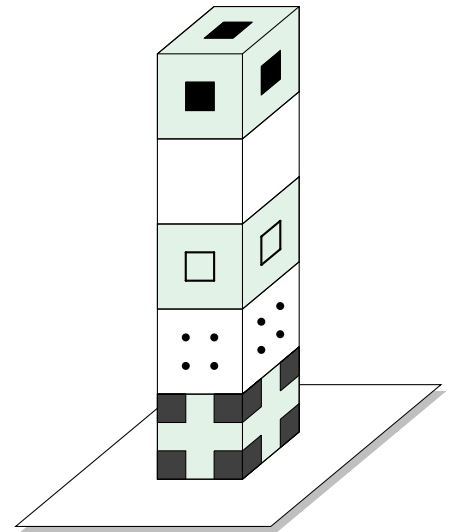
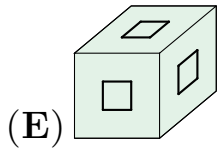
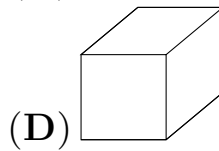
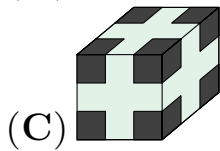
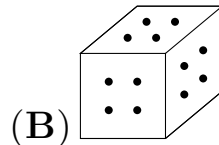
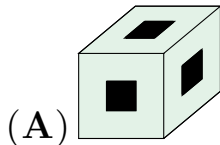
1. ELA, NIK IN TINA SO NARISALI VSAK ENO RISBO.



KATEREGA PREDMETA NI NA TININI RISBI?



2. NA MIZI JE STOLPEC, SESTAVLJEN IZ 5 KOCK (GLEJ SLIKO). ANA BO S STOLPCA JEMALA PO ENO KOCKO. KATERA BO 4. KOCKA, KI JO BO VZELA S STOLPCA?



3. META JE 3 MARJETICAM ODRGALA NEKAJ CVETNIH LISTOV (GLEJ SLIKO).



NAJMANJ KOLIKO CVETNIH LISTOV MORA ŠE ODRGATI, DA BODO IMELE VSE 3 MARJETICE ENAKO ŠTEVILO CVETNIH LISTOV?

(A) 1

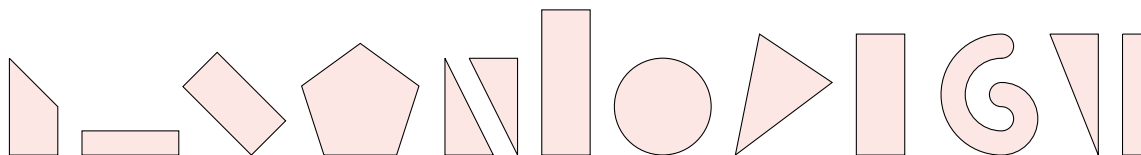
(B) 3

(C) 4

(D) 5

(E) 7

4. JURE JE IZREZAL NEKAJ LIKOV IZ PAPIRJA IN JIH POSTAVIL V VRSTO.



KOLIKO PRAVOKOTNIKOV JE POSTAVIL LEVO OD KROGA?

- (A) 2 (B) 3 (C) 4 (D) 5 (E) 6

5. MATEJA JE IZ SNEGA OBLIKOVALA SNEŽAKA. V KATEREM ODGOVORU JE NARISAN PRAVILNI VRSTNI RED NASTAJANJA?

