

2. RAZRED OŠ

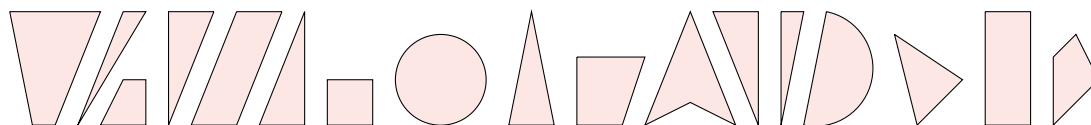
IME IN PRIIMEK _____

RAZRED _____ MENTOR _____

1	2	3	4	5	6	7	8	9	10

ZA REŠEVANJE IMAŠ NA VOLJO 45 MINUT. ODGOVORE ZAPIŠI V GORNJO PREGLEDNICO. ZA VSAK PRAVILEN ODGOVOR DOBIŠ 4 TOČKE. ZA VSAK NEPRAVILEN ODGOVOR TI ODŠTEJEMO 1 TOČKO. ČE PA PUSTIŠ POLJE V PREGLEDNICI PRAZNO, DOBIŠ 0 TOČK.

1. JURE JE IZREZAL NEKAJ LIKOV IZ PAPIRJA IN JIH POSTAVIL V VRSTO.



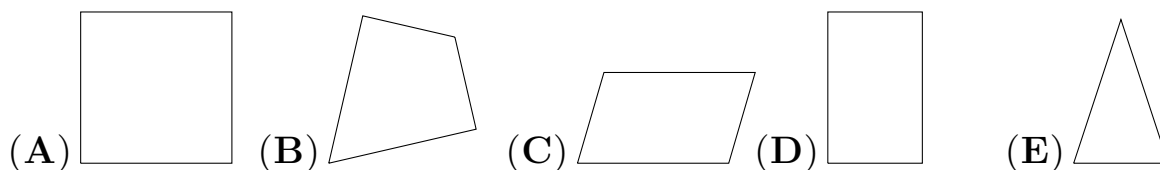
KOLIKO TRIKOTNIKOV JE POSTAVIL DESNO OD KROGA?

- (A) 2 (B) 3 (C) 4 (D) 5 (E) 6

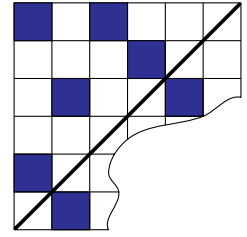
2. TANJA JE IMELA 6 EVROV. BLAŽ JE IMEL POL TOLIKO EVROV KOT TANJA. URŠKA JE IMELA DVAKRAT TOLIKO EVROV KOT BLAŽ. KOLIKO EVROV JE IMELA URŠKA?

- (A) 2 (B) 3 (C) 4 (D) 6 (E) 12

3. MARKO IMA 4 PALICE, 2 STA ENAKO DOLGI, 2 PA POL KRAJŠI. KATEREGA LIKA IZ TEH PALIC NE MORE OBLIKOVATI?



4. ŽAN JE NA KARIRAST PAPIR NARISAL ODEBELJENO ČRTO, KI JE PREDSTAVLJALA SIMETRALO (GLEJ SLIKO). NATO JE POBARVAL NEKAJ KVADRATKOV, DA JE NASTALA SIMETRIČNA FIGURA. ANDREJ JE DEL PAPIRJA ODTRGAL. KOLIKO KVADRATKOV JE BILO POBARVANIH NA ODTRGANEM DELU PAPIRJA?



- (A) 1 (B) 2 (C) 3 (D) 4 (E) 5

5. NEJA JE ZA ROJSTNI DAN DOBILA 8 SLIKANIC, SAMO PA 4 SLIKANICE. KOLIKO SLIKANIC MORA DATI NEJA SAMU, DA BOSTA OBA IMELA ENAKO ŠTEVILO SLIKANIC?

- (A) 1 (B) 2 (C) 4 (D) 6 (E) 8

6. NA KATERI POSODI NI PRAVILNO ZAPISANO, KOLIKO BOMBONOV JE V NJEJ?

(A) (B) (C)

(D) (E)

7. UČITELJICA JE NAROČILA UČENCEM, NAJ NARIŠEJO 3 RAZLIČNO VELIKE KROGE IN NA NAJVEČJI KROG NARIŠEJO NAJMANJ PIK. KDO SE NI DRŽAL NJENIH NAVODIL?

(A) (B) (C) (D) (E)

(A) KARMEN (B) KEJA (C) KLARA (D) KATJA (E) KRISTINA


8. BABICA JE 6 PIŠKOTOV IN 9 MARELIC RAZDELILA SVOJIM 3 VNUKINJAM ZA MALICO. VSE VNUKINJE SO DOBILE ENAKE MALICE. KOLIKO MARELIC JE DOBILA VSAKA VNUKINJA?

- (A) 2 (B) 3 (C) 4 (D) 6 (E) 12





9. ŽIGA, JURE, ALJA, PETER IN ZALA SO MERILI DOLŽINO DVORIŠČA. ŽIGA JE NAŠTEL 29 KORAKOV, JURE 33 KORAKOV, ALJA 32 KORAKOV, PETER 37 KORAKOV IN ZALA 34 KORAKOV. KDO JE DELAL NAJDALJŠE KORAKE?

- (A) ALJA (B) JURE (C) PETER
(D) ZALA (E) ŽIGA

10. VEVERICA JE STALA OB NAJBOLJ DESNEM DREVESU V PARKU. PO POTKI JE STEKLA NARAVNOST PROTI NAJBOLJ LEVEMU DREVESU V PARKU. NA POL POTI SE JE OBRNILA V LEVO IN STEKLA PO POTKI NARAVNOST DO DREVESA TER SPLEZALA NANJ.



NA KATERO DREVO JE SPLEZALA VEVERICA?

- (A)  (B)  (C)  (D)  (E) 