

### 3. RAZRED OŠ

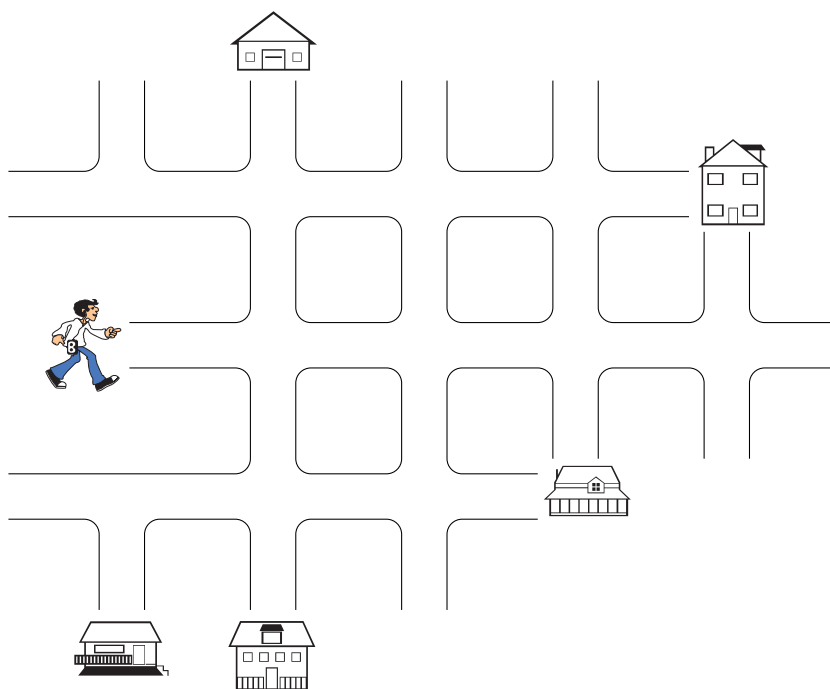
IME IN PRIIMEK \_\_\_\_\_

RAZRED \_\_\_\_\_ MENTOR \_\_\_\_\_

1	2	3	4	5	6	7	8	9	10

ZA REŠEVANJE IMAŠ NA VOLJO 45 MINUT. ODGOVORE ZAPIŠI V GORNJO PREGLEDNICO. ZA VSAK PRAVILEN ODGOVOR DOBIŠ 4 TOČKE. ZA VSAK NEPRAVILEN ODGOVOR TI ODŠTEJEMO 1 TOČKO. ČE PA PUSTIŠ POLJE V PREGLEDNICI PRAZNO, DOBIŠ 0 TOČK.

1. BORUT SE JE NAPOTIL NA OBISK K MIHU (GLEJ SLIKO). SKOZI 1. KRIŽIŠČE JE ŠEL NARAVNOST, NA 2. IN 3. KRIŽIŠČU JE ZAVIL DESNO, NA NASLEDNJEM PA LEVO. POT GA JE NATO VODILA NARAVNOST DO MIHOVE HIŠE.



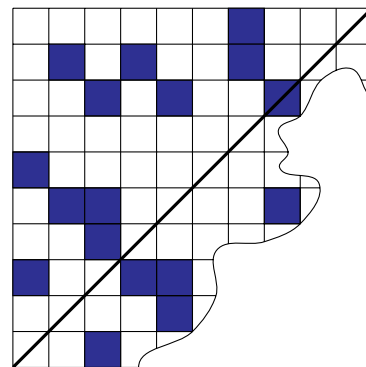
V KATERI HIŠI STANUJE MIHA?

- (A)  (B)  (C)  (D)  (E) 

2. ČE BI SE UČENCEM 3. A RAZREDA PRIDRUŽILO 19 UČENCEV 3. B RAZREDA, BI BILO SKUPAJ 37 UČENCEV. KOLIKO UČENCEV JE V 3. A RAZREDU?

- (A) 17      (B) 18      (C) 19      (D) 27      (E) 56

3. ŽAN JE NA KARIRAST PAPIR NARISAL ODEBELJENO ČRTO, KI JE PREDSTAVLJALA SIMETRALO (GLEJ SLIKO). NATO JE POBARVAL NEKAJ KVADRATKOV, DA JE NASTALA SIMETRIČNA FIGURA. ANDREJ JE DEL PAPIRJA ODTRGAL. KOLIKO KVADRATKOV JE BILO POBARVANIH NA ODTRGANEM DELU PAPIRJA?



- (A) 3      (B) 4      (C) 6      (D) 7      (E) 11

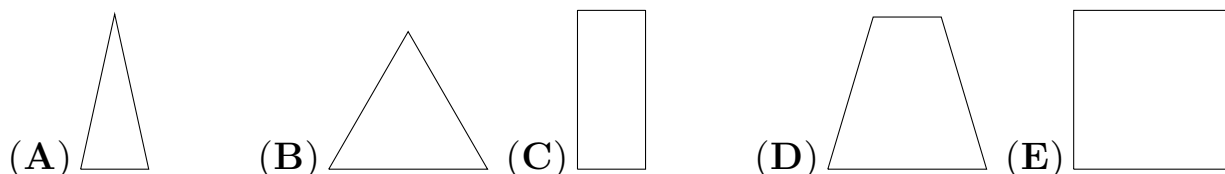
4. ANA JE POSTAVILA KOCKE V RAVNO VRSTO. NAJPREJ JE POSTAVILA 3 BELE, NATO 2 RDEČI, PA 3 MODRE, 4 ZELENE IN NA KONCU ŠE 2 RUMENI KOCKI. KAKŠNE BARVE JE BILA KOCKA NA 10. MESTU?

- (A) BELE      (B) RDEČE      (C) MODRE      (D) ZELENE      (E) RUMENE

5. NEJC, TIM IN ROK SO SKUPAJ PRINESLI 12 ZGOŠČENK. NEJC JE PRINESEL 1 ZGOŠČENKO MANJ KOT TIM, ROK PA 1 VEČ KOT TIM. KOLIKO ZGOŠČENK JE PRINESEL TIM?

- (A) 2      (B) 3      (C) 4      (D) 5      (E) 6

6. JUŠ IMA 6 PALIC, 3 SO DOLGE PO 7 dm, 3 PA PO 3 dm. KATEREGA LIKA IZ TEH PALIC NE MORE OBLIKOVATI?



7. V TRGOVINI SO PRODAJALI VELIKE IN MALE ČOKOLADE. MAJA JE ZA 2 VELIKI IN 2 MALI ČOKOLADI PLAČALA 6 EVROV. AJDA JE ZA 2 VELIKI ČOKOLADI PLAČALA 4 EVRE. KOLIKO EVROV JE STALA MALA ČOKOLADA?

- (A) 1            (B) 2            (C) 3            (D) 4            (E) 6

8. HANA JE IMELA PLOŠČICE, S KATERIMI JE LAHKO OBLIKOVALA RAZLIČNE RAČUNE. POTEM KO JE OBLIKOVALA PRAVILEN RAČUN, JE BLAŽ ENO PLOŠČICO OBRNIL.

$$\boxed{5} \boxed{\phantom{0}} - \boxed{1} \boxed{7} = \boxed{3} \boxed{7}$$


KAJ JE ZAPISANO NA OBRNJENI PLOŠČICI?

- (A) 0            (B) 2            (C) 4            (D) 7            (E) 9

9. TETA FANI JE IMELA V DENARNICI NEKAJ DENARJA. VES DENAR BI PORABILA, ČE BI KUPILA 6 KG POMARANČ ALI 7 KG LIMON ALI 8 KG BANAN ALI 5 KG KIVIJA ALI 9 KG MANDARIN. KATERO SADJE JE BILO NAJCENEJŠE?

- (A) POMARANČE            (B) LIMONE            (C) BANANE  
(D) KIVI            (E) MANDARINE

10. KUHARICA JE NA MIZO POSTAVILA 4 PLADNJE Z JABOLKI.



NAJMANJ KOLIKO JABOLK JE TREBA PRESTAVITI, DA BO NA VSEH 4 PLADNJIH ENAKO ŠTEVILO JABOLK?

- (A) 3            (B) 4            (C) 5            (D) 6            (E) 7