

1. razred OŠ






IME IN PRIIMEK _____ RAZRED _____

1	2	3	4	5	6	7

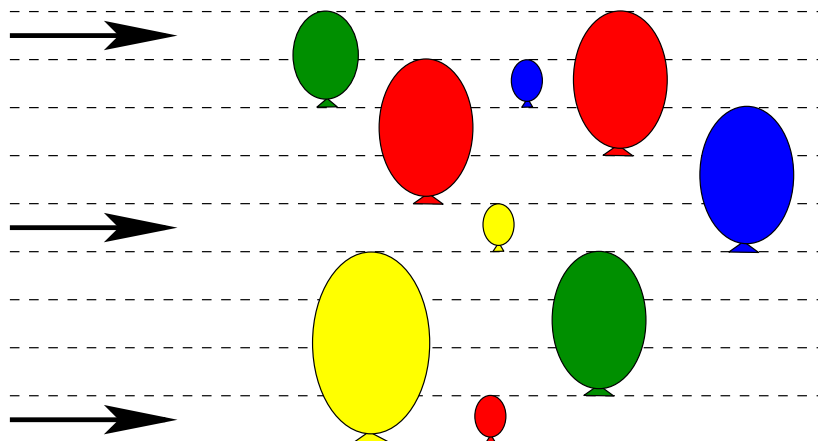
ZA REŠEVANJE IMAŠ NA VOLJO 45 MINUT. ODGOVORE ZAPIŠI V GORNJO PREGLEDNICO. ZA VSAK PRAVILEN ODGOVOR DOBIŠ 4 TOČKE. ZA VSAK NEPRAVILEN ODGOVOR TI ODŠTEJEMO 1 TOČKO. ČE PA PUSTIŠ POLJE V PREGLEDNICI PRAZNO, DOBIŠ 0 TOČK. DA BI SE IZOGNILI NEGATIVNEMU KONČNEMU DOSEŽKU, TI PRIZNAMO ZAČETNIH 7 TOČK.

1. VID BI RAD ZAPOLNIL LUKNJO V SESTAVLJANKI (GLEJ SLIKO). KATERI KOS MORA VID VSTAVITI V LUKNJO?



- (A)  (B)  (C)  (D)  (E) 


2. V RAČUNALNIŠKI IGRICI SO 3 LETEČE PUŠČICE IN 9 PRITRJENIH BALONOV (GLEJ SLIKO).



KO PUŠČICA ZADENE BALON, BALON POČI IN PUŠČICA LETI DALJE V ISTI SMERI. KOLIKO BALONOV BODO ZADELE VSE 3 LETEČE PUŠČICE SKUPAJ?


- (A) 2 (B) 3 (C) 4 (D) 5 (E) 6

3. V MESTU GURU STA 2 PARKA. V VEČJEM PARKU PREBIVA VEČ KENGURUJEV KOT V MANJŠEM (GLEJ SLIKO). KOLIKO VEČ KENGURUJEV JE V VEČJEM PARKU KOT V MANJŠEM?

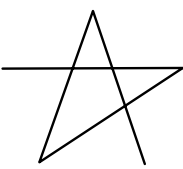
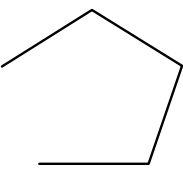
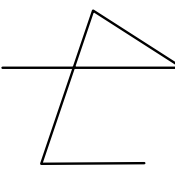
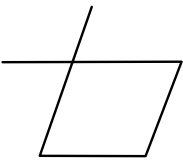



- (A) 2 (B) 3 (C) 4 (D) 5 (E) 6


4. ANA JE NARISALA 5 PIKAPOLONIC (GLEJ SLIKO). NATO JE S ČRTO POVEZALA VSE NARISANE PIKAPOLONICE. NAJPREJ JE NARISALA ČRTO OD PIKAPOLONICE Z 1 PIKO DO PIKAPOLONICE Z 2 PIKAMA, NATO JE ČRTO NADALJEVALA DO PIKAPOLONICE S 3 PIKAMI, PA DO PIKAPOLONICE S 4 PIKAMI IN ŠE DO PIKAPOLONICE S 5 PIKAMI.



KATERO ČRTO JE LAHKO NARISALA ANA?

- (A)  (B)  (C) 
- (D)  (E) 

5. PETRA JE KROGE NA LISTU PAPIRJA POBARVALA S TEMNO BARVO (GLEJ SLIKO). NATO JE PETER KROGE PREBARVAL S SVETLO BARVO, PREOSTANEK LISTA PA S TEMNO BARVO. KATERA SLIKA JE PETROVA?



- (A) (B) (C) (D) (E)

6. V IZLOŽBI TRGOVINE ČIRAČARA SO 4 IGRAČE S CENAMI (GLEJ SLIKO). HANA BO KUPILA 2 RAZLIČNI IGRAČI IZ IZLOŽBE.



5 EUR



2 EUR



7 EUR





1 EUR

NAJVEČ KOLIKO EVROV BO PORABILA?

- (A) 3 (B) 7 (C) 10 (D) 12 (E) 14

7. META JE IZ PAPIRJA IZREZALA NEKAJ ENAKIH ZVEZD S 4 KRAKI (GLEJ LEVO SLIKO) IN JIH NATO VSE ZLEPILA SKUPAJ (GLEJ DESNO SLIKO).



NAJMANJ KOLIKO ZVEZD JE META IZREZALA IN ZLEPILA SKUPAJ?

- (A) 5 (B) 6 (C) 7 (D) 8 (E) 9