

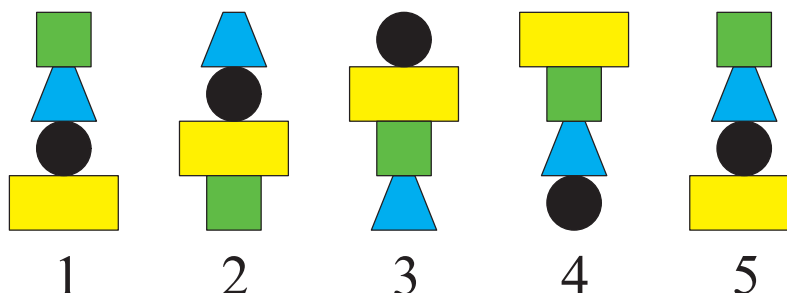
2. razred OŠ

IME IN PRIIMEK _____ RAZRED _____

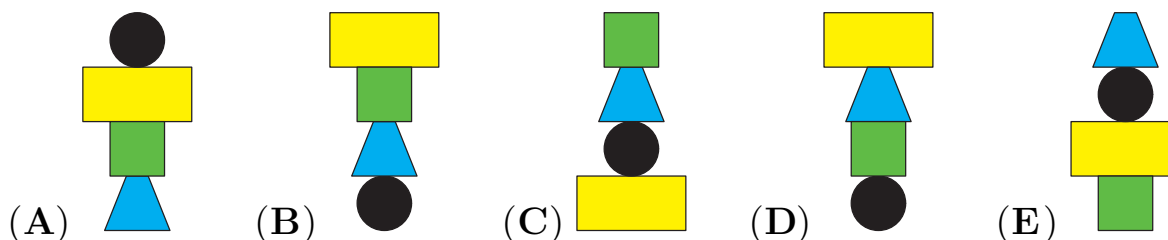
1	2	3	4	5	6	7	8	9	10

ZA REŠEVANJE IMAŠ NA VOLJO 45 MINUT. ODGOVORE ZAPIŠI V GORNJO PREGLEDNICO. ZA VSAK PRAVILEN ODGOVOR DOBIŠ 4 TOČKE. ZA VSAK NEPRAVILEN ODGOVOR TI ODŠTEJEMO 1 TOČKO. ČE PA PUSTIŠ POLJE V PREGLEDNICI PRAZNO, DOBIŠ 0 TOČK. DA BI SE IZOGNILI NEGATIVNEMU KONČNEMU DOSEŽKU, TI PRIZNAMO ZAČETNIH 10 TOČK.


1. EMA JE SESTAVLJALA STOLPE IZ 4 LIKOV PO DOLOČENEM VZORCU (GLEJ SLIKO).



KAKO JE IZGLEDAL NJEN 6. STOLP?

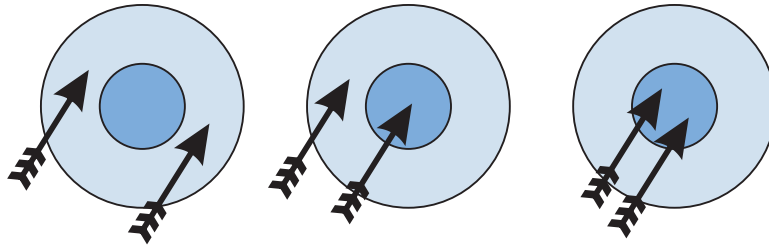


2. V MESTU GURU STA 2 PARKA, V KATERIH PREBIVAJO KENGURUJI (GLEJ SLIKO). NAJMANJ KOLIKO KENGURUJEV MORAMO PREMAKNITI IZ ENEGA PARKA V DRUGEGA, DA BO V OBEH PARKIH ENAKO ŠTEVILO KENGURUJEV?



- (A) 4 (B) 5 (C) 6 (D) 8 (E) 9

3. DIANA JE STRELJALA PO 2 PUŠČICI V TARČO. KO JE STRELJALA PRVIČ, JE DOSEGLA 4 TOČKE (GLEJ LEVO SLIKO). DRUGIČ JE DOSEGLA 6 TOČK (GLEJ SREDNJO SLIKO).



KOLIKO TOČK JE DIANA DOSEGLA, KO JE STRELJALA TRETJIČ (GLEJ DESNO SLIKO)?

- (A) 4 (B) 6 (C) 8 (D) 10 (E) 12

4. LENA IMA 10 ŠTAMPILJK. NA VSAKI ŠTAMPILJKI JE ENA OD ŠTEVK 0, 1, 2, 3, 4, 5, 6, 7, 8 IN 9. VSAKA IZMED ŠTEVK JE NA ENI ŠTAMPILJKI. S ŠTAMPILJKAMI JE NATISNILA DATUM TEKMOVANJA KENGURU:

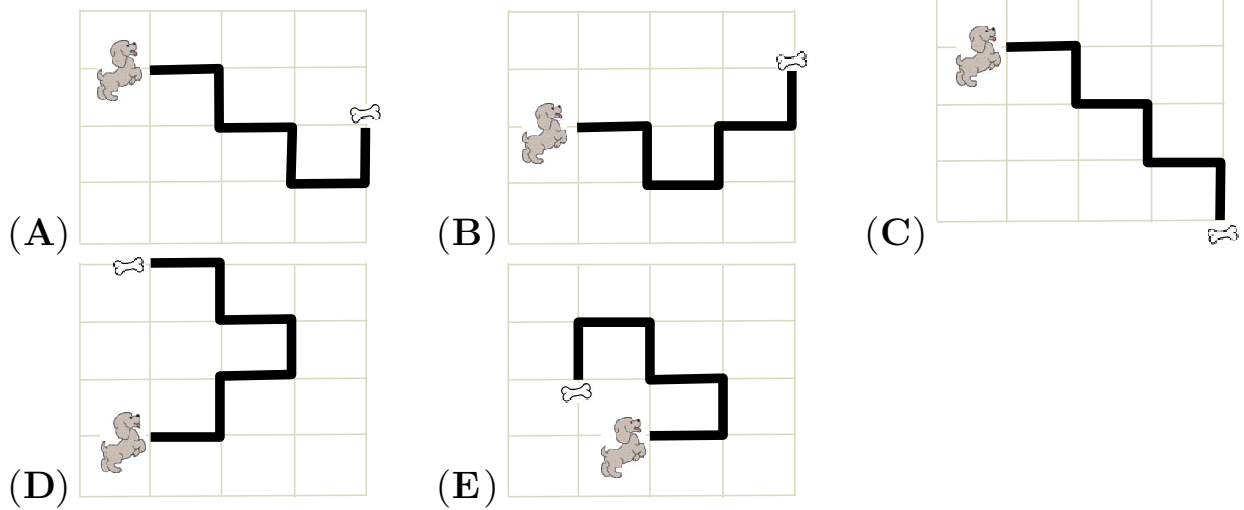
1	5	0	3	2	0	1	8
---	---	---	---	---	---	---	---

.

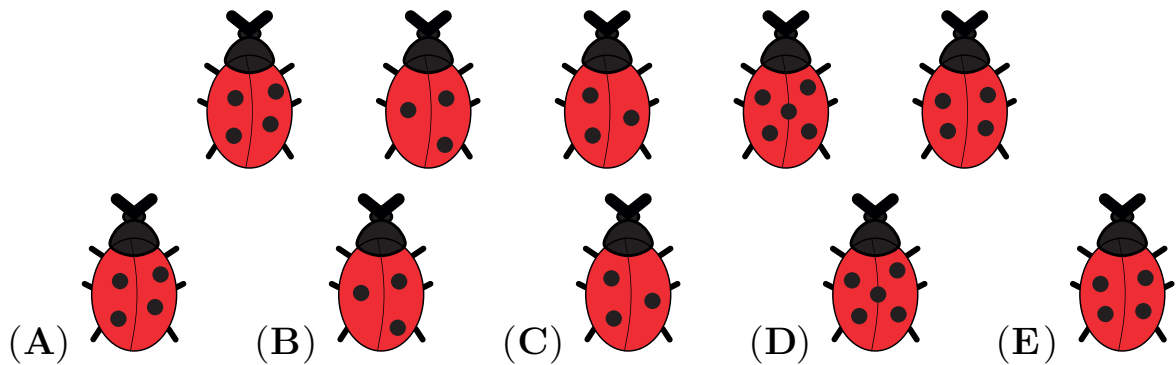
KOLIKO RAZLIČNIH ŠTAMPILJK JE LENA UPORABILA V ZAPISU DATUMA TEKMOVANJA?

- (A) 5 (B) 6 (C) 7 (D) 8 (E) 10

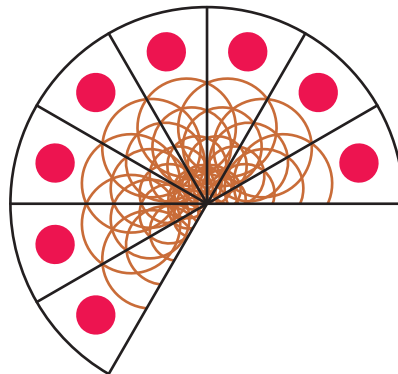
5. KUŽA FELIKS SE JE NA POTI DO KOSTI 3-KRAT OBRNIL DESNO IN 2-KRAT LEVO. PO KATERI POTI JE ŠEL?



6. NA TRAVNIKU JE BIL NEKAJ PIKAPOLONIC (GLEJ SLIKO). KATERA PIKAPOLONICA MORA ODLETETI, DA BODO IMELE PREOSTALE PIKAPOLONICE SKUPAJ 14 PIK?



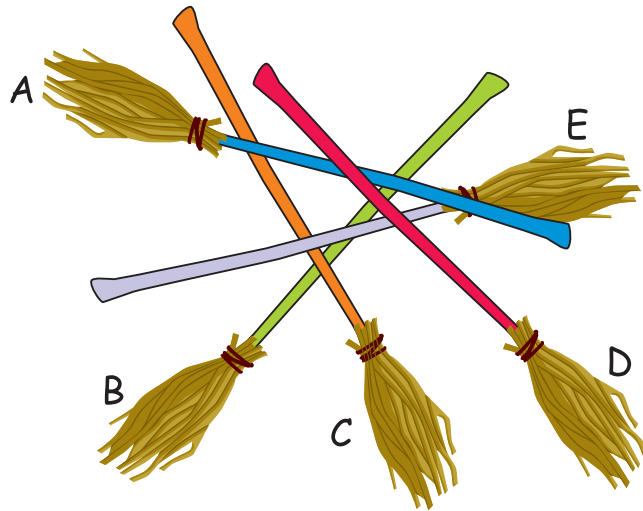
7. JURE JE RAZREZAL OKROGLO PICO NA ENAKO VELIKE KOSE. EVA JE NEKAJ KOSOV VZELA, OSTALE PA PUSTILA JURETU (GLEJ SLIKO).



KOLIKO KOSOV JE VZELA EVA?

- (A) 1 (B) 2 (C) 3 (D) 4 (E) 5

8. PRIJAZNA ČAROVNICA JANA IMA NA KUPU 5 METEL (GLEJ SLIKO). Z VRHA KUPA JIH JEMLJE PO VRSTI. KO VZAME METLO S KUPA, NE PREMAKNE NOBENE DRUGE.



KATERO METLO BO ČAROVNICA JANA ZADNJO VZELA S KUPA?

- (A) A (B) B (C) C (D) D (E) E

9. ALJA, BLAŽ, ZALA IN ŽAN SO TRLI OREHE. ALJA JE STRLA VEČ OREHOV KOT BLAŽ, A MANJ KOT ŽAN. ZALA JE STRLA MANJ OREHOV KOT BLAŽ. KDO JE STRL NAJVEČ OREHOV?

- (A) ALJA (B) BLAŽ (C) ZALA (D) ŽAN
 (E) ŽAN IN ZALA STA STRLA ENAKO ŠTEVILO OREHOV.

10. V GOZDU RASTEJO MUŠNICE, KI IMAJO NA SPREDNJI STRANI KLOBUKA (GLEJ SLIKO) ENAKO ŠTEVILO PIK KOT NA ZADNJI STRANI KLOBUKA. V DEŽJU SE POD KLOBUKE MUŠNIC ZATEČEJO PALČKI, IN SICER POD VSAKO MUŠNICO TOLIKO PALČKOV, KOT JE PIK NA SPREDNJI IN ZADNJI STRANI NJENEGA KLOBUKA SKUPAJ. V GOZDU PREBIVA 14 PALČKOV.



KOLIKO SE JIH NE MORE SKRITI POD MUŠNICE?

- (A) 2 (B) 3 (C) 4 (D) 5 (E) 6