

3. razred OŠ

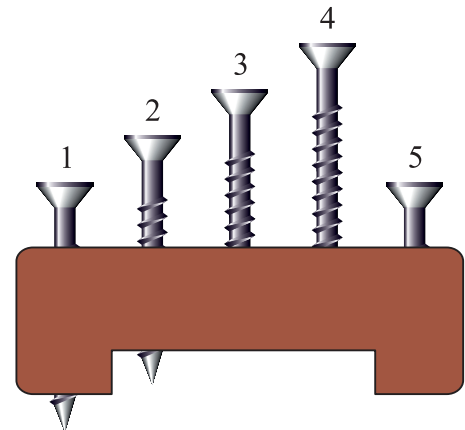
IME IN PRIIMEK _____ RAZRED _____


1	2	3	4	5	6	7	8	9	10






ZA REŠEVANJE IMAŠ NA VOLJO 45 MINUT. ODGOVORE ZAPIŠI V GORNJO PREGLEDNICO. ZA VSAK PRAVILEN ODGOVOR DOBIŠ 4 TOČKE. ZA VSAK NEPRAVILEN ODGOVOR TI ODŠTEJEMO 1 TOČKO. ČE PA PUSTIŠ POLJE V PREGLEDNICI PRAZNO, DOBIŠ 0 TOČK. DA BI SE IZOGNILI NEGATIVNEMU KONČNEMU DOSEŽKU, TI PRIZNAMO ZAČETNIH 10 TOČK.

1. JAKA JE V LESENO DEŠČICO PRIVIL 5 VIJAKOV (GLEJ SLIKO). 4 VIJAKI SO ISTE DOLŽINE, 1 VIJAK JE KRAJŠI. KATERI VIJAK JE KRAJŠI OD OSTALIH?

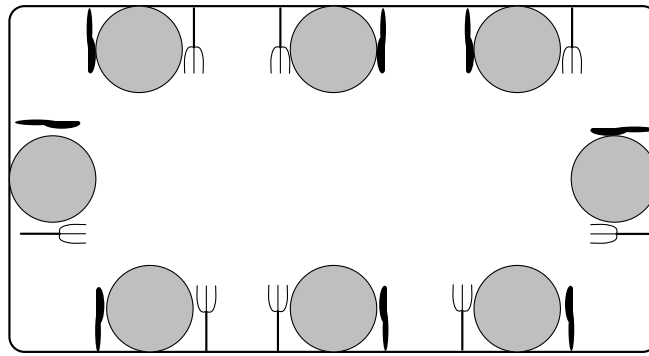
- (A) 1 (B) 2 (C) 3 (D) 4 (E) 5



2. PIKAPOLONICA JASNA  JE HODILA PO LISTU PAPIRJA IN SE NEKAJKRAT USTAVILA. NA KATERI SLIKI ZAGOTOVO NI PIKAPOLONICE JASNE?

- (A)  (B)  (C)  (D)  (E) 

7. MIHA JE PRIPRAVIL POGRINJKE ZA 8 LJUDI (GLEJ SLIKO).



POGRINJEK JE PRIPRAVLJEN PRAVILNO, ČE IMA VSAK, KO SEDI ZA MIZO, VILICE NA LEVI IN NOŽ NA DESNI STRANI KROŽNIKA. KOLIKO POGRINJKOV JE MIHA PRIPRAVIL PRAVILNO?

- (A) 2 (B) 3 (C) 4 (D) 5 (E) 6

8. GUSAR KARLO IMA 2 SKRINJI. V LEVI SKRINJI JE 10 ZLATNIKOV, DESNA SKRINJA JE PRAZNA. OD JUTRI DALJE BO GUSAR KARLO VSAK DAN DAL 1 ZLATNIK V LEVO SKRINJO IN 2 ZLATNIKA V DESNO SKRINJO. V KOLIKO DNEH BO V OBEH SKRINJAH ENAKO ŠTEVILO ZLATNIKOV?

- (A) 5 (B) 8 (C) 10 (D) 12 (E) NIKOLI.

9. FRANCKA PLAČA ZA 1 KORNET 1 EVRO. ČE KUPI 6 KORNETOV HKRATI, PLAČA ZANJE 5 EVROV (GLEJ SLIKO).



NAJVEČ KOLIKO KORNETOV LAHKO KUPI FRANCKA S 36 EVRI?

- (A) 30 (B) 36 (C) 42 (D) 43 (E) 45

10. TEO JE NA PALICO NANIZAL NEKAJ DISKOV (GLEJ SLIKO). KOLIKO DISKOV LAHKO TEO VIDI, ČE OD ZGORAJ POGLEDA NA PALICO Z DISKI?

- (A) 1 (B) 2 (C) 3 (D) 4 (E) 5

