

**1. razred OŠ**

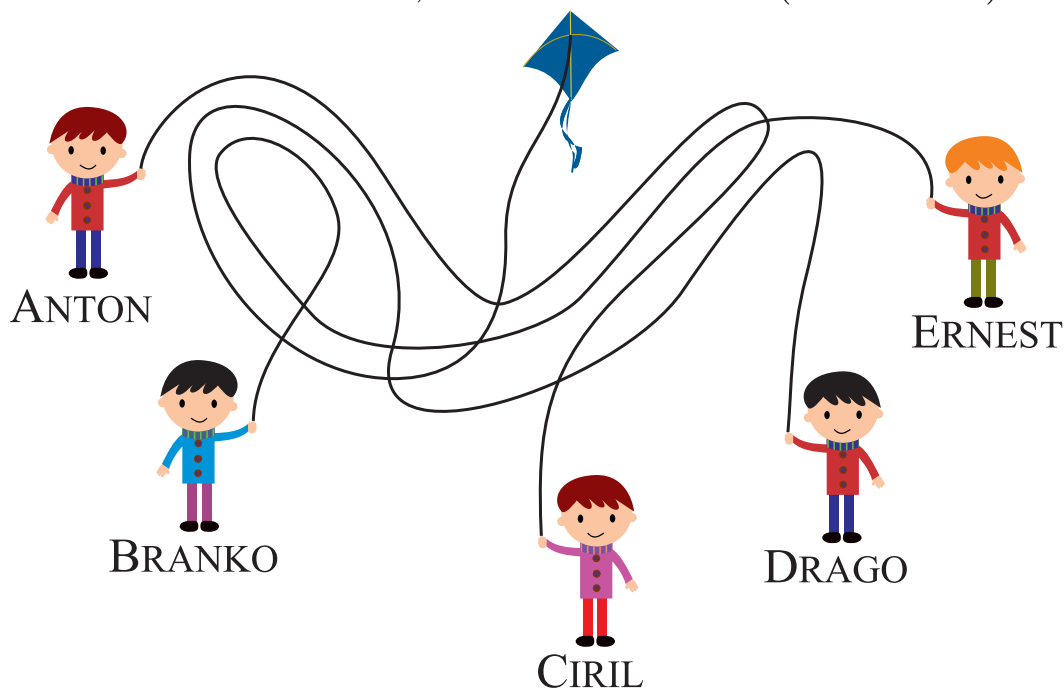
IME IN PRIIMEK \_\_\_\_\_

RAZRED \_\_\_\_\_ MENTOR \_\_\_\_\_

1	2	3	4	5	6	7


ZA REŠEVANJE IMAŠ NA VOLJO 45 MINUT. ODGOVORE ZAPIŠI V GORNJO PREGLEDNICO. ZA VSAK PRAVILEN ODGOVOR DOBIŠ 4 TOČKE. ZA VSAK NEPRAVILEN ODGOVOR TI ODŠTEJEMO 1 TOČKO. ČE PA PUSTIŠ POLJE V PREGLEDNICI PRAZNO, DOBIŠ 0 TOČK. DA BI SE IZOGNILI NEGATIVNEMU KONČNEMU DOSEŽKU, TI PRIZNAMO ZAČETNIH 7 TOČK.

1. KATERI FANT DRŽI VRVICO, KI VODI DO ZMAJA (GLEJ SLIKO)?



- (A) ANTON    (B) BRANKO    (C) CIRIL    (D) DRAGO    (E) ERNEST

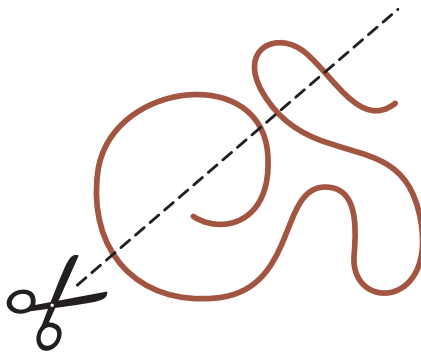
2. NIKA JE NARISALA NEKAJ 5-KRAKIH IN NEKAJ 6-KRAKIH ZVEZD (GLEJ SLIKO).



KOLIKO 5-KRAKIH ZVEZD JE NARISALA NIKA?

- (A) 2            (B) 3            (C) 4            (D) 5            (E) 8


3. ŽAN BO S ŠKARJAMI RAZREZAL VRV (GLEJ SLIKO).








NA KOLIKO KOŠOV BO ŽAN RAZREZAL VRV?

- (A) 2            (B) 3            (C) 4            (D) 5            (E) 6

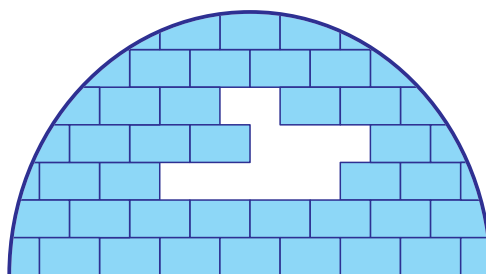
4. EMA JE NARISALA BELEGA METULJA (GLEJ SLIKO).



POTEM JE NANJ NALEPILA NALEPKE . KATEREGA IZMED NAVEDENIH METULJEV JE LAHKO NAREDILA EMA?



5. KOLIKO LEDENIH OPEK, KOT JE , MANJKA V IGLUJU (GLEJ SLIKO)?



(A) 6

(B) 7

(C) 8

(D) 9

(E) 10

6. VID JE NAPISAL 3 ŠTEVILA V 4 KVADRATKE (GLEJ SLIKO).

$$\boxed{7} + \boxed{\phantom{00}} = \boxed{2} + \boxed{8}$$

KATERO ŠTEVILO MORA VID NAPISATI V 2. KVADRATEK, DA BO RAČUN PRAVILEN?

- (A) 1                      (B) 2                      (C) 3                      (D) 4                      (E) 5

7. NA KATERI SLIKI JE JABOLK 2-KRAT TOLIKO KOT SLIV?

