

2. razred OŠ

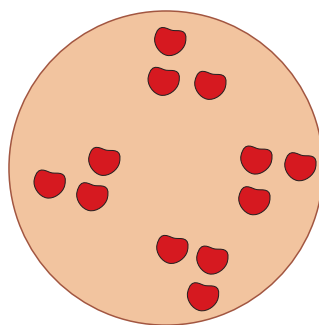
IME IN PRIIMEK _____

RAZRED _____ MENTOR _____

1	2	3	4	5	6	7	8	9	10

ZA REŠEVANJE IMAŠ NA VOLJO 45 MINUT. ODGOVORE ZAPIŠI V GORNJO PREGLEDNICO. ZA VSAK PRAVILEN ODGOVOR DOBIŠ 4 TOČKE. ZA VSAK NEPRAVILEN ODGOVOR TI ODŠTEJEMO 1 TOČKO. ČE PA PUSTIŠ POLJE V PREGLEDNICI PRAZNO, DOBIŠ 0 TOČK. DA BI SE IZOGNILI NEGATIVNEMU KONČNEMU DOSEŽKU, TI PRIZNAMO ZAČETNIH 10 TOČK.

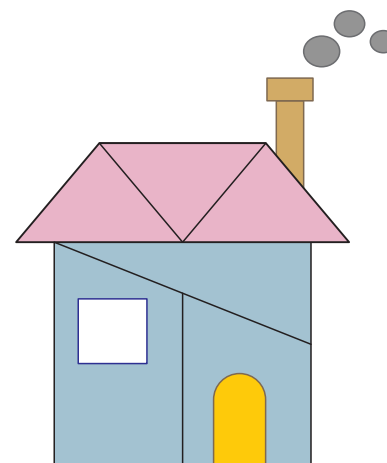
1. MAMA NEŽA JE SPEKLA ČEŠNJEVO PITO (GLEJ SLIKO). CELO PITO JE RAZDELILA OTROKOM, TAKO DA JE VSAK DOBIL KOS, KI JE IMEL NA VRHU 3 ČEŠNJE. KOLIKO OTROKOM JE MAMA NEŽA RAZDELILA PITO?




- (A) 3 (B) 4 (C) 5 (D) 6 (E) 8

2. KOLIKO TRIKOTNIKOV JE NA SLIKI HIŠE?

- (A) 2 (B) 3 (C) 4 (D) 5 (E) 6



3. NIKA JE NARISALA NEKAJ 5-KRAKIH, NEKAJ 6-KRAKIH IN NEKAJ 7-KRAKIH ZVEZD (GLEJ SLIKO).



KOLIKO 6-KRAKIH ZVEZD JE NARISALA NIKA?

- (A) 2 (B) 3 (C) 4 (D) 5 (E) 8

4. V DEŽELI LIKOV LAHKO ZAMENJAŠ 1 KROG ZA 3 TRIKOTNIKE ALI 1 TRIKOTNIK ZA 2 PRAVOKOTNIKA (GLEJ SLIKO). KOLIKO PRAVOKOTNIKOV LAHKO ZAMENJAŠ ZA 1 KROG?



- (A) =
- (B) =
- (C) =
- (D) =
- (E) =

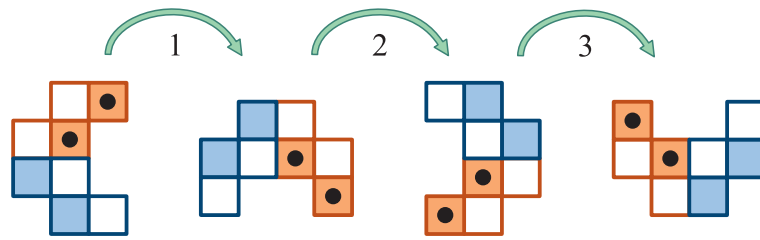
5. MAŠA IMA OGRLICO S 4 BISERI (GLEJ SLIKO).



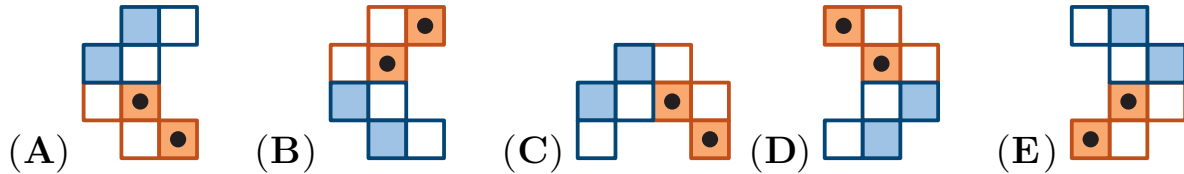
KATERA OGRLICA JE MAŠINA?

- (A) (B) (C) (D) (E)


6. NEJC JE 3-KRAT ZAVRTEL FIGURO (GLEJ SLIKO).



NATO JE FIGURO V ISTO SMER ZAVRTEL ŠE 2-KRAT. KAKO JE BILA NA KONCU OBRNJENA FIGURA?




7. ANA IMA STENSKO OMARO S 6 POLICAMI, NA 3 POLICE JE PO 1 IGRAČO ŽE POSTAVILA (GLEJ SLIKO).



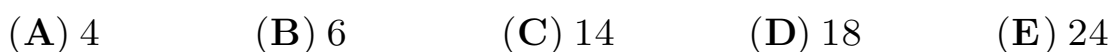
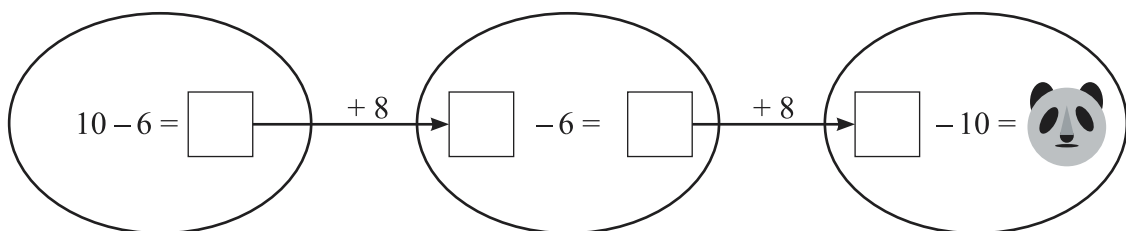
NA PREOSTALE 3 POLICE BO POSTAVILA PO 1 IGRAČO, TAKO DA BO



KATERO IGRAČO BO ANA POSTAVILA NA POLICO S SIVIM OZADJEM?



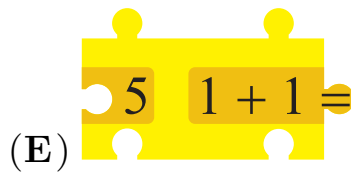

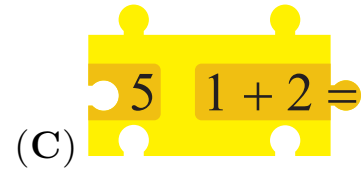


8. GAL MORA V PRAZNE KVADRATKE IN NA PANDO NAPISATI ŠTEVILA, TAKO DA BODO VSI RAČUNI PRAVILNI (GLEJ SLIKO). KATERO ŠTEVILO MORA GAL NAPISATI NA PANDO?



9. LUKA JE NA MIZO POSTAVIL 2 KOSA SESTAVLJANKE (GLEJ SLIKO).



KATEREGA IZMED NAVEDENIH KOSOV MORA LUKA POSTAVITI MED KOSA NA SLIKI, DA BOSTA TAKO NASTALA RAČUNA PRAVILNA?



10. NAL IN LAN STA SEDELA NA VRTILJAKU, KO SE JE TA PRVIČ ZA TRENUTEK USTAVIL (GLEJ DESNO SLIKO). VRTILJAK SE JE NATO ZAČEL VRTETI, A SE JE SPET ZA TRENUTEK USTAVIL. NA KATERI IZMED SPODNJIH SLIK JE VRTILJAK, KO SE JE TA DRUGIČ USTAVIL?

