

### 3. razred OŠ

IME IN PRIIMEK \_\_\_\_\_

RAZRED \_\_\_\_\_ MENTOR \_\_\_\_\_

1	2	3	4	5	6	7	8	9	10

ZA REŠEVANJE IMAŠ NA VOLJO 45 MINUT. ODGOVORE ZAPIŠI V GORNJO PREGLEDNICO. ZA VSAK PRAVILEN ODGOVOR DOBIŠ 4 TOČKE. ZA VSAK NEPRAVILEN ODGOVOR TI ODŠTEJEMO 1 TOČKO. ČE PA PUSTIŠ POLJE V PREGLEDNICI PRAZNO, DOBIŠ 0 TOČK. DA BI SE IZOGNILI NEGATIVNEMU KONČNEMU DOSEŽKU, TI PRIZNAMO ZAČETNIH 10 TOČK.

1. ZA KROGE IN KVADRATE VELJA ENAKOST:

$$\bullet + \bullet + \bullet + \bullet + \blacksquare = \blacksquare + \blacksquare + \blacksquare + \bullet$$

KATERA IZMED NAVEDENIH ENAKOSTI JE PRAVILNA?

(A)  $\bullet = \blacksquare$


(B)  $\blacksquare + \blacksquare + \blacksquare = \bullet$

(C)  $\bullet + \bullet = \blacksquare$

(D)  $\bullet = \blacksquare + \blacksquare$

(E)  $\bullet + \bullet + \bullet = \blacksquare + \blacksquare$

2. URŠKA JE PO NESREČI RAZBILA SESTRINO SLIKO NA 10 KOSOV (GLEJ SLIKO). KOLIKO KOSOV SLIKE IMA NATANKO 4 STRANICE?




- (A) 2            (B) 3            (C) 4            (D) 5            (E) 6






3. ROK JE PRAVILNO IZRAČUNAL VSOTI ŠTEVIL IN REZULTATA ZAPISAL V PREGLEDNICO. REBEKA JE NATO POBARVALA DESNO POLJE PREGLEDNICE (GLEJ SLIKO). KATERO ŠTEVILO JE ROK ZAPISAL V POBARVANO POLJE PREGLEDNICE?

+	10	7
5	15	

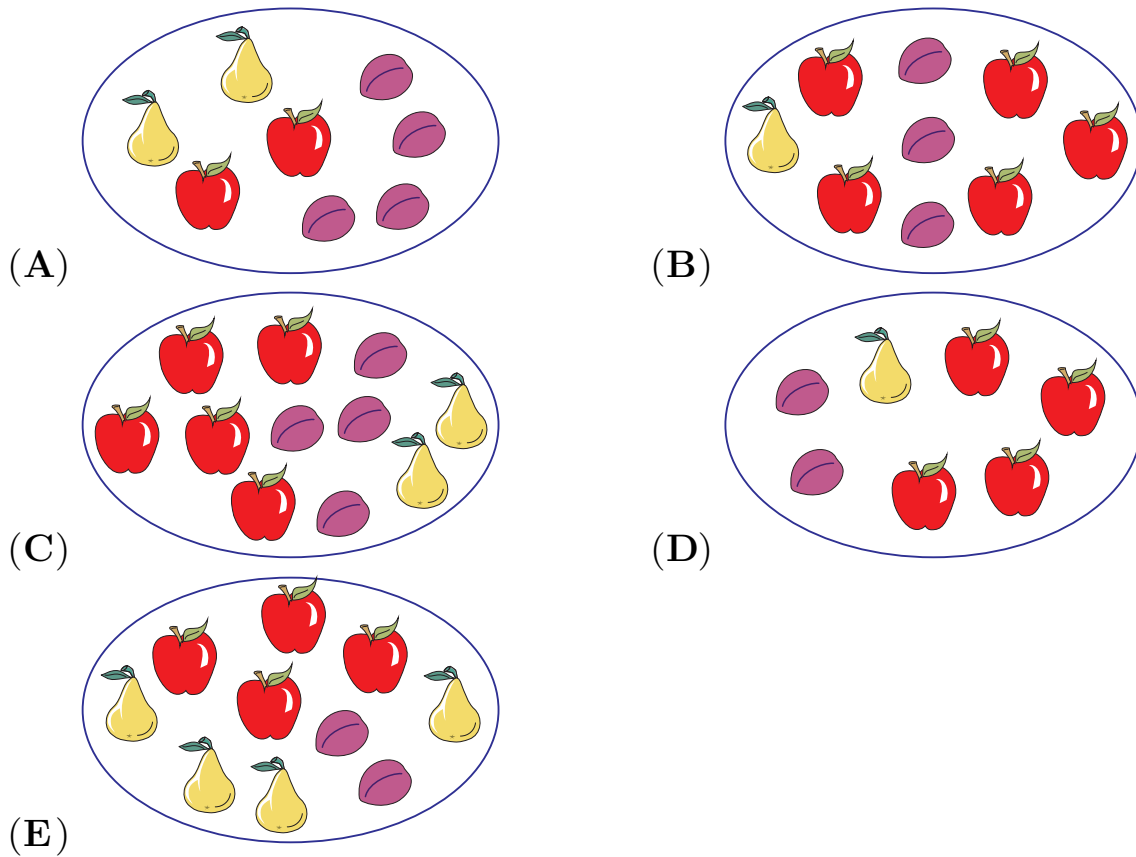
- (A) 10            (B) 12            (C) 15            (D) 17            (E) 25

4. NEJC JE DELNO POČRNIL 2 PROSOJNA LISTA PAPIRJA IN JU POSTAVIL POLEG RISBE (GLEJ SLIKO). NATO JE S TEMA PROSOJNIMA LISTOMA PAPIRJA, NE DA BI JU OBRAČAL, PREKRIL RISBO NA SREDINI. KATERA SLIKA NA RISBI NI BILA PREKRITA S POČRNJENIM DELOM?

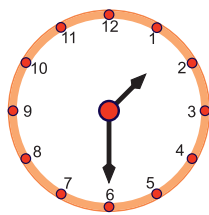


- (A)     (B)     (C)     (D)     (E) 

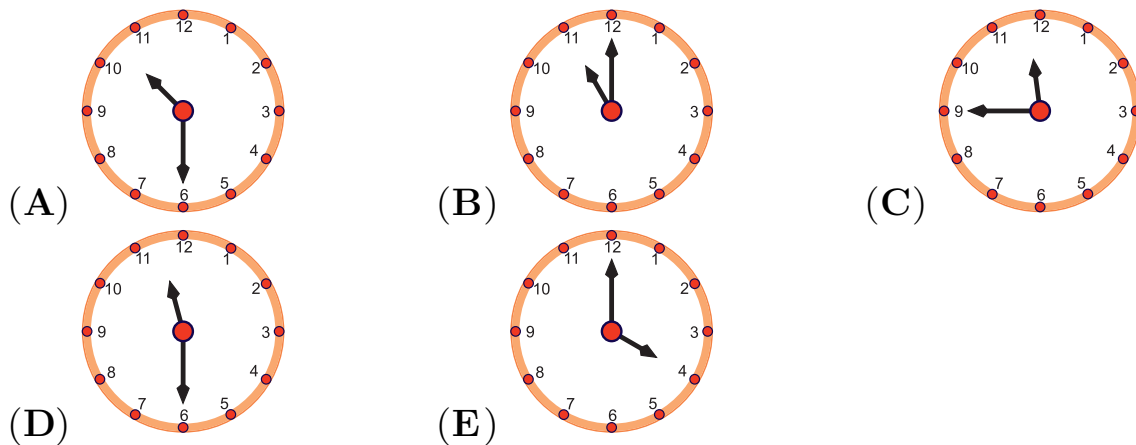
5. NA KATERI SLIKI JE JABOLK 2-KRAT TOLIKO KOT SLIV, SLIV PA 2-KRAT TOLIKO KOT HRUŠK?



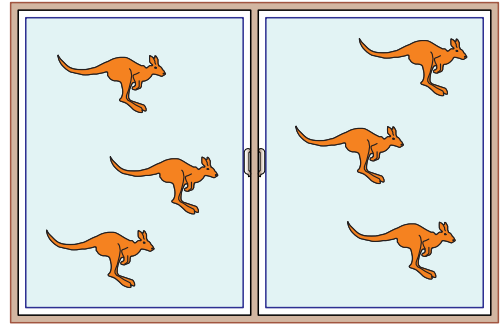
6. ULA JE OB POL DVEH POGLEDALA NA URO (GLEJ SLIKO).



KOLIKO JE BILA URA DVE URI IN POL PRED TEM?



7. ANA JE SKOZI OKNO VIDELA POL TOLIKO KENGURUJEV, KOLIKOR JIH ŽIVI V PARKU (GLEJ SLIKO). KOLIKO KENGURUJEV ŽIVI V PARKU?



- (A) 12 (B) 14 (C) 16 (D) 18 (E) 20


8. ZARJA IN ŽIVA STA STALI V VRSTI, ZARJA JE BILA V VRSTI TIK PRED ŽIVO (GLEJ SLIKO).



PRED ZARJO JE BILO V VRSTI 7 OTROK, VSEH OTROK V VRSTI JE BILO 11. KOLIKO OTROK JE BILO V VRSTI ZA ŽIVO?

- (A) 2 (B) 3 (C) 4 (D) 5 (E) 6

9. PASTIR PAVLE IMA 1 KONJA, 1 KRAVO IN 4 PUJSE (GLEJ SLIKO). KOLIKO KRAV MORA KUPITI PASTIR PAVLE, DA BO VSEH ŽIVALI SKUPAJ 2-KRAT TOLIKO KOT PUJSOV?



- (A) 0 (B) 1 (C) 2 (D) 3 (E) 4

10. HANA IMA 2 ENAKI PLOŠČICI. VSAKA JE NA SPODNJI STRANI POVSEM ČRNA, NA ZGORNJI STRANI PA BELA IN ČRNA (GLEJ SLIKO). KATERO FIGURO LAHKO HANA OBLIKUJE S SVOJIMA 2 PLOŠČICAMA?

