

1. razred OŠ

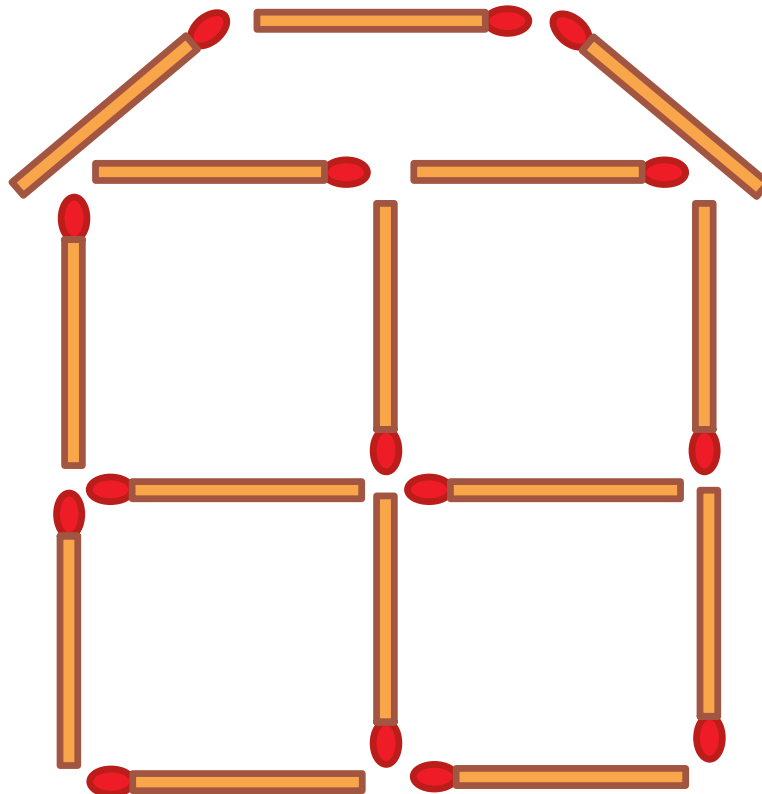
IME IN PRIIMEK _____

RAZRED _____ MENTOR _____

1	2	3	4	5	6	7

ZA REŠEVANJE IMAŠ NA VOLJO 45 MINUT. ODGOVORE ZAPIŠI V GORNJO PREGLEDNICO. ZA VSAK PRAVILEN ODGOVOR DOBIŠ 4 TOČKE. ZA VSAK NEPRAVILEN ODGOVOR TI ODŠTEJEMO 1 TOČKO. ČE PA PUSTIŠ POLJE V PREGLEDNICI PRAZNO, DOBIŠ 0 TOČK. DA BI SE IZOGNILI NEGATIVNEMU KONČNEMU DOSEŽKU, TI PRIZNAMO ZAČETNIH 7 TOČK.

1. MAŠA JE Z VŽIGALICAMI OBLIKOVALA HIŠO (GLEJ SLIKO). KOLIKO VŽIGALIC JE UPORABILA?



(A) 13

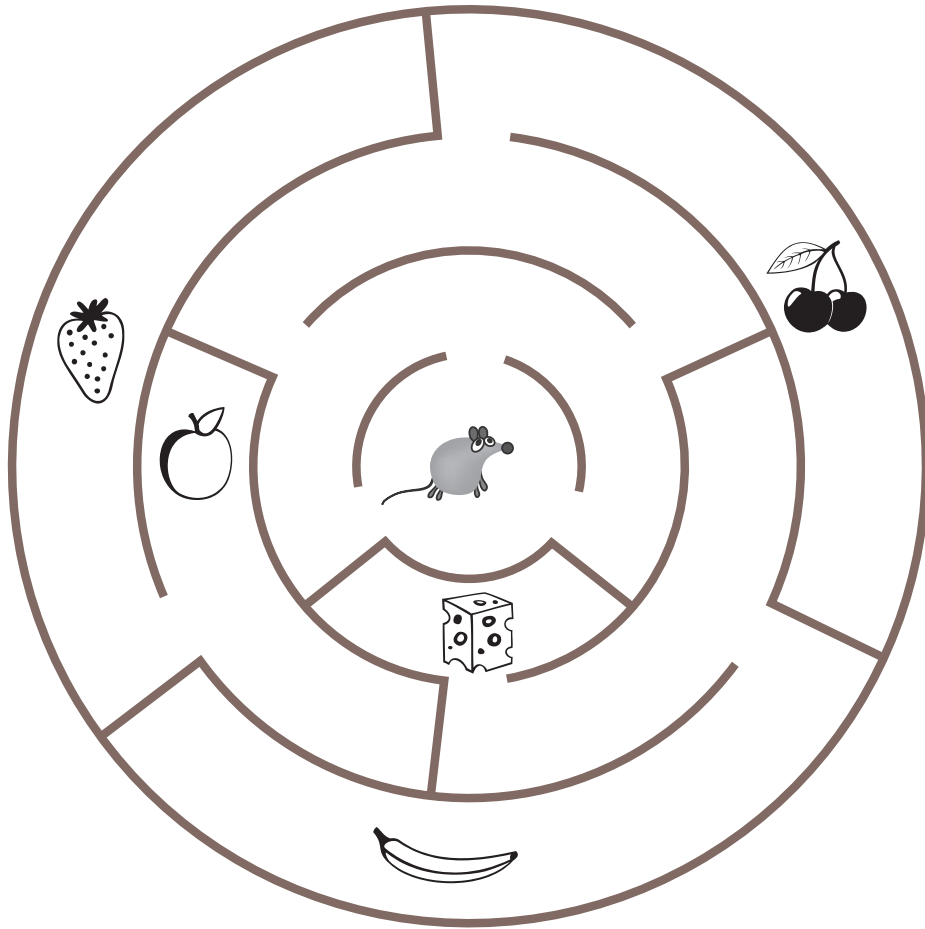
(B) 15






(C) 17

(D) 18


(E) 19

2. MIŠKA FRANČIŠKA JE V LABIRINTU (GLEJ SLIKO). DO KATERE DOBROTE LAHKO PRIDE?



- (A)  (B)  (C)  (D)  (E) 


3. NA PLADNJU JE 6 JABOLK (GLEJ SLIKO).



LEA, LAN IN LARA BODO S PLADNJA VZELI VSAK 1 JABOLKO. KOLIKO JABOLK BO OSTALO NA PLADNJU?

- (A) 2 (B) 3 (C) 4 (D) 5 (E) 6

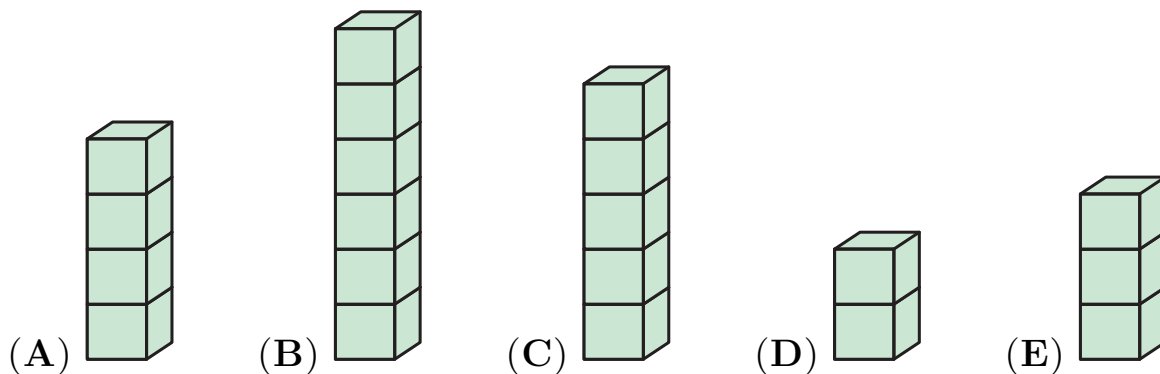
4. NA VEJI SO SEDELI 4 VRABCI, NEKATERI SO GLEDALI V LEVO, NEKATERI V DESNO (GLEJ SLIKO).



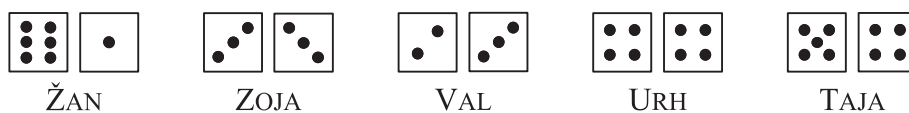
VSAK VRABEC JE ČIVKNIL TOLIKOKRAT, KOLIKOR VRABCEV JE VIDEL. VRABEC VLADISLAV JE, NA PRIMER, ČIVKNIL 2-KRAT. KOLIKOKRAT JE ČIVKNIL VRABEC RADISLAV?

- (A) 1-KRAT (B) 2-KRAT (C) 3-KRAT (D) 4-KRAT (E) 5-KRAT

5. JURE JE S KOCKAMI SESTAVLJAL STOLPCE. NAJPREJ JE SESTAVIL NAJVIŠJI STOLPEC, NATO NAJNIŽJI STOLPEC. TRETJEGA PO VRSTI JE SESTAVIL TISTEGA, KI STOJI LEVO OD NAJVIŠJEGA. KATERI STOLPEC JE JURE SESTAVIL TRETJEGA PO VRSTI?




6. ŽAN, ZOJA, VAL, URH IN TAJA SO SE IGRALI S KOCKAMI. VSAK JE ZAKOTALIL 2 KOCKI IN NATO SEŠTEL ŠTEVILO PIK NA VRHU SVOJIH 2 KOCK (GLEJ SLIKO).



KDO JE DOBIL NAJVEČJI SEŠTEVEK PIK NA VRHU SVOJIH 2 KOCK?

- (A) ŽAN (B) ZOJA (C) VAL (D) URH (E) TAJA

7. KATERA TRDITEV PRAVILNO OPISUJE SLIKO?



- (A) KROGOV JE TOLIKO KOT KVADRATOV.
- (B) KROGOV JE MANJ KOT TRIKOTNIKOV.
- (C) KVADRATOV JE VEČ KOT TRIKOTNIKOV.
- (D) TRIKOTNIKOV JE TOLIKO KOT KROGOV.
- (E) KROGOV JE 2-KRAT TOLIKO KOT TRIKOTNIKOV.