

### 3. razred OŠ

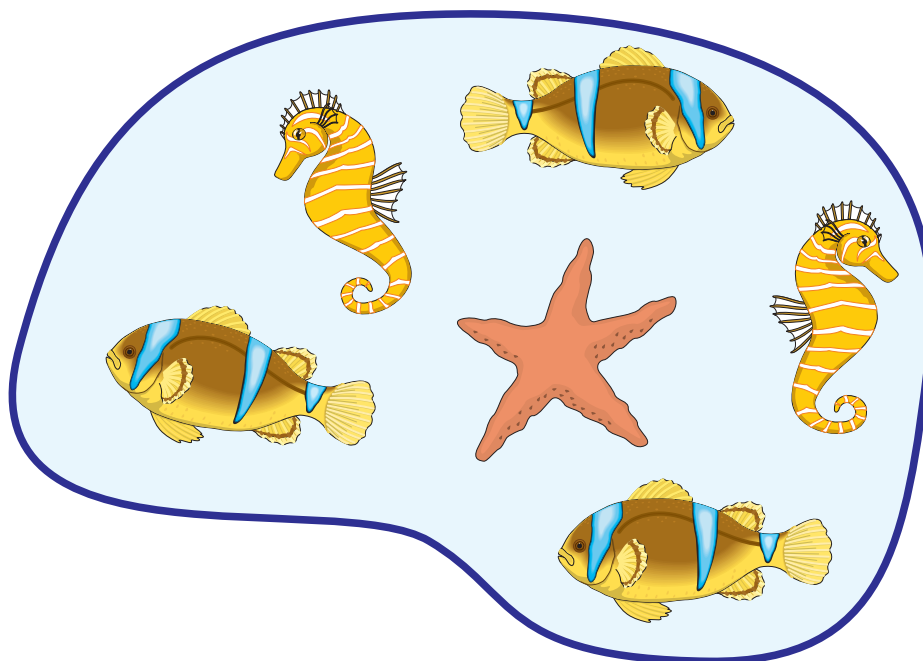
IME IN PRIIMEK \_\_\_\_\_

RAZRED \_\_\_\_\_ MENTOR \_\_\_\_\_

1	2	3	4	5	6	7	8	9	10

ZA REŠEVANJE IMAŠ NA VOLJO 45 MINUT. ODGOVORE ZAPIŠI V GORNJO PREGLEDNICO. ZA VSAK PRAVILEN ODGOVOR DOBIŠ 4 TOČKE. ZA VSAK NEPRAVILEN ODGOVOR TI ODŠTEJEMO 1 TOČKO. ČE PA PUSTIŠ POLJE V PREGLEDNICI PRAZNO, DOBIŠ 0 TOČK. DA BI SE IZOGNILI NEGATIVNEMU KONČNEMU DOSEŽKU, TI PRIZNAMO ZAČETNIH 10 TOČK.


1. V PODVODNI JAMI SO BILI NAJPREJ 2 MORSKA KONJIČKA, 1 MORSKA ZVEZDA IN 3 RIBE (GLEJ SLIKO).



NATO SO SE JIM PRIDRUŽILI ŠE 1 MORSKI KONJIČEK, 1 MORSKA ZVEZDA IN 1 RIBA. KOLIKO ŽIVALI JE BILO NA KONCU V PODVODNI JAMI?

- (A) 6            (B) 7            (C) 8            (D) 9            (E) 12

2. KOLIKO VRVIC JE NA SLIKI?



- (A) 2                      (B) 3                      (C) 4                      (D) 5                      (E) 6

3. KENGURU GORAN JE STAR 1 LETO IN 3 MESECE. ČEZ KOLIKO MESECEV BO KENGURU GORAN STAR NATANKO 2 LETI?

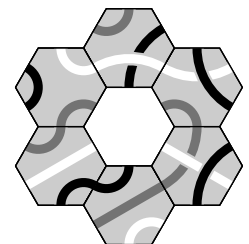
- (A) 3                      (B) 5                      (C) 7                      (D) 8                      (E) 9

4. BABICA JOŽICA IMA NEKAJ KOKOŠI IN 1 MAČKA. BABIČINE ŽIVALI IMAJO SKUPAJ 10 NOG. KOLIKO KOKOŠI IMA BABICA JOŽICA?

- (A) 1                      (B) 2                      (C) 3                      (D) 6                      (E) 10

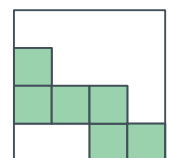
5. KATERO PLOŠČICO MORA MACA POLOŽITI NA SREDINO FIGURE (GLEJ SLIKO), DA SE BODO STIKALE SAMO ČRTE ISTE BARVE?

- (A)  (B)  (C)  (D)  (E) 

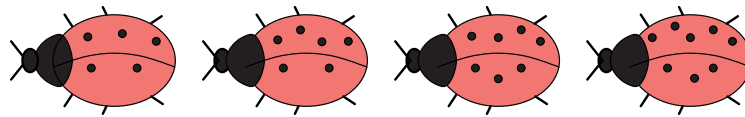


6. TIM BI RAD Z ENAKO VELIKIMI PLOŠČICAMI KVADRATNE OBLIKE POKRIL VEČJI KVADRAT. NEKAJ PLOŠČIC JE ŽE POLOŽIL (GLEJ SLIKO). NAJMANJ KOLIKO PLOŠČIC MORA ŠE POLOŽITI TIM?

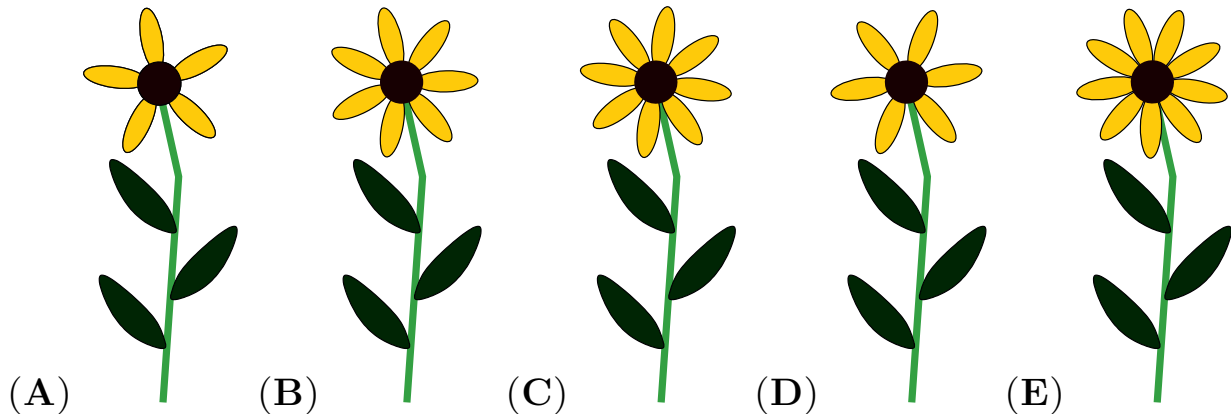
- (A) 6                      (B) 8                      (C) 9                      (D) 10                      (E) 12



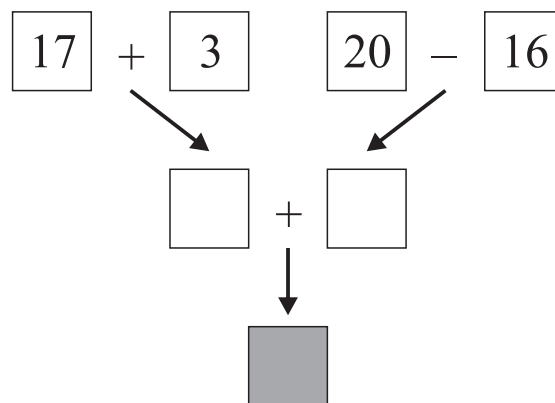
7. NA CVETLIČNO GREDICO SO PRILETELE 4 PIKAPOLONICE (GLEJ SLIKO).



VSAKA PIKAPOLONICA SE JE USEDLA NA TISTO CVETLICO, KI JE IMELA TOLIKO CVETNIH LISTOV KOT PIKAPOLONICA PIK. NA KATERO CVETLICO SE ZAGOTOVO NI USEDLA NOBENA IZMED 4 PIKAPOLONIC?



8. KATERO ŠTEVILO MORA FILIP NAPISATI V OSENČENI KVADRAT (GLEJ SLIKO), DA BODO VSI RAČUNI PRAVILNI?

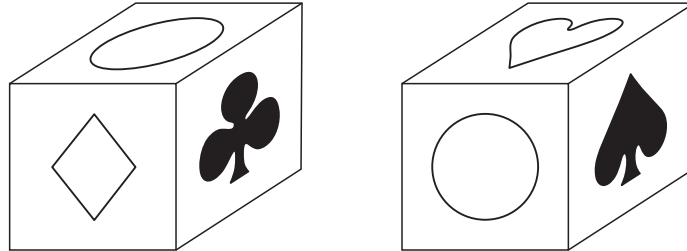


- (A) 24      (B) 28      (C) 36      (D) 56      (E) 80

9. NAJA IN 5 NJENIH PRIJATELJIC SO SI RAZDELILE NEKAJ JABOLK. VSAKA JE DOBILA POL JABOLKA. KOLIKO JABOLK SO SI RAZDELILE NAJA IN NJENIH 5 PRIJATELJIC?

- (A) 2 IN POL    (B) 3      (C) 4      (D) 5      (E) 6

10. NA VSAKI IZMED 6 MEJNIH PLOSKEV ZALINE KOCKE JE 1 SIMBOL: ♣, ♦, ♥, ♠, □ ALI ○, VSAK IZMED TEH 6 SIMBOLOV JE NA 1 MEJNI PLOSKVI (GLEJ SLIKO ZALINE KOCKE V 2 RAZLIČNIH POLOŽAJIH).



KATERI SIMBOL JE NA NASPROTNI MEJNI PLOSKVI KOT ○?

(A) □

(B) ♦

(C) ♥

(D) ♠

(E) ♣