

1. razred OŠ

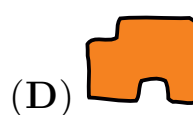
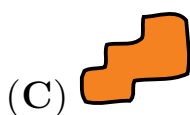
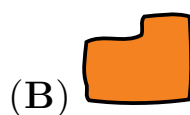
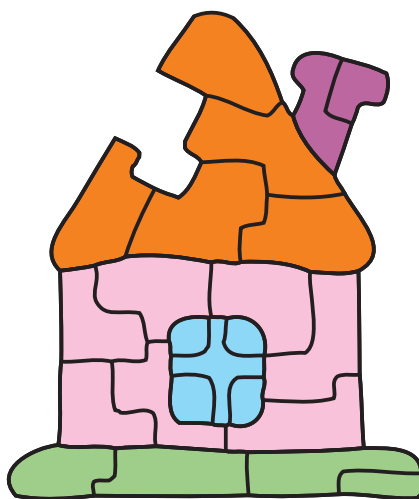
IME IN PRIIMEK _____


RAZRED _____ MENTOR _____

1	2	3	4	5	6	7

ZA REŠEVANJE IMAŠ NA VOLJO 45 MINUT. ODGOVORE ZAPIŠI V GORNJO PREGLEDNICO. ZA VSAK PRAVILEN ODGOVOR DOBIŠ 4 TOČKE. ZA VSAK NEPRAVILEN ODGOVOR TI ODŠTEJEMO 1 TOČKO. ČE PA PUSTIŠ POLJE V PREGLEDNICI PRAZNO, DOBIŠ 0 TOČK. DA BI SE IZOGNILI MOREBITNEMU NEGATIVNEMU KONČNEMU DOSEŽKU, SE TI PRIZNA ZAČETNIH 7 TOČK.

1. ROK JE SESTAVIL HIŠO, NATO PA JE MAČEK HENRIK EN KOS SESTAVLJANKE ODNESEL (GLEJ SLIKO). KATERI KOS SESTAVLJANKE JE ODNESEL MAČEK HENRIK?






2. KOLIKO TRIKOTNIKOV JE NA SLIKI?

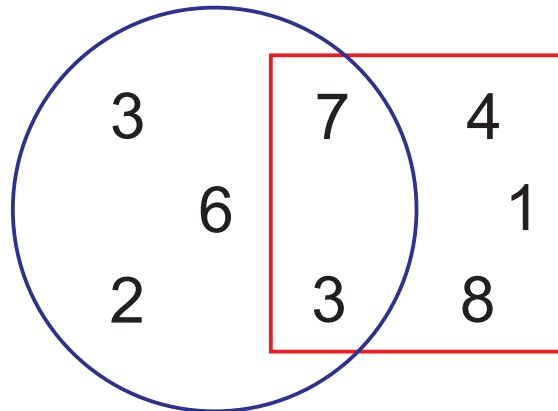
- (A) 3 (B) 4 (C) 5 (D) 6 (E) 7

3. NA SLIKI JE 5 PIKAPOLONIC. KOLIKO PIK SKUPAJ IMA TEH 5 PIKAPOLONIC?




- (A) 17 (B) 18 (C) 19 (D) 20 (E) 21

4. ANA JE NARISALA KVADRAT IN KROG TER NAPISALA NEKAJ ŠTEVIL (GLEJ SLIKO). SEŠTELA JE ŠTEVILA, KI NISO V KVADRATU. KATERO ŠTEVILO JE DOBILA ANA?



- (A) 10 (B) 11 (C) 13 (D) 21 (E) 23

5. SREDI JEZERA LEŽI OTOK, NA KATEREM RASTE PALMA. NEKAJ ŽAB PLAVA V JEZERU, NEKAJ PA JIH SEDI NA OTOKU (GLEJ SLIKO). KOLIKO ŽAB SEDI NA OTOKU?



- (A) 1 (B) 2 (C) 3 (D) 4 (E) 5

6. NA PETRINEM ROJSTNEM DNEVU JE BILO SKUPAJ 14 OTROK. PETRINA MAMA JE ZA OTROKE SPEKLA 2 PICE IN NATO VSAKO PICO RAZREZALA NA 8 KOŠOV. VSAK OTROK JE POJEDEL 1 KOŠ PICE. KOLIKO KOŠOV PICE JE OSTALO?

- (A) 5 (B) 4 (C) 3 (D) 2 (E) 1

7. TIA BO V OBLAKE NAPISALA ŠTEVILA, TAKO DA BODO VSI RAČUNI PRAVILNI (GLEJ SLIKO). KATERO ŠTEVILO BO TIA NAPISALA V POBARVANI OBLAK?



- (A) 2 (B) 4 (C) 5 (D) 6 (E) 7