

### 3. razred OŠ

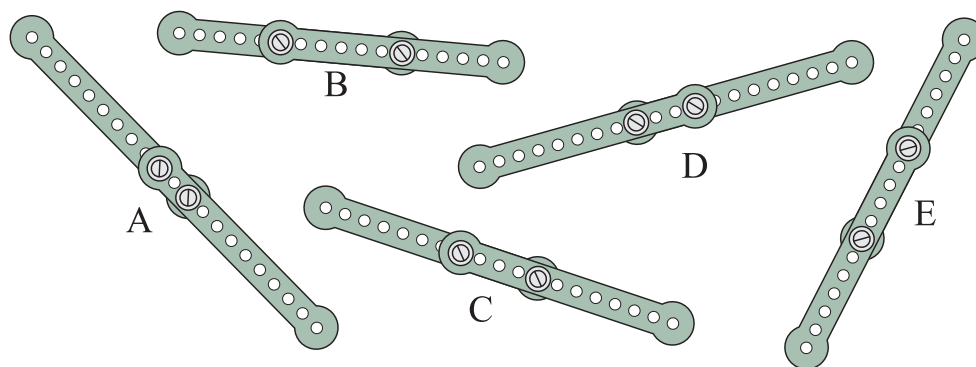

IME IN PRIIMEK \_\_\_\_\_

RAZRED \_\_\_\_\_ MENTOR \_\_\_\_\_

1	2	3	4	5	6	7	8	9	10

ZA REŠEVANJE IMAŠ NA VOLJO 45 MINUT. ODGOVORE ZAPIŠI V GORNJO PREGLEDNICO. ZA VSAK PRAVILEN ODGOVOR DOBIŠ 4 TOČKE. ZA VSAK NEPRAVILEN ODGOVOR TI ODŠTEJEMO 1 TOČKO. ČE PA PUSTIŠ POLJE V PREGLEDNICI PRAZNO, DOBIŠ 0 TOČK. DA BI SE IZOGNILI MOREBITNEMU NEGATIVNEMU KONČNEMU DOSEŽKU, SE TI PRIZNA ZAČETNIH 10 TOČK.

1. KAJA JE IMELA 10 ENAKIH KOVINSKIH PALIC (GLEJ DESNO SLIKO). NATO JE PO 2 PALICI PRIČVRSTILA SKUPAJ IN DOBILA 5 DALJŠIH PALIC (GLEJ SPODNJO SLIKO). KATERA IZMED 5 DALJŠIH PALIC JE NAJKRAJŠA?



(A) A

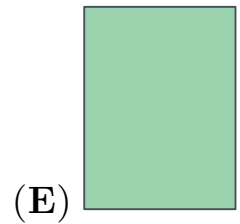
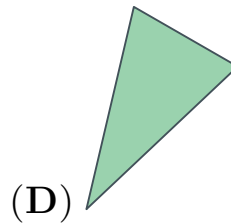
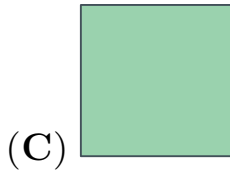
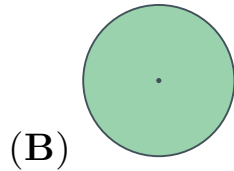
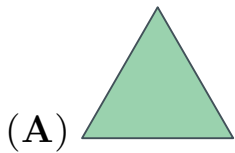
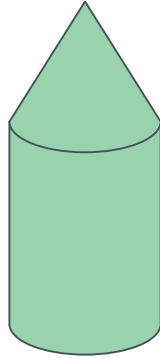
(B) B

(C) C

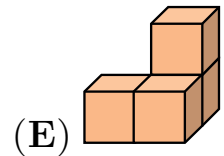
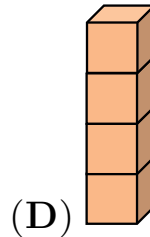
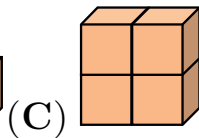
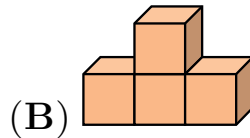
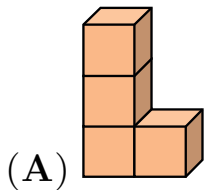
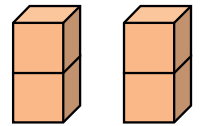
(D) D

(E) E

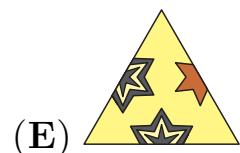
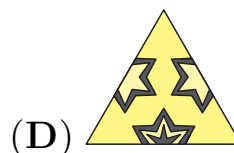
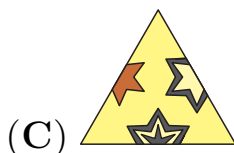
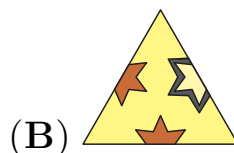
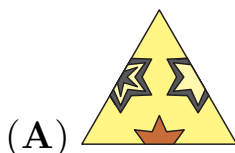

2. SIMON JE NAREDIL STOLP (GLEJ SLIKO). KAKO IZGLEDA TA STOLP, ČE GA POGLEDAMO OD ZGORAJ?



3. ŽIVA IMA 2 BLOKA, V VSAKEM STA ZLEPLJENI 2 KOCKI (GLEJ DESNO SLIKO). KATERE IZMED SPODNJIH FIGUR ŽIVA NE MORE OBLIKOVATI S TEMA 2 BLOKOMA?



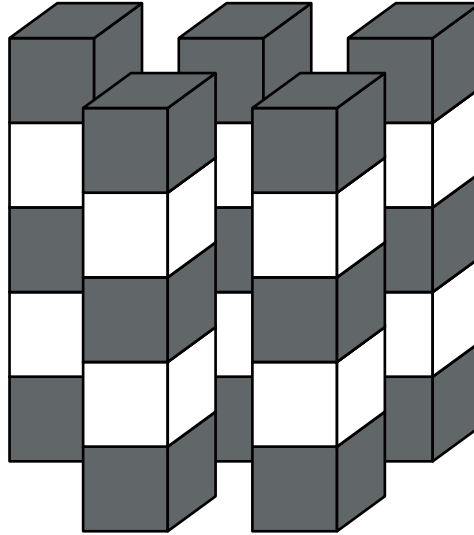
4. KATERI IZMED SPODNJIH KOSOV MANJKA V SESTAVLJANKI (GLEJ SLIKO)?



5. MAČEK MAKS JE V PONEDELJEK UJEL 2 MIŠI. V NASLEDNJIH 2 DNEH JE VSAK DAN UJEL 1 MIŠ VEČ KOT DAN PRED TEM. KOLIKO MIŠI SKUPAJ JE MAČEK MAKS UJEL V PONEDELJEK, TOREK IN SREDO?

- (A) 3                      (B) 4                      (C) 6                      (D) 8                      (E) 9

6. NIKA JE OBLIKOVALA 5 ENAKIH STOLPOV S SIVIMI IN BELIMI KOCKAMI (GLEJ SLIKO). KOLIKO VEČ SIVIH KOT BELIH KOCK JE UPORABILA NIKA?

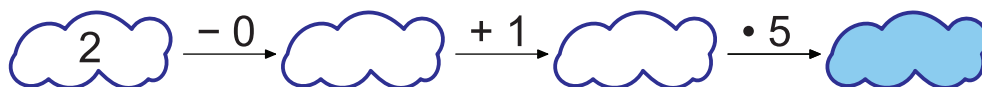


- (A) 1                      (B) 3                      (C) 5                      (D) 10                      (E) 15

7. DAVID SE JE ODPRAVIL NA POT VČERAJ POPOLDAN OB 16.32, NA CILJ PA JE PRISPEL DANES ZJUTRAJ OB 6.11. KOLIKO ČASA JE BIL DAVID NA POTI?

- (A) 2 URI 21 MINUT                      (B) 13 UR 21 MINUT  
 (C) 13 UR 39 MINUT                      (D) 14 UR 21 MINUT  
 (E) 14 UR 39 MINUT

8. TIA BO V OBLAKE NAPISALA ŠTEVILA, TAKO DA BODO VSI RAČUNI PRAVILNI (GLEJ SLIKO). KATERO ŠTEVILO BO TIA NAPISALA V POBARVANI OBLAK?



- (A) 6                      (B) 7                      (C) 8                      (D) 10                      (E) 15

9. JAN JE V RAČUNIH NAMESTO NEKE ŠTEVKE NARISAL TRIKOTNIK, NAMESTO NEKE DRUGE ŠTEVKE PA JE NARISAL KVADRAT (GLEJ SLIKO). NAMESTO KATERE ŠTEVKE JE JAN NARISAL KVADRAT?

$$\triangle + 4 = 7$$

$$\square + \triangle = 9$$

- (A) 2      (B) 3      (C) 4      (D) 5      (E) 6

10. KO JE LUCIJANA VSTOPILA V TRGOVINO, JE IMELA V DENARNICI NEKAJ EVROV (GLEJ SLIKO). V TRGOVINI JE KUPILA ŽOGO IN PLAČALA 7 EVROV. NA KATERI SLIKI JE LAHKO LUCIJANINA DENARNICA, KO JE ZAPUŠČALA TRGOVINO?

