

2. razred OŠ


IME IN PRIIMEK _____

RAZRED _____ MENTOR _____

1	2	3	4	5	6	7	8	9	10


ZA REŠEVANJE IMAŠ NA VOLJO 45 MINUT. ODGOVORE ZAPIŠI V GORNJO PREGLEDNICO. ZA VSAK PRAVILEN ODGOVOR DOBIŠ 4 TOČKE. ZA VSAK NEPRAVILEN ODGOVOR TI ODŠTEJEMO 1 TOČKO. ČE PA PUSTIŠ POLJE V PREGLEDNICI PRAZNO, DOBIŠ 0 TOČK.

1. JUŠ JE S 25 MAJHNIMI KVADRATNIMI PLOŠČICAMI OBLIKOVAL KVADRAT. NJEGOVA SESTRA NELI JE NATO VZELA NEKAJ PLOŠČIC, IZ KATERIH JE BIL OBLIKOVAN KVADRAT (GLEJ SLIKO). KOLIKO PLOŠČIC JE VZELA NELI?



- (A) 6 (B) 7 (C) 8 (D) 10 (E) 12

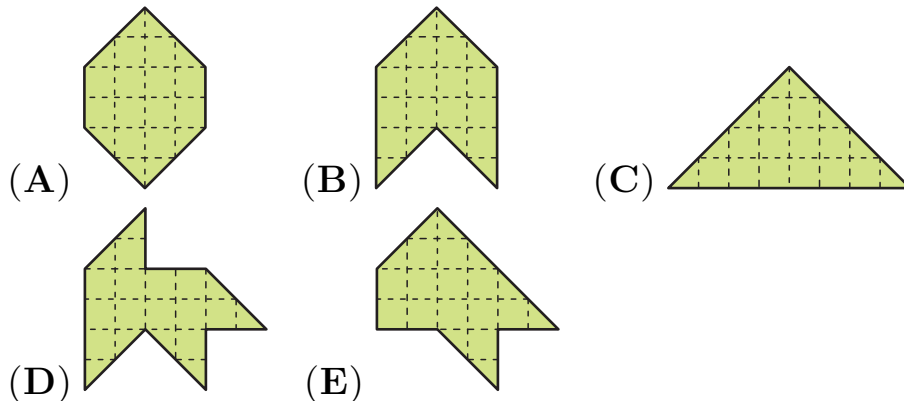
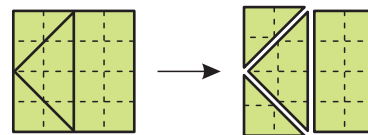
2. 1 DINOZAUERČEK TEHTA TOLIKO KOT 2 LEVČKA. 1 LEVČEK TEHTA TOLIKO KOT 2 RAČKI (GLEJ SLIKO).



KOLIKO RAČK TEHTA TOLIKO KOT 1 DINOZAUERČEK?

- (A) 1 (B) 2 (C) 3 (D) 4 (E) 5

3. JAN JE KVADRAT RAZREZAL NA 4 DELE (GLEJ DESNO SLIKO). KATEREGA IZMED SPODNJIH LIKOV JAN NI MOGEL OBLIKOVATI IZ DOBLJENIH 4 DELOV?




4. ROBOT ROK ZNA NAPISATI SAMO ŠTEVKE 1, 3 IN 5. KOLIKO RAZLIČNIH ŠTEVIL, VEČJIH OD 11 IN MANJŠIH OD 19, LAHKO NAPIŠE ROBOT ROK?

- (A) 1 (B) 2 (C) 3 (D) 7 (E) 8


5. PELIKANI PELI, VELI IN KAN SO SE POGOVARJALI, KOLIKO RIB SO ULOVILI (GLEJ SLIKO).

UJEL SEM VEČ RIB
KOT PELI IN MANJ RIB
KOT KAN.

UJEL SEM 2 RIBI.




PELI



VELI

UJEL SEM 4 RIBE.

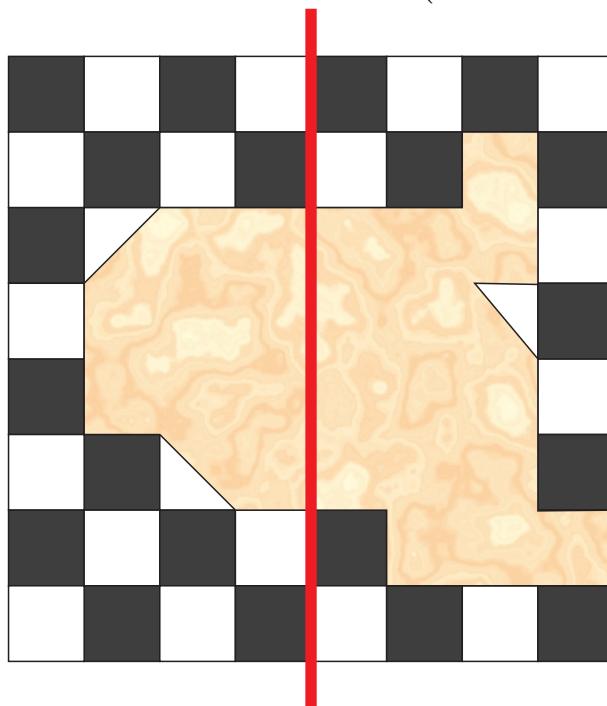


KAN

KOLIKO RIB SKUPAJ SO ULOVILI PELIKANI PELI, VELI IN KAN?

- (A) 1 (B) 2 (C) 4 (D) 9 (E) 12

6. TILNU SE JE POŠKODOVALA ŠAHOVNICA (GLEJ SLIKO).



KOLIKO ČRNIH POLJ MANJKA NA ŠAHOVNICI LEVO OD ČRTE?

- (A) 5 (B) 6 (C) 7 (D) 8 (E) 11

7. RENATA BO ŠTEVKE 1, 2 IN 3 ZAPISALA V KVADRATKE


$$\square\square + \square = ,$$

V VSAK KVADRATEK ENO ŠTEVKO. NAJVEČ KOLIKO JE LAHKO VSOTA DOBLJENEGA RAČUNA?

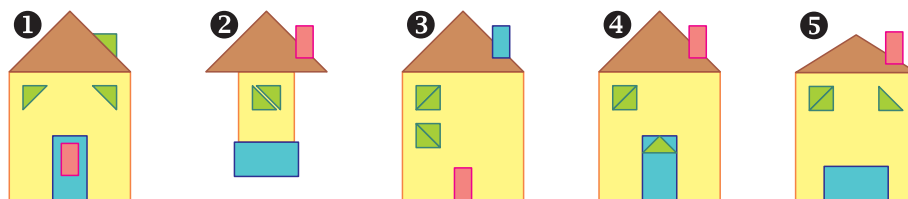
- (A) 6 (B) 15 (C) 24 (D) 33 (E) 35

8. LUKA JE NARISAL ZVEZDO V KROGU (GLEJ DESNO SLIKO).
NA KATERI SLIKI JE OSREDNJI DEL LUKOVE ZVEZDE V KROGU?

- (A)  (B)  (C)  (D)  (E) 



9. TILEN JE IZ PRAVOKOTNIH IN TRIKOTNIH PLOŠČIC OBLIKOVAL 5 HIŠ (GLEJ SLIKO).



ZA KATERI 2 HIŠI JE TILEN UPORABIL ENAKE PLOŠČICE?

- (A) 1 IN 4 (B) 3 IN 4 (C) 2 IN 5 (D) 1 IN 5 (E) 2 IN 4

10. MARUŠA JE NAPISALA 6 RAČUNOV ODŠTEVANJA, KATERIH REZULTATI SO ŠTEVILA OD 1 DO 6. NATO JE PO VRSTI POVEZALA PIKE, ZAČELA JE PRI PIKI, PRI KATERI JE RAZLIKA ENAKA 1, IN KONČALA PRI PIKI, PRI KATERI JE RAZLIKA ENAKA 6.

$$3 - 2 \bullet \quad \bullet 5 - 3$$

$$9 - 6 \bullet \quad \bullet 11 - 7$$

$$13 - 8 \bullet \quad \bullet 19 - 13$$

KATERO IZMED NASLEDNJIH LOMLJENIH ČRT JE LAHKO NARISALA MARUŠA?

